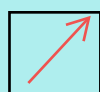







SOLD

@备考首选

通关无忧 轻松拿下考试

-  基础阶段—专业知识
-  刷题阶段—重点题库
-  冲刺阶段—押题点睛
-  考点覆盖—精编习题
-  紧扣考纲—直击考点
-  历年真题—押题抢分

本封面内容仅供参考，实际内容请认真预览本电子文本

祝您考试顺利

推拿学试题+答案

- 1、 下列关于揉法的动作结构, 描述错误的是
- A、 指面或掌面自然吸定一定部位
 - B、 上肢关节放松
 - C、 不宜带动皮下
 - D、 前臂发力
 - E、 做回旋摆动

答案: C

- 2、 下列关于擦法的注意事项不正确的是
- A、 压力越大, 效果越好
 - B、 暴露施术部位, 涂润滑剂
 - C、 线路平直, 不可偏歪
 - D、 速度要快
 - E、 一般作为结束手法

答案: A

- 3、 以下手法用于治疗腹痛的是
- A、 开天门
 - B、 推坎宫
 - C、 推三关
 - D、 清天河水
 - E、 拿肚角

答案: E

- 4、 X 线片无明显改变的疾病是:
- A、 腰椎间盘突出症
 - B、 退行性脊柱炎
 - C、 慢性腰肌劳损
 - D、 类风湿性关节炎
 - E、 颈椎病

答案: C

- 5、 下列关于拨法的动作结构描述错误的是
- A、 拇指指端着力
 - B、 主要用拇指发力下压
 - C、 压至局部酸胀感
 - D、 垂直于组织走向拨动
 - E、 可单方向也可往返操作

答案: B

6、下列哪项不是推法的临床分类

- A、拇指平推法
- B、掌推法
- C、拳推法
- D、肘推法
- E、腕推法

答案: E

7、掌后腕横纹中点为

- A、总筋
- B、大横纹
- C、四横纹
- D、小横纹
- E、掌小横纹

答案: A

8、小指尺侧边缘,自指尖到指根成一直线为

- A、肝经
- B、大肠
- C、小肠
- D、胃
- E、脾经

答案: C

9、用拇指甲掐两目内眦之间称

- A、推坎宫
- B、开天门
- C、掐山根
- D、推眉弓
- E、推太阳

答案: C

10、不属于松解类手法的基本技术要求的是

- A、持久
- B、有力
- C、均匀
- D、柔和
- E、浅表

以上内容仅为本文档的试下载部分，为可阅读页数的一半内容。如要下载或阅读全文，请访问：<https://d.book118.com/838006077034006121>