

河北省一般高中学业水平考试地理试卷

注意事项：

1. 本试卷共 10 页，75 道小题，共 100 分，考试时间 90 分钟。
2. 所有答案在答题卡上作答，在本试卷和草稿纸上作答无效。答题前请仔细阅读答题卡上的“注意事项”，按照“注意事项”的规定答题。
3. 做选择题时，用 2B 铅笔把答题卡上对应题目的答案标号涂黑。如需改动，请用橡皮将原选涂答案擦洁净，再选涂其他答案。
4. 考试结束后，请将本试卷与答题卡一并交回。

一、单项选择题（共 65 小题，其中 1—50 题每题 1 分，51-65 题每题 2 分，合计 80 分）

“太阳大，地球小，太阳带着地球跑；地球大，月球小，地球带着月球跑。”结合所学知识，回答 1-2 题。

1. 宇宙间的多种天体，因互相吸引、互相绕转形成了多层次的天体系统。童谣中波及到的天体系统共有

- A. 1 级 B. 2 级 C. 3 级 D. 4 级

2. 童谣中出现的太阳、地球、月球依次属于

- A. 恒星、行星、卫星 B. 星云、恒星、行星
C. 行星、恒星、小行星 D. 恒星、彗星、流星

读图 1，回答 3-4 题。

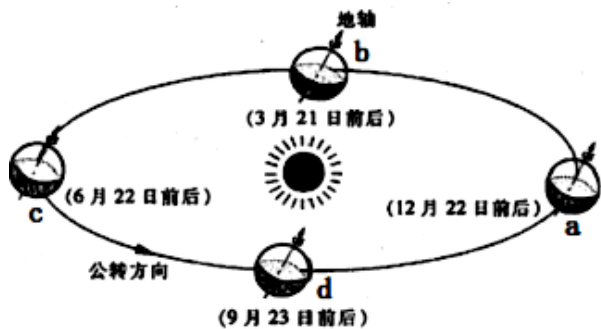


图1 地球公转示意

3. 图中字母所示地球公转位置中，距太阳近来的是

- A. a B. b
C. c D. d

4. 河北省各地白昼长于黑夜时，地球

公转处在

- A. a—b—c B. b—c—d
C. c—d—a D. d—a—b

读图2，回答5-6题。



图2 黄果树瀑布附近景观

5. 图中波及到的地球外部圈层共有

- A. 2个 B. 3个
C. 4个 D. 5个

6. 地球生态系统中最活跃的原因是

- A. 水 B. 岩石
C. 大气 D. 生物

读图 3，回答 7-9 题。

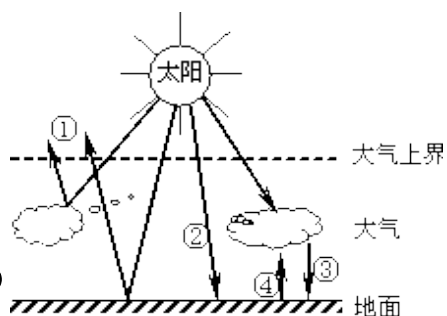


图 3 大气受热过程示意

7. 图中表达大气逆辐射的箭头是

- A. ① B. ② C. ③ D. ④

8. 对流层大气的直接热源是

- A. 地面辐射 B. 太阳辐射
C. 大气辐射 D. 大气逆辐射

9. 影响地面得到太阳辐射多少的最重要原因是

- A. 植被多少 B. 大气厚度

- C. 太阳高度 D. 地表起伏

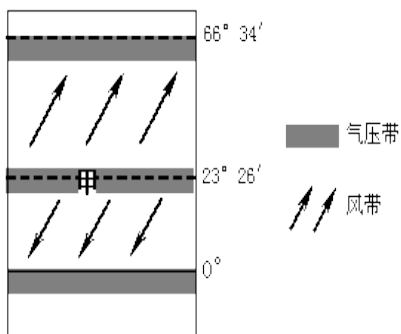


图 4 部分气压带、风带位置示意

读图 4，回答 10-11 题。

10. 甲表达的气压带是

- A. 赤道低气压带 B. 副热带高气压带
C. 副极地低气压带 D. 极地高气压带

11. 常年受乙风带控制地区，其气候特性是

- A. 整年温和湿润
B. 夏季高温干燥，冬季温和湿润
C. 整年高温多雨




图5 某区域气象卫星图片

D. 夏季高温多雨，冬季寒冷干燥

读图5（白色部分为云系），回答12-13题。

12. 图中所示天气系统属于

- A. 暖锋
- B. 冷锋
- C. 气旋
- D. 反气旋

13. 该天气系统影响下的天气状况是

- A. 天气晴朗
- B. 狂风暴雨
- C. 绵绵细雨
- D. 大风降温

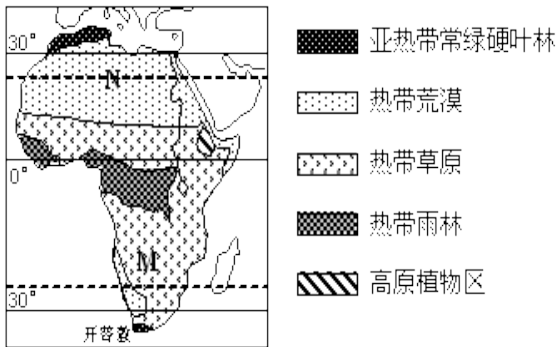


图6 非洲自然景观分布示意

读图6，回答14-15题。

14. 图中从M到N反应的自然环

境的地区分异规律是

- A. 纬度地带分异规律
- B. 干湿度地带分异规律

C. 垂直分异规律

D. 地方性分异规律

15. 形成上述地区分异规律的基础是

- A. 土壤
- B. 地形

- C. 水分 D. 热量

读图 7，回答 16-17 题。

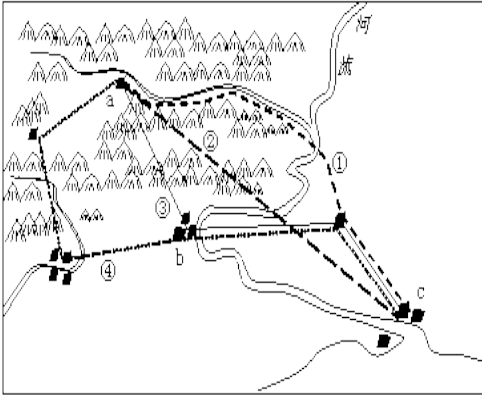


图 7 某区域示意

16. 综合图中信息，制约 a 地区发展交通运输的重要原因是

- A. 气候 B. 河流
C. 地形 D. 资源

17. 为发展 a 城镇及附近地区的经济，计划修建由 a 城镇至 c 港口都市的公路。图中最合理的

选线方案是

- A. ①线路 B. ②线路
C. ③线路 D. ④线路

气温距平变化 (°C)

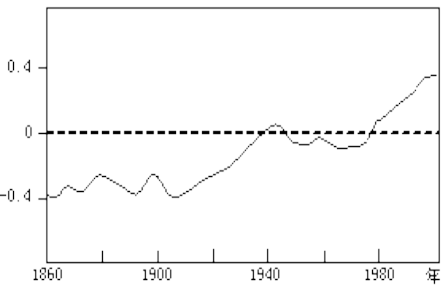


图 8 一百多年来全球年平均气温变化示意

读图 8，回答 18-19 题。

18. 一百数年来，全球年平均气温的变化特点是

- A. 没有变化 B. 逐渐下降
C. 持续上升

D. 波动上升

19. 若这一气温变化趋势持续下去, 受其直接影响最明显的产业是

A. 商业 B. 工业

C. 运送业 D. 农业

读图 9, 回答 20-21 题。

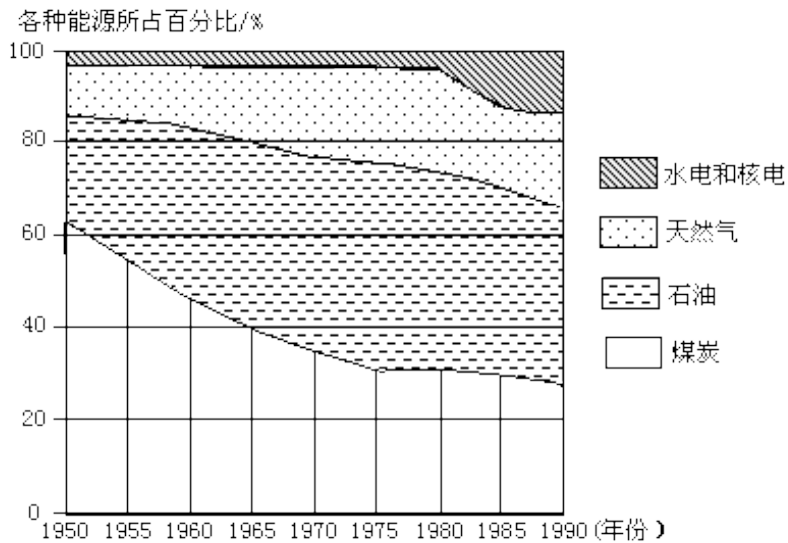


图9 世界能源消费构成变化

20. 20 世纪 80 年代, 比例增幅最大的能源是

A. 煤炭 B. 天然气 C. 石油 D. 水电和核能

21. 未来世界能源消费构造的发展方向是

A. 开发可再生能源 B. 能源消费趋向单一化

C. 化石能源比重上升

D. 核能成为最重要的能源

读表 1，回答 22-23 题。

表 1 2023 年我国部分省市人口资料（据国家记录局）

省市	人口出生率(%)	人口死亡率(%)
河北省	1.32	0.64
上海市	0.71	0.51
江苏省	0.97	0.69
江西省	1.37	0.61

22. 表中四省市，人口自然增长率最高的是
- A. 河北省 B. 上海市 C. 江苏省 D. 江西省
23. 目前，上海市的人口增长模式是
- A. 原始人口增长模式 B. 老式人口增长模式
- C. 过渡人口增长模式 D. 现代人口增长模式
24. 我国东部地区的人口容量比中西部地区高的重要原因是
- A. 矿产资源丰富 B. 人均消费水平高 C. 科学技术发达 D. 老式婚俗的影响
25. 据报道，目前广东省总人口达 1.1 亿人，其中户籍人口 7900 万，常住六个月以上的
流动人口 3100 多万。导致人口向广东省流动的重要原因是
- A. 气候原因 B. 政治原因 C. 经济原因 D. 文化原因

读图 10，回答 26-27 题。

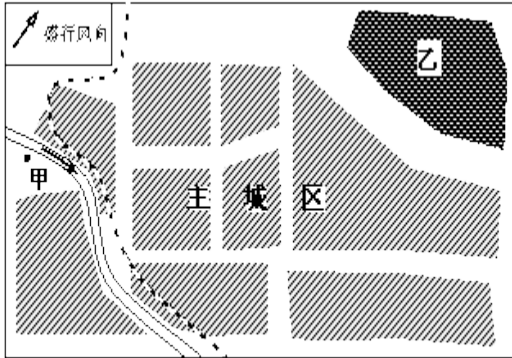


图 10 某城市工业分布示意

26. 合适在甲地布局的工业是

- A. 电镀厂
- B. 自来水厂
- C. 印染厂

D. 污水处理厂

27. 该市计划在乙地建设重工业区，重要是为了

- A. 靠近铁路 B. 减轻环境污染 C. 靠近河流 D. 便于职工

生活

28. 中心地的级别越高，则

- A. 服务范围越广 B. 数目越多
C. 商品种类越少 D. 彼此间距离越近

读图 11，回答 29-30 题。

29. 阿根廷最著名的农业地区类型是

- A. 大牧场放牧业 B. 游牧业 C. 热带种植园农业 D. 地

中海农业

30. 甲地发展水稻种植业的有利条件是

- A. 生产规模大 B. 黑土十分肥沃 C. 劳动力充足 D. 机械

化水平高

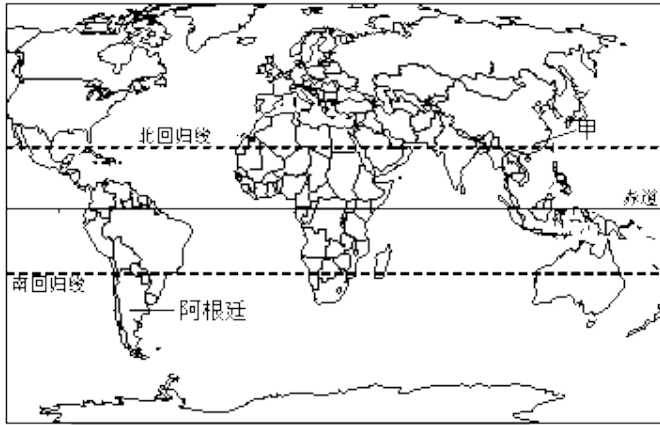


图 11 世界略图

美国苹果企业研发的 iPhone 4S 于 2013 年 1 月正式登陆中国大陆，销量火爆，备受青年人爱慕。读图 12，完毕 31-32 题。

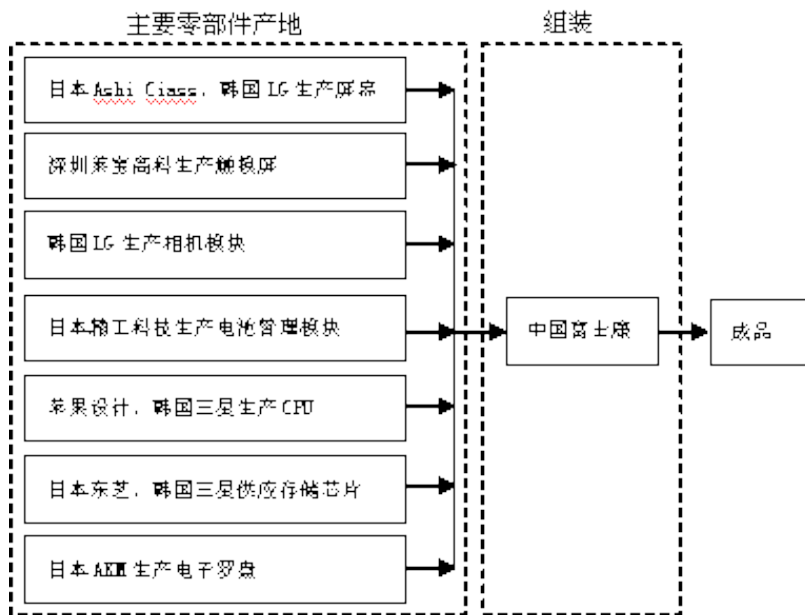


图 12 iPhone 产业链结构示意图

31. 苹果企业选择在中国组装，是由于中国

- A. 零部件齐全 B. 消费水平高 C. 电子技术先进

D. 劳动力丰富

32. 诸如 iPhone4S 此类产品

- A. 更新换代快 B. 面向国内市场 C. 研发费用低 D. 能源消

耗量大

读图 13，回答 33-34 题。



图 13

33. 织布厂的工业原料重要来源于

- A. 皮棉厂 B. 印染厂 C. 纺纱厂 D. 服

装厂

34. 图中信息显示，各生产部门之间最亲密的联络属于

- A. 生产协作 B. 商贸联络 C. 科技联络 D. 信

息联络

黄梅戏《天仙配》中唱到“你耕田来我织布，我挑水来你浇园”。结合所学知识，回

答 35-36 题。

35. 区域发展经历了多种历史阶段。唱词描绘的劳动场景处在

- A. 采集和狩猎阶段 B. 老式农业发展阶段 C. 工业化发展阶段 D. 高效益综

合发展阶段

36. 该阶段的人地关系思想是

A. 依赖环境

B. 改造自然

C. 征服自然

以上内容仅为本文档的试下载部分,为可阅读页数的一半内容。

如要下载或阅读全文,请访问:

<https://d.book118.com/845142014120011230>