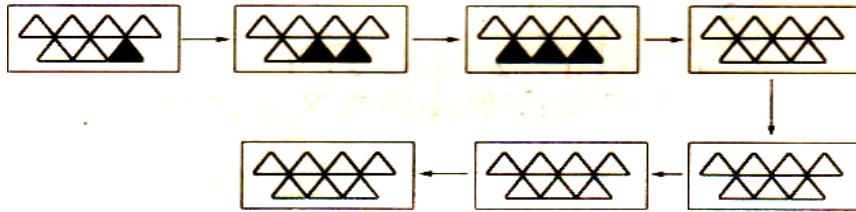


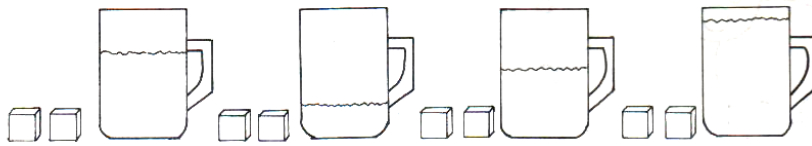
# 一年级数学思维训练专项练习（含答案）

## 训练 01

一、找规律画 ▲。

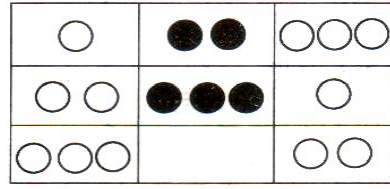
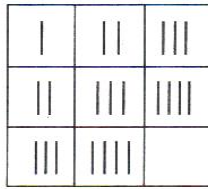
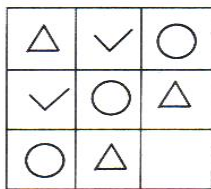


二、每个杯子放进两块糖后，哪杯最甜？请在（ ）里打“√”。




( )      ( )      ( )      ( )

三、找规律，画一画。


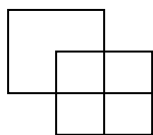


四、按照事情的顺序，排列图的次序，把编号写在（ ）里。



( )      ( )      ( )      ( )


五、数一数。



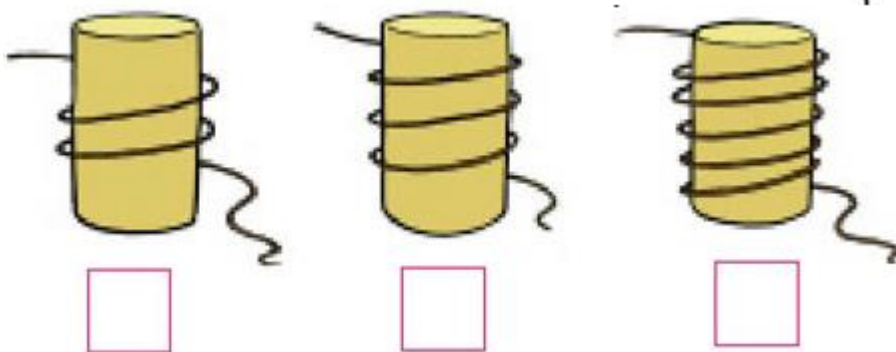
( ) 个正方形

( ) 个长方形

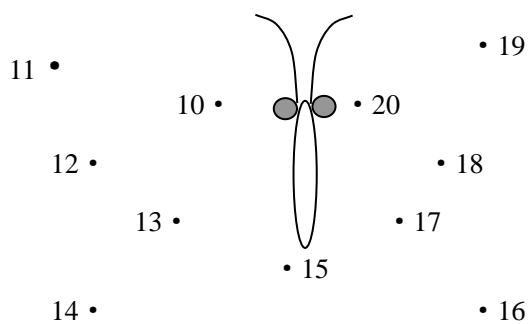
六、单人椅只坐 1 个小朋友，双人椅能坐 2 个小朋友，当这些椅子坐满时，还有 ( ) 个小朋友没有座位。



七、哪根绳子最长？最长的画√。



八、把下面各点按顺序连接起来，看看是什么。



以上内容仅为本文档的试下载部分，为可阅读页数的一半内容。如要下载或阅读全文，请访问：<https://d.book118.com/865013023302011111>