


2019-2020学年安徽省宣城六中八年级（下）第二次月考地理试卷

单选题


1. (2分) 图为我国沿108° E绘制的地形剖面图，读图完成下面小题。



甲所在的地形区是()

- A. 云贵高原 B. 四川盆地 C. 黄土高原 D. 内蒙古高原

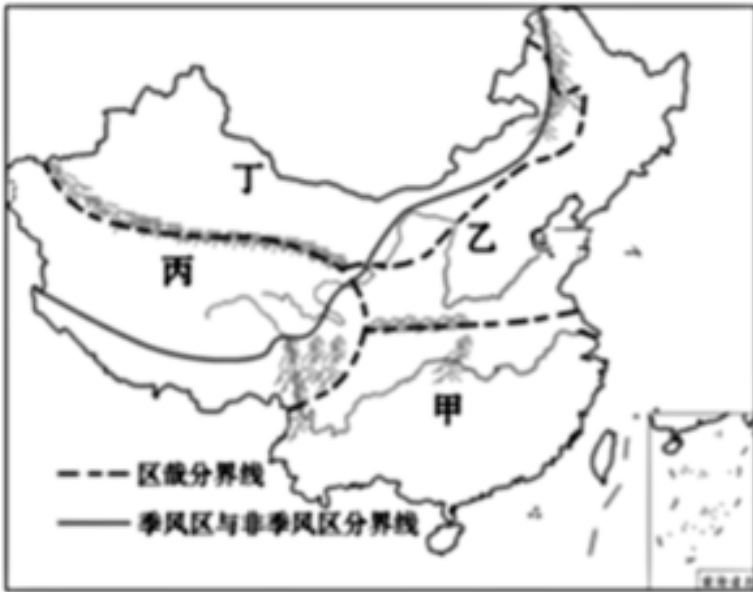
2. (2分) 图为我国沿 108°E绘制的地形剖面图，读图完成下面小题。



对乙处的说法，正确的是()

- A. 一月平均气温通常低于 0°C B. 粮食作物以水稻为主 C. 农田类型以旱地为主
D. 作物熟制通常是一年一熟

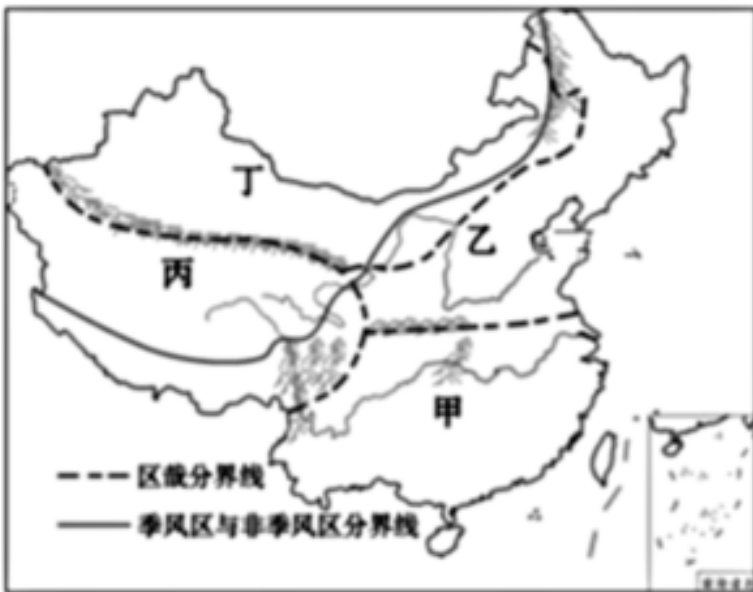
3. (2分) 读中国四大地理区域图，完成下列各题。



以秦岭-淮河为分界线的两大区域是()

- A. 甲与乙 B. 丁与丙 C. 乙与丁 D. 丙与甲

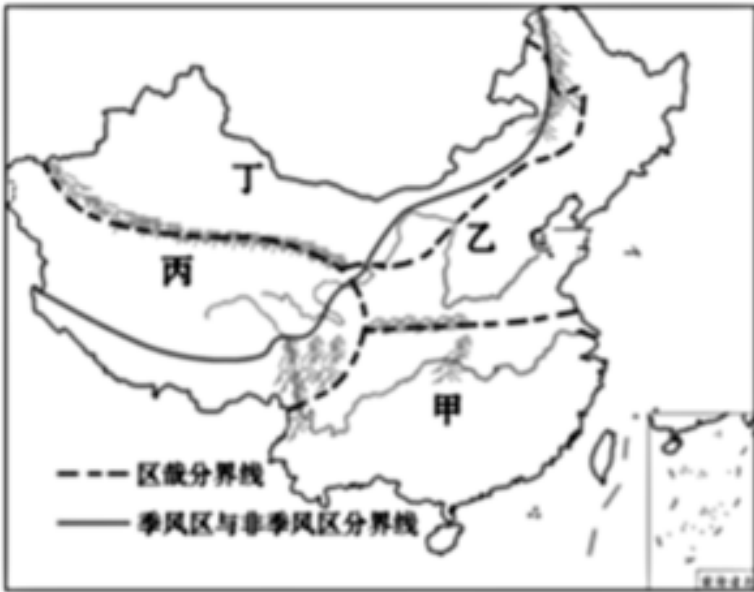
4. (2分) 读中国四大地理区域图，完成下列各题。



秦岭-淮河一线是我国一条重要的地理分界线，下列四条界线中没有穿过该线的是()

- A. 湿润区和半湿润区的分界线 B. 我国1月0℃等温线经过的地方
C. 亚热带和中温带的分界线 D. 亚热带常绿阔叶林和温带落叶阔叶林分界线

5. (2分) 读中国四大地理区域图，完成下列各题。



确定乙与丁地区界线的主导因素是()

- A. 降水 B. 热量 C. 地形 D. 植被

6. (2分) 读北方地区轮廓图, 回答下列各题。



下列关于①②两地地理差异的叙述, 正确的是()

- A. ①地为“暖温带”, ②地为“寒温带” B. ①地种“冬小麦”, ②地种“春小麦”
 C. ①地是“黑土地”, ②地是“黄土地” D. ①地属“半湿润区”, ②地属“湿润区”

7. (2分) 读北方地区轮廓图, 回答下列各题。



传统民居与当地自然环境的关系密切，①地区的传统民居特点是()

- A. 房顶坡度小，墙体厚、窗户大
- B. 房顶坡度小，墙体薄、窗户小
- C. 房顶坡度大，墙体厚、窗户小
- D. 房顶坡度大，墙体薄、窗户大

8. (2分) 读北方地区轮廓图，回答下列各题。



②地主产的水果是苹果，该地区具有的自然优势是()

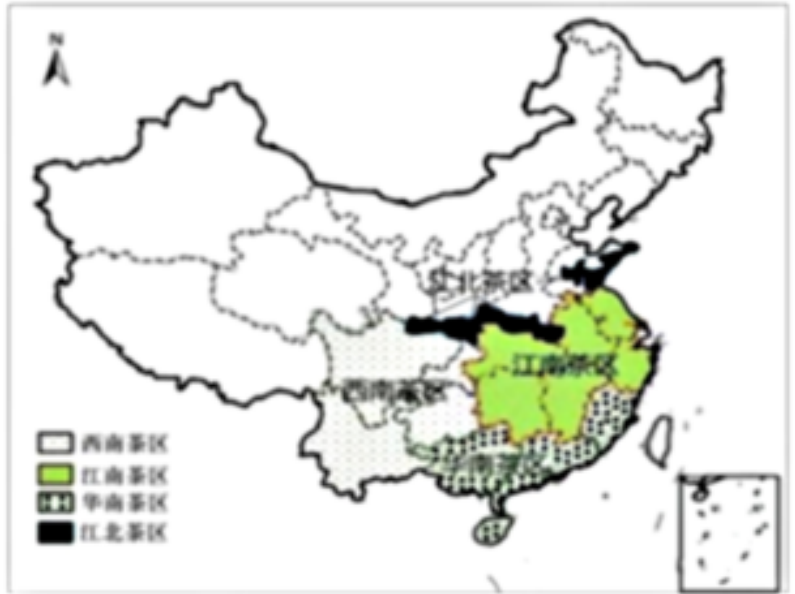
- ①冬季受低温冻害
- ②夏季气温高、降水多
- ③土壤肥沃，有机质含量高
- ④劳动力成本较低

- A. ①②
- B. ②③
- C. ①④
- D. ②④

9. (2分) 茶树主要分布在亚热带低山丘陵地区。茶树生长在温暖潮湿的气候、酸性的红壤以及排水良好的环境，如图示意我国四大茶区分布，读图完成下面小题。

下列省级行政区中，位于江南茶区的是()

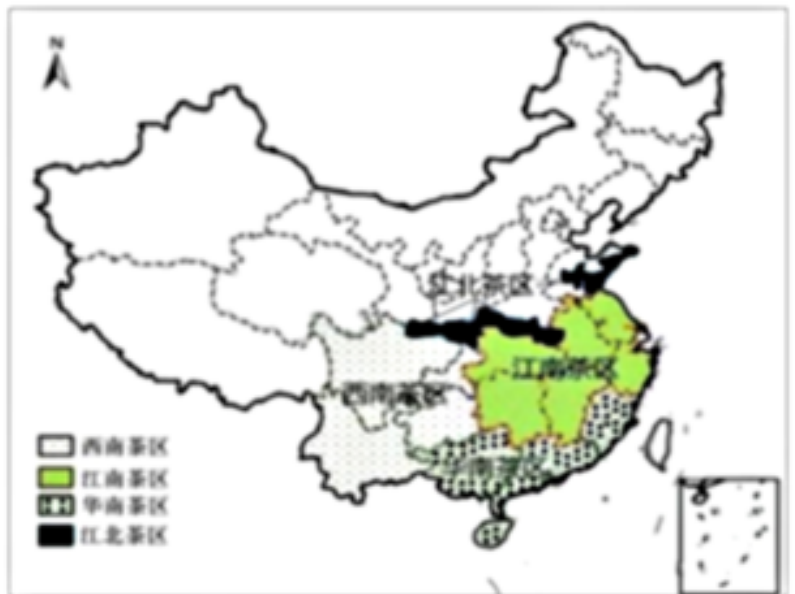
- A. 福建省
- B. 四川省
- C. 山东省
- D. 湖南省



10. (2分) 茶树主要分布在亚热带低山丘陵地区。茶树生长在温暖潮湿的气候，酸性的红壤以及排水良好的环境。如图示意我国四大茶区分布，读图完成下面小题。

我国茶树种植区主要分布在四大地理区域的()

- A. 北方地区
- B. 南方地区
- C. 西北地区
- D. 青藏地区

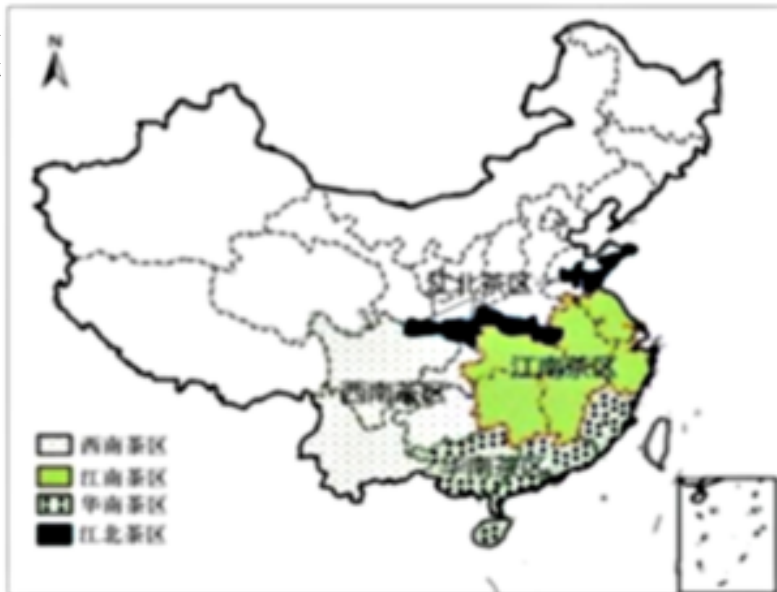


11. (2分) 茶树主要分布在亚热带低山丘陵地区。茶树生长在温暖潮湿的气候，酸性的红壤以及排水良好的环境。如图示意我国四大茶区分布，读图完成下面小题。

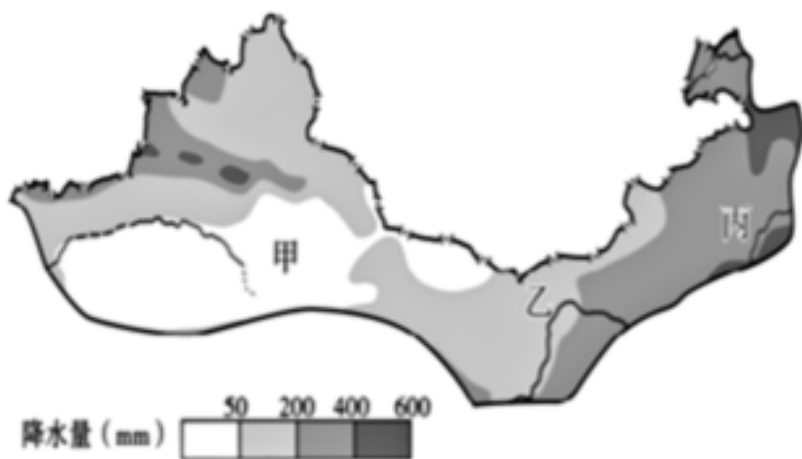
有利于茶树生长的自然条件有()

- ①山地、丘陵地区
- ②亚热带季风气候
- ③低洼的湿地
- ④碱性的土壤

- A. ①②
- B. ①③
- C. ②④
- D. ②③



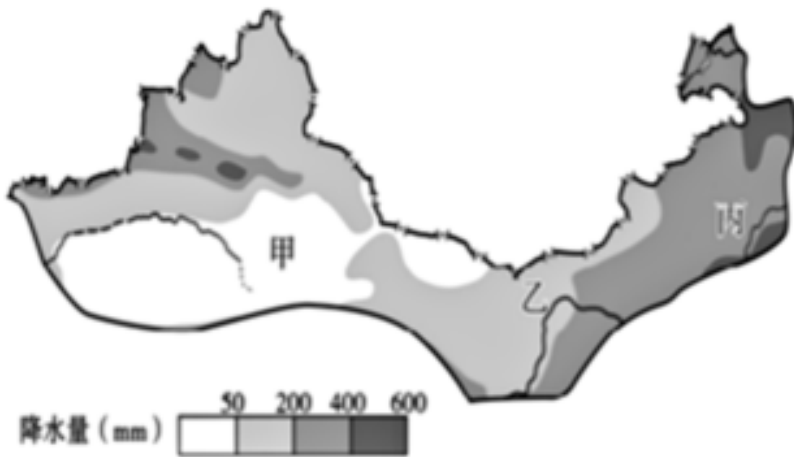
12. (2分) 我国西北地区年降水量和自然景观呈现明显的东西差异。下图是西北地区降水量分布图。读图，完成下面小题。



甲、乙、丙三地，降水量排列正确的是()

- A. 甲>乙>丙
- B. 甲>丙>乙
- C. 乙>甲>丙
- D. 丙>乙>甲

13. (2分) 我国西北地区年降水量和自然景观呈现明显的东西差异。下图是西北地区降水量分布图。读图，完成下面小题。



西北地区从东到西依次能看到的自然景观是()

- A. 草原-荒漠-荒漠草原 B. 荒漠草原-荒漠-草原 C. 草原-荒漠草原-荒漠
D. 荒漠-荒漠草原-草原

14. (2分) 《金史·世纪》：“生女真之地有混同江、长白山。混同江亦号黑龙江，所谓‘白山黑水’是也。”读东北地区略图，完成下面小题。

“白山黑水”在图中分别是()

- A. 丙和① B. 乙和② C. 甲和③ D. 乙和④



15. (2分) 《金史·世纪》：“生女真之地有混同江、长白山。混同江亦号黑龙江，所谓‘白山黑水’是也。”读东北地区略图，完成下面小题。

丁地形区的名称为()

- A. 松嫩平原 B. 三江平原 C. 辽河平原
D. 东北平原



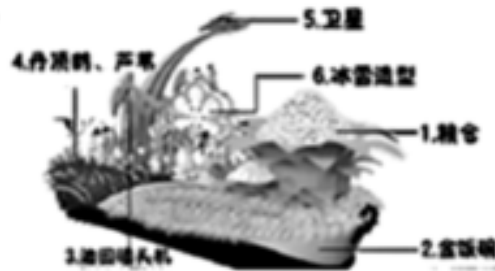
16. (2.5分) 影响东北地区人口分布的主要自然因素是()

- A. 地形 B. 资源 C. 交通 D. 工业

17. (2分) 读图完成下面小题。

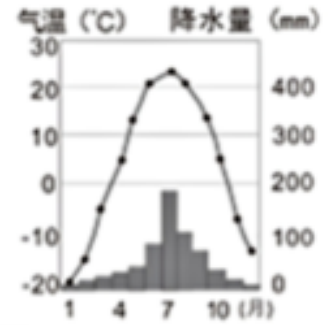


图1



黑龙江省彩车

图2



哈尔滨

图3

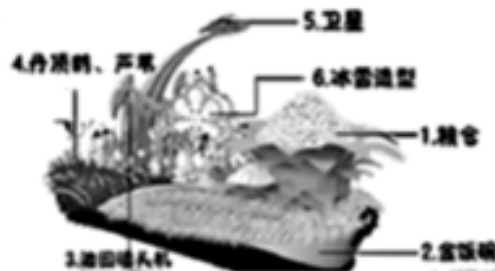
松花江()

- A. 干流自东北向西南汇入黑龙江 B. 干流全年水量均很大 C. 航运能力强，四季皆可以通航
D. 干流春季易发生凌汛

18. (2分) 读图完成下面小题。

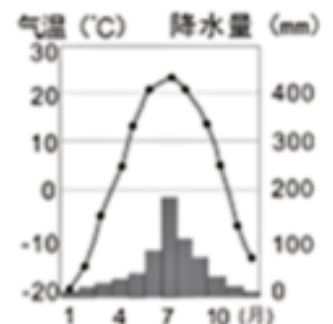


图1



黑龙江省彩车

图2



哈尔滨

图3

水稻是喜温喜湿的粮食作物。哈尔滨市南部的五常大米享誉世界，其种植的有利气候条件是()

- A. 冬春低温，比较湿润 B. 夏季温暖，比较干燥 C. 高温期与多雨期一致
D. 地形平坦，水源充足

以上内容仅为本文档的试下载部分，为可阅读页数的一半内容。如要下载或阅读全文，请访问：<https://d.book118.com/875040311104012012>