

北师大版二年级（上）数学期末测试卷（三）

时间：60 分钟 满分：100 分

题号	一	二	三	四	五	六	七	总分
得分								

一、填一填。（每空 1 分，共 20 分）

1. 25 厘米+38 厘米=()厘米，1 米-56 厘米=()

厘米

2. 填上合适的单位。

一张床长约 2()，数学课本宽约 15()

3. $4+4+4+4+4+4+4+4=32$ 用乘法算()，读作

()，或()，读作()。

4. ()里最大能填几。

() $\times 8 < 65$ $29 > 5 \times ()$

5. 两个因数都是 4，积是()。

6. 小华、小红、小强考试分别得了 97、95 分和 96 分。小强得分不是最低的，小华得了 96 分，小红得分是()分、小强得分是()分。

7. $6 \times 3 + 3$ 写成乘法算式是() 结果是()。

8. 用 6、2、5 三个数能摆成()个两位数，其中最大的两位数是()。

题
答
要
不
内
线
订
装

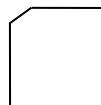
座位号

班级

姓名

9. 有三个同学握手，每两个握一次手，一共要握()次手。


10. 如图，有()条线段；有()个直角。



二、辨一辨。(对的打“√”，错的打“×”)(5分)

1. $8+8+3=3\times 8=8\times 3$ ()

2. 一个长方形有 2 条对称轴。 ()

3. 在图形  中一共有 5 条线段。()

4. 角的边越长，角度越大。 ()

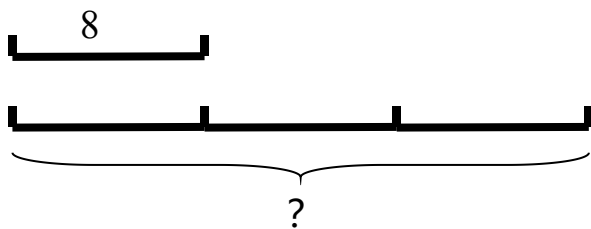
5. 莉莉照镜子时举的是右手，镜子中的她举的也是右手。()

三、看图列式。(第 1、2 小题各 3 分，第 3 小题 4 分，共 10 分)

1. 

列式：

2.



列式：

3. 

列式：

四、算一算。(24分)

1. 直接写得数(12分)

$8 \times 9 =$

$5 \times 6 =$

$7 \times 8 =$

$0 \times 6 =$

$27 + 40 =$

$52 - 5 =$

$20 + 18 =$

$90 - 8 =$

$3 \times 5 + 9 =$

$8 \times 6 - 10 =$

$4 \times 9 + 7 =$

$7 \times 5 - 3 =$

2. 填一填(4分)

$2 \times () = 14$

$() \times 6 = 54$

$7 \times () = 42$

$() \times 3 = 18$

3. 用竖式计算(8分)

$25 + 17 =$


$83 - 25 =$

$92 - 28 - 16 =$

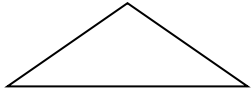
$47 + 36 - 54 =$

五、画一画。(9分)

1. 画一条比3厘米长2厘米的线段。 2. 在下列图形上画一个直角。






3. 在下图中画出对称轴。



六、试一试。(19分)

1. 妈妈去商店买了一个书包和一瓶墨水，墨水8元，书包比墨水贵25元，书包多少元？(3分)

2.  午餐肉7元  汉堡包8元  方便面2元

(1) 买8袋方便面要多少钱？(3分)


(2) 买3个汉堡包和1盒午餐肉要多少钱？(5分)

(3) 李明的妈妈买7盒午餐肉，她带50元钱够吗？(3分)

3. 小明有 8 本故事书，科技书的本数是故事书的 5 倍，小明有多少本科技书？（5 分）

七.下面是二年级（1）班全体同学喜欢体育运动统计表。（13 分）

跑步	踢足球	跳绳	游泳
正正正一	正正	正	正 ^F



1. 完成统计图。（4 分）

2. 喜欢跳绳的比喜欢踢足球的少()人。(2分)
3. 喜欢()体育运动的人最多。(2分)
4. 这个班共有()人。(2分)
5. 你还能提出什么数学问题?并解答。(3分)

参考答案

一、填一填。(每小题 2 分,共 20 分)

1. 63 厘米, 44 厘米

2. 米, 厘米

3. $4 \times 8 = 32$, 4 乘 8 等于 32, 或 $8 \times 4 = 32$, 8 乘 4 等于 32

4. 8, 5

5. 16,

6. 95, 97

7. 3×7 , 21

8. 6, 65

9. 3

10. 5, 3

二、辨一辨。(对的打“√”,错的打“×”)(5分)

1. ×

2. √

3. ×

4. ×

5. ×

三、看图列式。(第 1, 2 小题各 3 分,第 3 小题 4 分,共 10 分)

1. $4 \times 7 = 28$ 或 $7 \times 4 = 28$

2. $8 \times 3 = 24$

3. $5 \times 2 + 1 = 11$ 或 $5 \times 3 - 4 = 11$

四、算一算。(24分)

略

五、画一画。(9分)

略

六、试一试。(19分)

1. $8 + 25 = 33$ (元)

2. (1) $2 \times 8 = 16$ (元) (2) $8 \times 3 + 7 = 31$ (元)

(3) $7 \times 7 = 49$ (元), $49 < 50$, 50 元钱够了。

3. $8 \times 5 = 40$ (本)

七、下面是二年级(1)班全体同学喜欢体育运动统计表。(13分)

1. 略

2. 5

3. 跑步

4. 39人

5. 略

北师大版二年级（上）数学期末测试卷（一）

时间：60分钟 满分：100分

题号	一	二	三	四	五	六	总分
得分							

一、我会填。（41分）

1. $5+5+5+5=\square\times\square$ $9+9+9+9+6=\square\times\square+\square=\square\times\square-\square$

2. 把 32 个苹果平均分给小明和他的 3 个好朋友,每人分()个苹果。

3. $6\times 8=48$ 读作(),6 和 8 是(),48 是()。

4. 6 个 4 相加是(),7 和 8 相加是()。

5. 有 24 条金鱼,如果每 3 条金鱼装一袋,可以装()袋,列式为();如果把这些金鱼平均装在 6 个袋子里,每个袋子装()条,列式为()。

6. 2 个乘数都是 4,积是()。

7. 计算 7×9 和 9×7 时,用的乘法口诀是()。

8. 3 元=()角 3 元 9 角=()角

9. () $\times 4=8$ $3\times$ () $=3$ $4\times$ () $=$ () () $\times 9=36$



10. 右图有 12 个苹果,每()个分一份,可以分成()份,表示 12 里面有()个()。列式为(),读作()。

11. 24 是 6 的()倍,7 的 4 倍是()。

12. 按照规律填数字:1,4,7,10,13,(),(),()。

13. 根据乘法口诀 “三五十五” 写出两道乘法算式是
()和()。

14. 用 4,5,6 三个数字可以组成()个不同的两位数。

二、我会判。(对的画“√”,错的画“×”)(5分)

1. 计算 8×5 和 $40 \div 8$ 时,用的口诀相同。 ()

2. 汉字“中”是轴对称图形。 ()

3. 3 个 5 相加和 5 个 3 相加的意义是一样的。 ()

4. 因为 $2 \times 2 = 2 + 2$,所以 $4 \times 4 = 4 + 4$ 。 ()

5. 6 个 7 相加用算式 $6 + 7$ 表示。 ()

三、看图列式。(8分)

1. 

$$\square \circ \square = \square (\text{份})$$

2. 

$$\square \times \square = \square (\text{个}) \quad \square \times \square = \square (\text{个})$$

$$\square \div \square = \square (\text{个}) \quad \square \div \square = \square (\text{组})$$

四、计算。(16分)

1. 直接写得数。(8分)

$0 \times 5 =$

$7 \times 7 =$

$72 \div 9 =$

$36 \div 6 =$

$0 \div 7 =$

$63 \div 9 =$

$8 \times 6 =$

$24 \div 6 =$

$64 \div 8 =$ $8 \times 4 =$ $2 \times 4 \times 3 =$ $6 \times 7 - 30 =$

$81 \div 9 + 15 =$ $8 \div 2 + 2 =$ $56 \div 8 + 8 =$ $7 \times 8 - 36 =$

2. 列竖式计算。(8分)

$58 + 38 =$ $54 \div 6 =$ $4 \times 7 =$ $43 - 28 =$

五、动手操作我最棒。(6分)

1. 第二行画●,使●的个数是△的3倍。

第一行:△△△△

第二行:_____

2. 圈一圈,算一算。




●的个数是◇的()倍。 $\square \circ \square = \square$

六、解决实际问题。(24分)

1. 小红一天睡9时,她一个星期一共睡多少时?(4分)

2. 我们一共拔了42个萝卜,每6个装一篮,可以装几篮?运走2篮,还剩几篮?(4分)

3. 如右图,7 个这样的图形,一共有几个小正方形?(4 分)



4. (8 分)



9元



6元



15元



7元



5元



?元

(1)买 1 副手套和 1 双袜子,一共需要多少元?(2 分)

(2)1 副手套的价钱是 1 根跳绳的几倍?(2 分)

(3)1 个篮球的价钱是 1 双袜子的 5 倍,买 1 个篮球和 1 顶帽子一共花多少元?(2 分)

(4)用 20 元买 3 个网球拍,够吗?(2 分)

5. 高青一家三口去电影院看电影,儿童票每张 6 元,成人票每张 8 元,妈妈拿了 50 元去买电影票,应该找回多少钱?(4 分)

参考答案

一、 1. 4 5(或 5 4) 4 9 6 5 9 3

2. 8

3. 6 乘 8 等于 48 乘数 积

4. 24 15

5. 8 $24 \div 3 = 8$ (袋) 4 $24 \div 6 = 4$ (条)

6. 16

7. 七九六十三

8. 30 39

9. 2 1 3 12 4(第 3 道式子答案不唯一)

10. 4 3 3 4 $12 \div 4 = 3$ 12 除以 4 等于 3

11. 4 28

12. 16 19 22

13. $3 \times 5 = 15$ $5 \times 3 = 15$

14. 6

二、 1. \checkmark 2. \checkmark 3. \times 4. \times 5. \times

三、 1. $12 \div 3 = 4$

2. $3 \times 6 = 18$ $6 \times 3 = 18$ $18 \div 3 = 6$ $18 \div 6 = 3$

四、 1. 0 49 8 6 0 7 48 8 32 24 12 24 6 15 20

$2. 58+38=96$

$$\begin{array}{r} 58 \\ +38 \\ \hline 96 \end{array}$$

$4 \times 7 = 28$

$$\begin{array}{r} 4 \\ \times 7 \\ \hline 28 \end{array}$$

$54 \div 6 = 9$

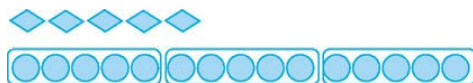
$$\begin{array}{r} 9 \\ 6 \overline{) 54} \\ \underline{54} \\ 0 \end{array}$$

$43 - 28 = 15$

$$\begin{array}{r} 43 \\ -28 \\ \hline 15 \end{array}$$

五、1. 

$2. 3 \quad 15 \div 5 = 3$



六、1. $9 \times 7 = 63$ (时)

答:她一个星期一共睡 63 时。

$2. 42 \div 6 = 7$ (篮) $7 - 2 = 5$ (篮)

答:可以装 7 篮,还剩 5 篮。

$3. 4 \times 7 = 28$ (个)

答:一共有 28 个小正方形。

$4. (1) 15 + 6 = 21$ (元)

答:一共需要 21 元。

$(2) 15 \div 5 = 3$

答:1 副手套的价钱是 1 根跳绳的 3 倍。

$(3) 5 \times 6 = 30$ (元) $30 + 9 = 39$ (元)

答:买 1 个篮球和 1 顶帽子一共花 39 元。

$(4) 3 \times 7 = 21$ (元) $20 \text{ 元} < 21 \text{ 元}$ 答:不够。

以上内容仅为本文档的试下载部分，为可阅读页数的一半内容。如要下载或阅读全文，请访问：<https://d.book118.com/875100230223012012>