

福建省 2024 届科目一模拟考试 100 题（附答案版）

1、夜间通过无交通信号灯控制的交叉路口时，不得变换远、近光灯。

A、正确

B、错误

正确答案：B

分析：换远近光灯是为了让来车认识到前方有车，应注意减速慢行注意安全。

2、驾驶机动车在没有中心线的城市道路上，最高速度不能超过 70 公里每小时。

A、正确

B、错误

正确答案：B

分析：《道路交通安全法实施条例》第四十五条：机动车在道路上行驶不得超过限速标志、标线标明的速度。在没有限速标志、标线的道路上，机动车不得超过下列最高行驶速度：（一）没有道路中心线的道路，城市道路为每小时 30 公里，公路为每小时 40 公里。（二）同方向只有 1 条机动车道的道路，城市道路为每小时 50 公里，公路为每小时 70 公里。

3、机动车仪表板上（如图所示）亮时，表示什么？



A、没有系好安全带

B、安全带出现故障

C、已经系好安全带

D、安全带系的过松

正确答案：A

分析：此为没有系好安全带。

4、长下坡禁止挂空挡，下列原因错误的是？

- A、长下坡挂低速挡可以借助发动机控制车速
- B、避免因刹车失灵发生危险
- C、长下坡空挡滑行导致车速过高时，难以抢挂低速挡控制车速
- D、下坡挂空挡，油耗容易增多

正确答案：D

分析：下坡挂空挡并不能使油耗下降，反而会失去发动机制动能力。

5、车辆在雪天临时停车时，应开启什么灯

- A、前后雾灯
- B、倒车灯
- C、前大灯
- D、危险报警闪光灯

正确答案：D

分析：请看清是停车，开启危险报警闪光灯防止没看清追尾等事故。

6、驾驶机动车发生财产损失交通事故，当事人对事实及成因无争议移动车辆时需要对现场拍照或者标划停车位置。

- A、正确
- B、错误

正确答案：A

分析：这个是正确的，移动车子使得交通顺畅，拍照等是为了留下证据。

7、漫水道路行车时，应挂高速档，快速通过。

- A、正确
- B、错误

正确答案：B

分析：不应该挂高速挡，而是要 应选用低速挡，以保证汽车有足够的驱动力；入水时应平稳，以防溅起的水花落 入电器设备，造成电器短路；发动机中速运转，保持车速，中途不得停车、换挡和急转转向盘”这样才对。

8、路面上导向箭头是何含义？



- A、提示前方有左弯或需向左合流
- B、提示前方有右弯或需向右合流
- C、提示前方有障碍需向左合流
- D、提示前方有左弯或需向左绕行

正确答案：B

分析：提示前方有右弯或需向右合流

9、自愿降级的驾驶人需要到车辆管理所申请换领驾驶证。

- A、正确
- B、错误

正确答案：A

分析：自愿降级的驾驶人，由本人带驾驶证、身份证去车管所提出申请，并换领驾驶证。

10、指志标线的作用是什么？

- A、禁止通行
- B、指示通行
- C、限制通行

D、警告提醒

正确答案：B

分析：指示标线主要就是引导你正确的行驶，安全守法

11、在交叉路口遇到这种情况享有优先通行权。



A、正确

B、错误

正确答案：A

分析：转弯的车让直行的车，相对行驶的右转弯的车让左转弯的车先行！右转让左转，没有问题。

12、（如图所示）这个符号的开关控制什么装置？



A、儿童安全锁

B、两侧车窗玻璃

C、电动车门

D、车门锁住开锁

正确答案：D

分析：你看那个长的多像一把钥匙，所以是车门锁住开锁。‘车’字有5个折线，代表五个车门，封闭了这把锁，当然还有一面是车身固定的。

13、图中这个标志提示前方路口只允许直行。



A、正确

B、错误

正确答案：A

分析：禁令标志，前方路段不允许左转或者右转，左右方向箭头被禁止，只能直行。

14、这个标志是何含义？



A、解除禁止借道

B、解除禁止变道

C、准许变道行驶

D、解除禁止超车

正确答案：D

分析：解除禁止超车：表示禁止超车路段结束。此标志设在禁止超车的终点。

15、允许自学直考人员使用图中教练车，在“学车专用签注指导人员”随车指导下学习驾驶。



A、正确

B、错误

正确答案：B

分析：自学人员使用学车专用标识签注的自学用车学习驾驶时，应当在公安机关交通管理部门指定的线路、时间进行，并随身携带实习驾驶证明。

16、如图所示，A车具有优先通行权。



A、正确

B、错误

正确答案：A

分析：直行先行，但若让A车等待B车，则时间更长，所以都是直行的情况下，A车先行。

17、交通信号灯由红灯、绿灯和黄灯组成

A、正确

B、错误

正确答案：A

分析：嗯，目前我还没见到过其他颜色的灯。

18、驾驶营运客车以外的机动车非紧急情况下在高速公路应急车道上停车的，对驾驶人处以罚款 200 元、驾驶证记 3 分的处罚。

A、正确

B、错误

正确答案：B

分析：《道路交通安全违法行为记分管理办法》规定：驾驶机动车在高速公路或者城市快速路上违法占用应急车道行驶的，处 200 元罚款，记 6 分。

19、这个标志是何含义？



A、注意野生动物

B、注意牲畜

C、动物公园

D、开放的牧区

正确答案：A

分析：黄底是警告；牛是牲畜，鹿是野生动物。

20、这个标志是何含义？




- A、注意双向行驶
- B、靠两侧行驶
- C、可变车道
- D、注意潮汐车道

正确答案：D

分析：“潮汐车道”是指根据早晚交通流量不同情况，对有条件的道路，试点开辟潮汐车道，通过车道灯的指示方向变化，控制主干道车道行驶方向，来调整车道数。

21、路中两条双黄色虚线是什么标线？



- A、单向分道线
- B、可跨越分道线
- C、潮汐车道线
- D、双向分道线

正确答案：C

分析：“潮汐车道”是指根据早晚交通流量不同情况，对有条件的道路，试点开辟潮汐车道，通过车道灯的指示方向变化，控制主干道车道行驶方向，来调整车道数，提高车道使用效率。

22、驾驶非机动车、拖拉机、轮式专用机械车、铰接式客车、全挂拖斗车以及其他设计最高时速低于 70 公里的机动车，不得进入高速公路。

A、正确

B、错误

正确答案：A

分析：《道路交通安全法》规定，行人、非机动车、拖拉机、轮式专用机械车、铰接式客车、全挂拖斗车以及其他设计最高时速低于七十公里的机动车，不得进入高速公路。高速公路限速标志标明的最高时速不得超过一百二十公里。

23、初次申领的机动车驾驶证的有效期为 6 年。

A、正确

B、错误

正确答案：A

分析：本题答案：正确，初次申领的机动车驾驶证的有效期为 6 年。

24、距离桥梁、陡坡、隧道 50 米以内的路段不能停车。

A、正确

B、错误

正确答案：A

分析：《中华人民共和国道路交通安全法实施条例》第六十三条 机动车在道路上临时停车，应当遵守下列规定：（二）交叉路口、铁路道口、急弯路、宽度不足 4 米的窄路、桥梁、陡坡、隧道以及距离上述地点 50 米以内的路段，不得停车；

25、车辆行至交叉路口时，左转弯车辆在任何时段都可以进入左弯待转区。

A、正确

B、错误

正确答案：B

分析：直行车辆放行时才可进入左转待转区。你到路口观察一下就明白了！

26、这个标志是何含义？



- A、此路不通
- B、T 型路口
- C、分流路口
- D、减速通行

正确答案：A

分析：用以指示前方道路为死胡同，无出口、不能通行。该标志为蓝底白色街区红色图案。

27、如图所示，在环岛交叉路口发生的交通事故中，应由 A 车负全部责任。



- A、正确
- B、错误

正确答案：A

分析：环岛行驶车辆应让行出岛车辆，因此 A 车应让 B 车先行，而此时事故发生，A 车应负全责。

28、驾驶机动车遇到沙尘、冰雹、雨、雾、结冰等气象条件如何行驶？

- A、按平常速度行驶
- B、保持匀速行驶
- C、降低行驶速度
- D、适当提高车速

正确答案：C

分析：这么复杂路况一定要降低行驶速度。

29、已注册登记的机动车，改变机动车车身颜色的应到公安交通管理部门申请变更登记。

- A、正确
- B、错误

正确答案：A

分析：《中华人民共和国道路运输条例》说明，已注册登记的机动车，改变机动车车身颜色的应到公安交通管理部门申请变更登记。

30、关于机动车号牌灭失、丢失或者损毁的，以下错误的说法是什么？

- A、车辆管理所补发、换发号牌，原机动车号码不变
- B、补领、换领机动车号牌的，原机动车号牌可以继续使用
- C、补发、换发号牌期间，可申领有效期不超过十五日的临时号牌
- D、向登记地车辆管理所申请补领、换领

正确答案：B

分析：《机动车登记规定》规定，机动车号牌灭失、丢失或者损毁的，机动车所有人应当向登记地车辆管理所申请补领、换领。申请时，机动车所有人应当确认申请信息并提交身份证明。车辆管理所应当审查提交的证明、凭证，收回未灭失、丢失或者损毁的号牌，自受理之日起十五日内补发、换发号牌，原机动车号牌号码不变。补发、换发号牌期间，申请人可以申领有效期不超过十五日的临时行驶车号牌。补领、换领机动车号牌的，原机动车号牌作废，不得继续使用。

31、遇到图中所示的情景，怎么做是正确的？



- A、借左侧车道超越校车
- B、鸣喇叭催促校车离开
- C、变换远近光灯催促校车离开
- D、停在校车后面等待

正确答案：D

分析：校车在道路上停靠时，与校车同一车道的后方及相邻机动车道上的车辆就得停车等待，其他车道上的机动车也应减速通过。此题同向只有一条车道，所以只能停车等待，不得逆向超车。

32、驾驶机动车在高速公路上行驶，遇到图中所示的情形，怎么做才正确？



- A、可以借右侧应急车道行驶
- B、与前车保持安全距离跟车行驶
- C、紧跟左侧车道红色小客车行驶
- D、鸣喇叭或变换远近光灯催促

正确答案：B

分析：保持安全车距，是行车的基本要求。

33、驾驶机动车在隧道内行驶，遇前方车速过慢时，可选择合适的时机超车通过。

A、正确

B、错误

正确答案：B

分析：隧道内严禁超车超速。

34、因饮酒后驾驶机动车被处罚，再次饮酒后驾驶机动车的，处十日以下拘留，并处一千元以上二千元以下罚款，吊销机动车驾驶证。


A、正确

B、错误

正确答案：A

分析：《道路交通安全法》第九十一条：饮酒后驾驶机动车的，处暂扣六个月机动车驾驶证，并处一千元以上二千元以下罚款。因饮酒后驾驶机动车被处罚，再次饮酒后驾驶机动车的，处十日以下拘留，并处一千元以上二千元以下罚款，吊销机动车驾驶证。

35、路中心白色实线是何含义？



A、禁止跨越对向车道中心线

B、双侧可跨越同向车道分界线

C、禁止跨越同向车行道分界线

D、单侧可跨越同向车道分界线

正确答案：C

分析：实线不能压，如果两个同向车道之间有虚线就可以换道，如果是实线则规规矩矩的别跑偏了

36、驾驶机动车在距离下述哪些地点 30 米以内的路段，不得停车？

- A、交叉路口
- B、急弯路
- C、加油站
- D、陡坡

正确答案：C

分析：距离交叉路口、急弯路、陡坡 50 米内不得停车；距离加油站 30 米内不得停车。

37、 驾驶机动车驶入铁路道口前减速降挡，进入道口后不可以变换档位

- A、正确
- B、错误

正确答案：A

分析：驾驶机动车通过铁路道口，在道口外提前减速减挡低速通行，在进入路口后不得变换档位。题目描述正确。

38、准驾车型为 C1 驾照，还可以驾驶下列哪种车型？

- A、C4 三轮汽车
- B、以上都可
- C、C3 低速载货汽车
- D、C2 小型自动挡汽车

正确答案：B

分析：准驾车型为小型汽车的，可以驾驶：小型、微型载客汽车以及轻型、微型载货汽车，轻型、微型专项作业车 小型、微型自动挡载客汽车以及轻型、微型自动挡载货汽车 低速载货汽车 三轮汽车 提示：C1 准予驾驶 C2、C3、C4 准驾车型。

39、这个标志是何含义？



- A、允许长时停车
- B、允许临时停车
- C、禁止长时停车
- D、禁止停放车辆

正确答案：D

分析：禁止停放车辆：表示在限定的范围内，禁止一切车辆临时或长时停放。此标志设在禁止车辆停放的地方。禁止车辆停放的时间、车种和范围可用辅助标志说明。

40、增加机动车车内装饰，在不影响安全和识别号牌的情况下，机动车所有人不需要去办理变更登记。

- A、正确
- B、错误

正确答案：A

分析：《机动车登记规定》规定，下列情形之一，在不影响安全和识别号牌的情况下，机动车所有人不需要办理变更登记：（一）增加机动车车内装饰；（二）小型、微型载客汽车加装出入口踏步件；（三）货运机动车加装防风罩、水箱、工具箱、备胎架等。属于第一款第二项、第三项规定变更事项的，加装的部件不得超出车辆宽度。

41、驾驶机动车在道路上行驶时，应当按照规定的速度安全行驶。

- A、正确
- B、错误

正确答案：A

分析：注意“安全行驶”四个字。有安全两个字就不会错了

42、驾驶机动车在这种信号灯亮的路口，可以右转弯。




A、正确

B、错误

正确答案：A

分析：没有问题，在红灯为圆圈，而不是方向箭头和红叉时候，右转弯的车辆只要安全的情况下就可以右转。

43、这个导向箭头是何含义？



A、指示前方右转弯

B、指示前方掉头

C、指示前方直行

D、指示向左变道

正确答案：B

分析：指示前方掉头

44、申请大型客车驾驶证的申请人，应该在 26 周岁以上，50 周岁以下。

A、正确

B、错误

正确答案：B

分析：《机动车驾驶证申领和使用规定》规定：申请大型客车、重型牵引挂车准驾车型的，在 22 周岁以上，60 周岁以下。

45、驾驶小型汽车在城市快速路上行驶超过规定时速 20% 以上未达 50% 的，一次记多少分？

A、12 分

B、9 分

C、6 分

D、3 分

正确答案：C

分析：《道路交通安全违法行为记分管理办法》规定，机动车驾驶人有下列交通违法行为之一，一次记 6 分：（一）驾驶校车、公路客运汽车、旅游客运汽车载人超过核定人数未达到百分之二十，或者驾驶 7 座以上载客汽车载人超过核定人数百分之二十以上未达到百分之五十，或者驾驶其他载客汽车载人超过核定人数百分之五十以上未达到百分之百的；（二）驾驶校车、中型以上载客载货汽车、危险物品运输车辆在高速公路、城市快速路上行驶超过规定时速未达到百分之二十，或者在高速公路、城市快速路以外的道路上行驶超过规定时速百分之二十以上未达到百分之五十的；（三）驾驶校车、中型以上载客载货汽车、危险物品运输车辆以外的机动车在高速公路、城市快速路上行驶超过规定时速百分之二十以上未达到百分之五十，或者在高速公路、城市快速路以外的道路上行驶超过规定时速百分之五十以上的；（四）驾驶载货汽车载物超过最大允许总质量百分之五十以上的；（五）驾驶机动车载运爆炸物品、易燃易爆化学物品以及剧毒、放射性等危险物品，未按指定的时间、路线、速度行驶或者未悬挂警示标志并采取必要的安全措施的；（六）驾驶机动车运载超限的不可解体的物品，未按指定的时间、路线、速度行驶或者未悬挂警示标志的；（七）驾驶机动车运输危险化学品，未经批准进入危险化学品运输车辆限制通行的区域的；（八）驾驶机动车不按交通信号灯指示通行的；（九）机动车驾驶证被暂扣或者扣留期间驾驶机动车的；（十）造成致人轻微伤或者财产损失的交通事故后逃逸，尚不构成犯罪的；（十一）驾驶机动车在高速公路或者城市快速路上违法占用应急车道行驶的。

46、驾驶机动车要选择绿色箭头灯亮的车道行驶。



A、正确

B、错误

正确答案：A

分析：绿灯行，没有问题。

47、以下哪种情形不会被扣留车辆？

A、使用变造的机动车登记证书

B、使用伪造号牌

C、未随车携带灭火器

D、未随车携带行驶证

正确答案：C

分析：未随车携带灭火器不会被扣留车辆。根据《道路交通安全法》第九十六条：伪造、变造或者使用伪造、变造的机动车登记证书、号牌、行驶证、驾驶证的，由公安机关交通管理部门予以收缴，扣留该机动车，处十五日以下拘留，并处二千元以上五千元以下罚款；构成犯罪的，依法追究刑事责任。

48、驾驶机动车通过交叉路口要遵守交通信号。

A、正确

B、错误

正确答案：A

分析：这个最基本的，没什么解释的。

49、在普通城市道路上逆向行驶，将被一次性扣多少分？

A、6分

B、3分

C、1分

D、12分

正确答案：B

分析：普通道路逆向行驶扣3分、高速公路逆向行驶扣12分。

50、如图所示，驾驶机动车时，前风窗玻璃处悬挂放置干扰视线的物品是错误的。



A、正确

B、错误

正确答案：A

分析：物品干扰开车视线增大了行车危险，容易引发交通事故。

51、驾驶载货汽车载物超过最大允许总质量50%以上的，一次记多少分？

A、3分

B、9分

C、12分

D、6分

以上内容仅为本文档的试下载部分，为可阅读页数的一半内容。如要下载或阅读全文，请访问：<https://d.book118.com/87521210000012011>