

二年级上册数学解决问题 100 道

一. 解答题(共 100 题, 共 573 分)

1. 同学们分成 4 组做风车, 每组做了 8 只, 送给幼儿园小朋友 18 只, 还有多少只?
2. 小红写了 25 个大字, 妹妹已经写了 9 个大字, 再写多少个大字就和小红的一样多?
3. 请你测量一盘磁带的长是多少?宽呢?
4. 商店原有 96 块橡皮, 卖出一些后还剩 46 块, 卖出多少块?
5. 一本故事书 24 元, 一本儿童漫画 48 元。买这两本书一共要花多少元钱? 付款 100 元应找回多少元钱?
6. 小红今年 9 岁, 妈妈 38 岁, 妈妈 47 岁的时候小红有多少岁?
7. 小明买了一本《儿童文学》40 元, 一本《连环画》8 元, 一共用了多少钱?
8. 妈妈买了 26 个苹果, 9 个香蕉。香蕉再增加几只, 就和苹果同样多?
9. 小明 3 天看完一本 100 页的故事书, 第一天看 38 页, 第二天看 45 页。第三天看多少页? (用两种方法解答)
10. 冬奥会的冰壶比赛共有 9 个队参加, 每个队 4 名队员, 一共有多少名队员? 王老师买了 40 瓶饮料, 如果每个队员喝一瓶, 还剩多少瓶?
11. 看图回答。



45元



28元

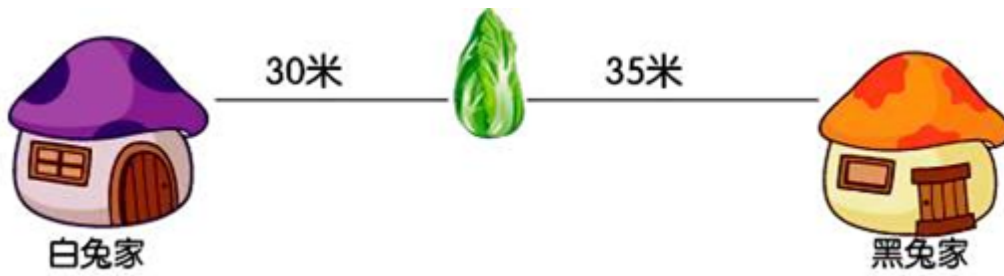


10元

(1) 洋洋买了一件上衣和一条裙子, 一共花了多少钱?


(2) 妈妈买了一件上衣和一顶帽子, 付给售货员 100 元, 应找回多少钱?

12. 从白兔家走到黑兔家, 一共要走多少米? 请提出其他问题并解答。



13. 小明有 6 套画片，每套 3 张，送给小华 4 张，问此刻有几张？

14. 小华拍了多少下？



15. 三(1)班有 40 名同学，其中 28 人参加了美术小组，9 人参加了英语小组(每人只能参加一个小组)。有多少人两个小组都没参加？

16. 明明买了一个 8 元的魔方和一个排球，一个排球的价钱相当于 5 个魔方的价钱，明明付了 100 元，应找回多少钱？

17. 看图回答。



(1) 小明要买  和  ，一共需要多少钱？

(2)

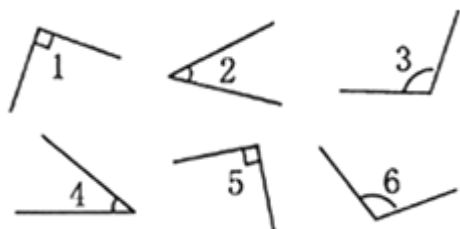


比



便宜多少钱？

18. 一小桶牛奶 5 元钱，一大桶牛奶是一小桶的 4 倍，买一大一小两桶牛奶共须要多少钱？
19. 菜店运来白菜 33 筐，萝卜 28 筐，运来的黄瓜比白菜和萝卜的筐数少 17 筐。运来黄瓜多少筐？
20. 看一看，填一填。




锐角有：

直角有：

钝角有：

21. 学校举行运动会，赛跑的学生有 37 人，跳高的同学有 26 人，赛跑和跳高的学生一共有多少人？
22. 小明这星期得了 9 朵小红花，小军得的小红花是小明的 2 倍，两人这个星期一共得了多少朵小红花？



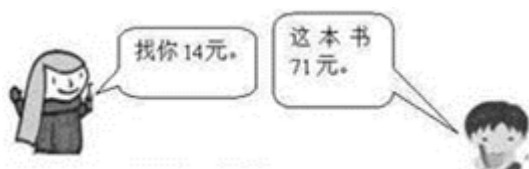
(1) 小红买一本《科技画报》，她付了 50 元，应找给她多少钱？

(2) 小华带了 50 元钱，可以买哪两本书？

(3) 你还能提出什么问题?

24. 一座教学楼有 4 层, 每层有 5 个教室和 1 个办公室。这座教学楼里共有多少个房间?

25. 小军原来有多少钱?



26. 一双袜子 9 元, 妈妈买了 9 双, 付给售货员 90 元, 应找回多少元?

27. 小明搬砖, 每次可运 5 块。共有 25 块砖, 需要几次才能搬完?

28. 一只老虎有 2 只眼睛, 3 只老虎有多少只眼睛?



29. 解答题。



2 元

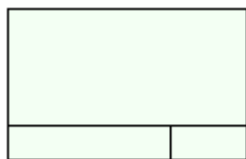


3 元

(1) 买 1 个  需要多少钱?

(2) 买 2 个  需要多少钱?

30. 数一数图中有几个直角？



31. 停车场有小汽车 8 辆，大卡车的辆数是小汽车的 6 倍，停车场有小汽车和大卡车多少辆？



(1) 唱歌的和拉琴的一共有多少人？

$$\square \bigcirc \square = \square \text{ (人)}$$

(2) 打鼓的有几人？

$$\square \bigcirc \square = \square \text{ (人)}$$

(3) 你还能提出什么数学问题？并解答。

33. 解答题。



(1) 小红看了多少页？

_____ = _____ (页)

(2) 小兰看了多少页？

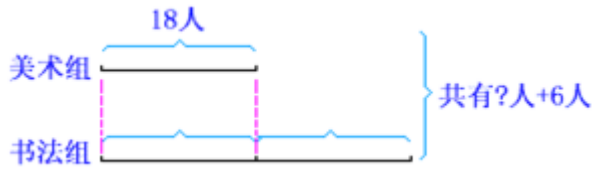
_____ = _____ (页)

34. 宁宁是个小书迷，她从图书馆借了一本《格林童话》，她每天看 9 页，6 天看多少页？还剩下 36 页没有看，这本书共有多少页？

35. 学校美术组有 18 人，书法组的人数是美术组的 2 倍，合唱组的人数比美术组和书法组的总人数多 6 人。合唱组有多少人？

书法组的人数是美术组的 2 倍，书法组有多少人？

合唱组有多少人？



36. 图书柜里有连环画 8 本，故事书的本数是连环画的 7 倍，故事书比连环画多几本？



(1)  有多少个桃？

(2)  有多少个桃？

38. 1 只小兔拔 2 个萝卜，7 只小兔拔多少个萝卜？



加法算式：_____

乘法算式：_____

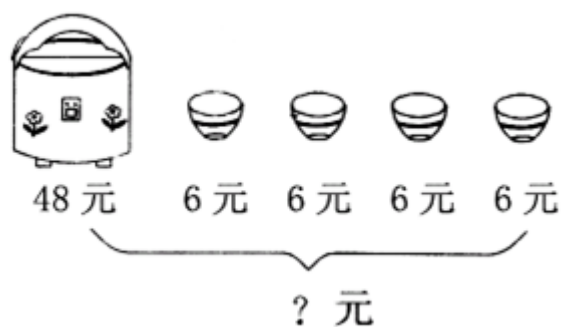
口答：7只小兔拔（_____）个萝卜。

39. 菜地里有 100 根萝卜，小白兔上午拔了 35 根，下午拔了 38 根，菜地里还有多少根萝卜？（用两种方法解答）

40. 家电商场原有 90 台电视机，卖出 59 台，又运来 46 台，商场现在有多少台电视机？

41. 在入队仪式上，高年级的同学给新队员戴红领巾，已经戴了 35 人，还有 18 人没戴，新队员有多少人？

42. 买下面的商品，付 100 元够吗？



43. 三(1)班有 40 名同学，其中 28 人参加了美术小组，9 人参加了英语小组(每人只能参加一个小组)。有多少人两个小组都没参加？

44. 小红现在有多少元？



45. 小胖有 20 本故事书, 小丁丁有 15 本故事书, 他们一共有多少本书? 小胖比小丁丁多多少本书?

46. 小刚: 我家种了两行桃树, 一行 6 棵, 一行 4 棵。

小红: 我家种了两行桃树, 每行 6 棵。

(1) 小红家一共种了多少棵桃树?

(2) 小刚家一共种了多少棵桃树?

47. 小胖有 20 本故事书, 小丁丁有 15 本故事书, 他们一共有多少本书? 小胖比小丁丁多多少本书?

48. 小红一天睡 9 时, 她一个星期一共睡多少时?

49. 手工小组计划要做 90 件手工艺品, 上午做了 31 件, 下午做了 36 件, 还要再做多少件才能完成预定的任务?

50. 小东用 3 根 30 厘米长的短绳接成一根长绳, 连接处用去 5 厘米, 这根长绳一共长_____厘米。


51. 小宁有 20 本课外书, 小亮有 5 本课外书, 小敏有 28 本课外书。

(1) 小宁和小亮一共有多少本课外书?

_____ = _____ (本)

答: 小宁和小亮一共有_____本课外书。


(2) 你还能提出什么数学问题? 并解答。

52. 第一小组 6 个同学, 每人做 4 面 , 共做多少面? 第二小组比他们少做 6 面, 做了多少面?

53. 少先队员计划 4 天修补图书 24 本, 实际上比原计划多修补了 16 本, 这 4 天实际修补了多少本?

54. 书包 25 元, 文具盒 16 元, 用 50 元买这两样东西还能找回多少钱?

55. 爸爸和淘气去游乐园玩, 门票每人 4 元, 一共要多少元?

56. 丽丽家有 15 盆 , 如果一壶水可以浇 3 盆花, 5 壶水可以浇多少盆?

57.

各买一个, 共需多少钱?



45 元



5 元

58. 一(1)班同学们做操,排成一支方队,从前、后、左、右数时,小红都是第3个,这个班一共有多少个同学做操?

59. 他们一共要栽多少棵树?



60. 一枝蜡笔用去5厘米,还剩下7厘米,这支蜡笔原来长多少厘米?

61. 第一组植树17棵,第二组和第三组各植树11棵,三个组一共植树多少棵?

62. 一条绳子原来长68米,先用去20米,又用去30米,这条绳子还剩多少米?现在比原来短了多少米?

63. 参加旅游的男生是28人,参加旅游的女生是19人,一共有多少人参加旅游?

64. 水果店运来32筐苹果,44筐梨。水果店一共运来水果多少筐?运来的梨比苹果多多少筐?

65. 果园里苹果树有8行,每行8棵,梨树比苹果树多10棵,梨树有多少棵?

66. 解答题。

(1) 有2瓶花,一瓶6朵,另一瓶4朵,一共有多少朵?

(2) 有6瓶花,每瓶4朵,一共有多少朵?

67. 一、二年级有6个班,每个班有4人参加舞蹈组,一共有多少人?后来,舞蹈组增加了10人,现在舞蹈组有多少人?

68. 我国运动员在近两届运动会上获奖牌情况如下:

以上内容仅为本文档的试下载部分，为可阅读页数的一半内容。如要下载或阅读全文，请访问：

<https://d.book118.com/876233231152010204>