



北师大版二年级数学下册

比一比



黄山



海拔约1865米



香山



海拔约575米



泰山



海拔约1533米

华山



海拔约2155米

谁最矮？

万	千	百	十	个	
	1	8	6	5	黄山
		5	7	5	香山
	1	5	3	3	泰山
	2	1	5	5	华山

香山低于1000米，其他都高于1000米。

四位数比三位数要大。

谁最高？

万	千	百	十	个	
	1	8	6	5	黄山
	1	5	3	3	泰山
	2	1	5	5	华山

黄山和泰山都是一千多米，
华山二千多米。

三个都是四位数，先看最高位，
华山最高位是2。

黄山和泰山谁高？谁矮？

万	千	百	十	个
	1	8	6	5
	1	5	3	3

黄山

泰山

1865的百位上的数是8，表示8个百。
泰山百位上的数是5，表示5个百。

最高位都是1，
看百位， $8 > 5$ ，
所以黄山高。

按照从小到大的顺序填一填。

黄山

海拔约1865米

泰山

海拔约1533米

香山

海拔约575米


华山

海拔约2155米

(575) < (1533) < (1865) < (2155)

试一试

● 哪辆车最便宜？标一标，比一比。

① 	② 	③ 
1200 元	800 元	1500 元



() > () > ()

● 在数线上标出3200的大致位置。

3200 元。



3000

4000

我先标出 3500 的大致位置，3200 离 3000 更近些。




练一练

1. 收玉米。

(1) ()收的玉米最多，
()收的最少。说一
说你是如何想的。



(2) 按照从大到小的顺序
排列四个小动物收的
玉米数量。



() > () > () > ()



练一练

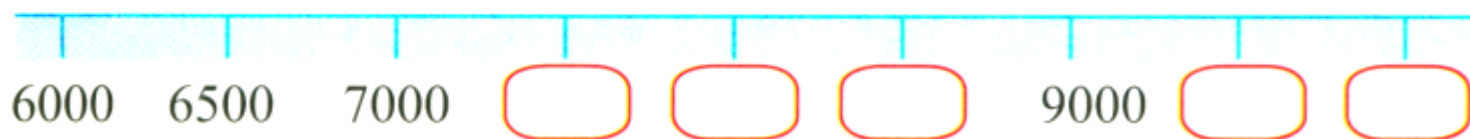
2. 在○里填上“>”或“<”，说一说你是怎么比的。

$1074 \bigcirc 846$

$389 \bigcirc 982$

$5102 \bigcirc 5184$

3. 填一填。



4. 我国台湾地区最高的山峰是玉山，海拔约3952米。在数线上标出3952的大致位置。



要获得更多VIP免费下载成套资料??
在[百度文库]里搜索“超级资源+学科”，
试试看!!!



小魔方站作品 盗版必究

谢谢您下载使用！

更多精彩内容，微信扫描二维码获取

扫描二维码获取更多资源







附赠 中高考状元学习方法



以上内容仅为本文档的试下载部分，为可阅读页数的一半内容。如要下载或阅读全文，请访问：<https://d.book118.com/887120056152006101>