

二〇二四年齐齐哈尔市初中学业考试

历史试卷

考生注意：

1. 全卷共三道大题，总分 100 分
2. 使用答题卡的考生，请将答案填写在答题卡的指定位置

本考场试卷序号 (由监考教师填写)	
----------------------	--

题号	一	二	三	总分	核分人
得分					

得分	评卷人

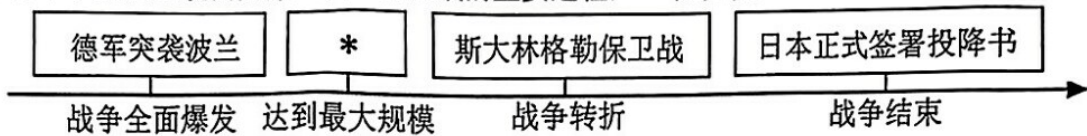
一、慧眼识真（本题共 25 小题，每小题只有一个正确答案，每小题 2 分，共 50 分）

1. 五千年的文明沉淀，铸就了灿烂的华夏文明。被尊崇为中华民族“人文初祖”的是（ ）
A. 炎帝和黄帝 B. 尧 C. 舜 D. 禹
2. 孔子学院，即孔子学堂，它不是一般意义上的大学，而是推广汉语和传播中华文化的交流机构。孔子提出的教育思想有（ ）
A. 无为而治 B. 以德治国 C. 仁者爱人 D. 有教无类
3. 某工程具有防洪、灌溉、水运等多方面的作用，建成之后，使成都平原成为沃野。这项工程是（ ）
A. 都江堰 B. 灵渠 C. 永济渠 D. 通济渠
4. 秦汉时期的统治者，为了有效地巩固“大一统”局面，都对统治思想进行了选择。其中汉武帝接受董仲舒的建议采取（ ）
A. 统一文字 B. 推恩令 C. 罢黜百家，尊崇儒术 D. 盐铁专卖
5. 2013 年，习近平总书记提出与有关国家共同建设“丝绸之路经济带”和“21 世纪海上丝绸之路”，即“一带一路”倡议。开辟了陆上丝绸之路的是（ ）
A. 霍去病北击匈奴 B. 张骞通西域 C. 班超经营西域 D. 甘英出使大秦
6. 某校书法社团学员在临摹《兰亭集序》书法字帖时，被其“飘若浮云，矫若惊龙”的笔势所折服。《兰亭集序》的作者是（ ）
A. 王羲之 B. 颜真卿 C. 柳公权 D. 欧阳询
7. 归纳总结是历史学习的重要方法之一。根据右图学习笔记归纳的学习主题是（ ）
A. 早期国家与社会变革 B. 政权分立与民族交融
C. 繁荣与开放的时代 D. 民族关系发展和社会变化

• 开通大运河
• “贞观之治”“开元盛世”
• 鉴真东渡与玄奘西行

8. 元朝统治者打破以往依“山川形便”划分行政区域的原则，将自然环境差异极大的地区拼成一个一级政区，这一做法有利于管辖空前广阔的疆域。与之相关的制度是（ ）
- A. 郡县制 B. 刺史制度 C. 三省六部制 D. 行省制度
9. 一位著名将领写诗明志“封侯非我意，但愿海波平”。这位将领是（ ）
- A. 郑成功 B. 戚继光 C. 林则徐 D. 左宗棠
10. 为了统一多民族国家的巩固和发展，历代统治者都重视对边疆地区的管辖。清朝在西藏地区设置（ ）
- A. 台湾府 B. 军机处 C. 驻藏大臣 D. 伊犁将军
11. 小华在参观圆明园遗址时，看到残垣断壁，愤怒之情油然而生。火烧圆明园的是（ ）
- A. 葡萄牙殖民者 B. 荷兰殖民者 C. 英法联军 D. 八国联军
12. 它被称为“地球上的红飘带”，是避开蒋介石魔爪的一次险象环生的战略转移，使中国革命转危为安。它是（ ）
- A. 秋收起义 B. 三湾改编 C. 井冈山会师 D. 红军长征
13. 捉蒋一惊天义举；放蒋一大局为重；送蒋一重情重义。与之相关的史事是（ ）
- A. 九一八事变 B. 西安事变 C. 七七事变 D. 皖南事变
14. 某老师在讲课时，描述了“毛泽东争取和平的惊人胆魄”“国民党设下鸿门宴的处心积虑”“谈判桌前与硝烟中的双重较量”等内容。可以判断老师讲的是（ ）
- A. 武昌起义 B. 北伐战争 C. 重庆谈判 D. 北平和平解放
15. 1947年夏，人民解放军按照战略部署，攻击国民党兵力薄弱部分，从中央突破，像一把利剑插入敌人胸膛，揭开了人民解放军战略进攻的序幕。该军事行动是（ ）
- A. 千里跃进大别山 B. 辽沈战役 C. 淮海战役 D. 平津战役
16. 我们要铸牢中华民族共同体意识，促进各民族共同团结奋斗、共同繁荣发展，结成平等团结互助和谐的社会主义民族关系。我国在少数民族聚居地区实行（ ）
- A. 政治协商制度 B. 民族区域自治制度 C. 人民代表大会制度 D. 一国两制
17. 2024年5月1日，我国第三艘航空母舰福建舰从上海江南造船厂码头解缆启航，赴相关海域开展首次航行试验。我国第一艘航空母舰是（ ）
- A. 致远舰 B. 南昌舰 C. 辽宁舰 D. 山东舰
18. 新中国的成立，结束了我国百年的屈辱外交，翻开了外交事业的新篇章。同新中国一起成长起来的外交政策是（ ）
- A. 独立自主的和平外交政策 B. 和平共处五项原则
- C. “求同存异”方针 D. 全方位外交
19. 某同学参观“冲天两弹，惊世一星”为主题的国防科技图片展时，看到了“一朵蘑菇云腾空而起”的图片。这张图片展示的是（ ）
- A. 第一颗原子弹爆炸成功 B. 东方红一号发射成功
- C. 第一艘核潜艇研制成功 D. 神舟一号开启飞天之旅
20. 地中海是联系欧洲南部各国和亚、欧、非三洲的重要水域。2世纪时，有一位旅行探险者想要环游地中海，他应该前往（ ）
- A. 亚历山大帝国 B. 罗马帝国 C. 拜占庭帝国 D. 阿拉伯帝国

21. 它是第一个以国家名义明确表述资产阶级政治要求的纲领性文献，宣告了北美 13 个殖民地脱离英国而独立。这部文献是 ()
- A. 《权利法案》 B. 《独立宣言》 C. 《人权宣言》 D. 《拿破仑法典》
22. 历史结论是关于史实的基本判断和基本观点，历史事实是指客观存在的历史人物或历史事件。下列表述属于历史结论的是 ()
- A. 1848 年，《共产党宣言》正式出版 B. 爱迪生发明了耐用的白炽灯泡
- C. 农奴制改革是俄国历史上的重要转折点 D. 林肯当选为美国第 16 任总统
23. “明治天皇政府把全国分成 3 府 72 县，县知事由中央任命；承认土地私有和买卖；建立了大批工厂；仿照欧美设立了新式学校。”材料反映了明治维新的 ()
- A. 背景 B. 经过 C. 性质 D. 内容
24. 以下示意图呈现的是第二次世界大战的主要进程，*处应为 ()



- A. 莫斯科保卫战 B. 日军偷袭珍珠港 C. 诺曼底登陆 D. 德国无条件投降
25. 截至 2020 年 9 月，中国军队先后参加了 25 项联合国维和行动，累计向刚果(金)、利比亚、黎巴嫩、苏丹等地派出维和官兵 4 万余人次。这充分表明中国是 ()
- A. 世界经济推动者 B. 先进文化引领者 C. 全球环境保护者 D. 世界和平维护者

得分	评卷人

请仔细阅读下列材料回答问题：

二、史料释义 (本题共 3 小题，每题 12 分，共 36 分)

26. 材料一：



材料二：

A：感身世之戮辱，传畸人于千秋，虽背《春秋》之义，固不失为史家之绝唱，无韵之《离骚》矣。 ——鲁迅《汉文学史纲要》	B：他计算出圆周率在 3.1415926 和 3.1415927 之间，成为世界上最早把圆周率数值推算到七位数字以上的科学家。 ——王星智、张兰菊《中国简史》	C：卷分前后，乃“贵五谷而贱金玉”之义。 ——宋应星《天工开物》
--	--	-------------------------------------

材料三：

爆竹声中一岁除，春风送暖入屠苏。千门万户曈曈日，总把新桃换旧符。

——王安石《元日》

- (1) 根据材料一写出，图一建筑是哪一古国的文明成果？(1 分) 图二青铜器的名称是什么？(1 分) 图三刻在石柱上的法典名称是什么？(1 分) 图四中的数字创造

者是谁?(1分)

(2)材料二A中被鲁迅誉为“史家之绝唱，无韵之《离骚》”的是哪部著作?(1分)作者是谁?(1分)B中的“他”是指哪一位?(1分)C中的著作被誉为什么?(1分)

(3)材料三中的“爆竹”与我国古代的哪项重大发明相关?(1分)与它齐名的哪项发明大大促进了世界远洋航海技术的发展?(1分)这两项发明经阿拉伯人传到了哪个大洲?(1分)

(4)综上所述，世界公认的四大文明中，中华文明是唯一没有中断的文明。你认为如何才能更好地传承中华优秀文明成果?(1分)

27. 材料一：人文主义思想对西欧人向海外发展，也起了积极促进作用。……人文主义思潮实质上反映了资产阶级的个人进取精神，是海外冒险事业的一种思想动力。

——摘自刘祚昌、王觉非主编《世界史·近代史编》

材料二：蒸汽机是英国工业革命中最伟大的技术发明，也是人类生产技术史上的一次飞跃……随着生产机械化的推进，机器工业迅速成长，19世纪三四十年代英国机器制造业也实现了机械化。这标志着英国工业革命已经完成。

——摘自杨宁一主编《历史学习新视野新知识》

材料三：事实证明，旧式的农民战争，不触动封建根基的自强运动和改良主义，资产阶级革命派领导的民主革命，以及照搬西方资本主义的其他种种方案，都不能完成救亡图存的民族使命和反帝反封建的历史任务。

——摘编自李颖《文献中的百年党史》

(1)结合所学，材料一中提到的“人文主义”是哪一事件的核心思想?(1分)在“海外冒险事业”中使世界开始连为一个整体的是哪一重要历史事件?(1分)其中“发现”美洲的航海家是谁?(1分)

(2)依据材料二分别写出，“最伟大的技术发明”是什么?(1分)“英国工业革命已经完成”的标志是什么?(1分)

(3)根据材料三并结合所学指出，“自强运动”“改良主义”“民主革命”分别是中国近代哪三次探索?(3分)其中“民主革命”的指导思想是什么?(1分)此外，在思想文化方面还进行了哪次探索?(1分)列举其中一位代表人物。(1分)

(4)综上所述，推动社会发展的因素有哪些?(1分)

28. 材料一：世界政治家预言，19世纪90年代以来，国际舞台将日益受到正在兴起的德国、俄国和美国的影响。然而事实是，这三个国家中的一个遭到决定性的失败，第二个国家在革命中崩溃了，20世纪20年代和以后时期的国际事务似乎仍是以英国和法国为中心。

——摘编自保罗·肯尼迪《大国的兴衰》

材料二：二战后，美苏关系发生了重大变化，美苏之间的战略目标、战略构想和战略利益发生了根本冲突，以美苏为首的两大集团在政治、军事、经济、文化等领域形成了全面的对峙和对抗。
——摘编自王斯德《世界通史》

材料三：当今的世界格局仍处于一个过渡期，在这个过渡中出现了权力的转移和扩散，权力从传统强国欧美向新兴大国转移，并扩散至其他地区，世界格局有进入“碎片化”时代的征兆。
——中国社会科学院 2011 年《国际形势黄皮书》

材料四：当前，世界之变、时代之变、历史之变正以前所未有的方式展开。一方面，和平、发展、合作、共赢的历史潮流不可阻挡，人心所向、大势所趋决定了人类前途终归光明。另一方面，恃强凌弱、巧取豪夺、零和博弈等霸权霸道霸凌行径危害深重，和平赤字、发展赤字、安全赤字、治理赤字加重，人类社会面临前所未有的挑战。世界又一次站在历史的十字路口，何去何从取决于各国人民的抉择。

——摘自习近平总书记在中国共产党第二十次全国代表大会上的报告

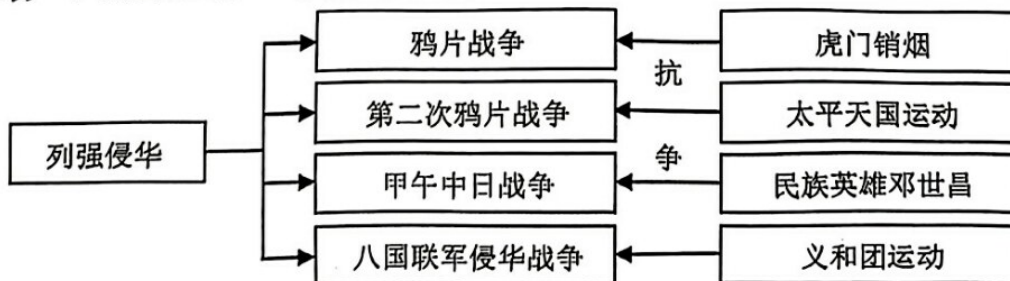
- (1) 依据材料一指出“遭到决定性失败”的是哪个国家？（1分）“在革命中崩溃了”的俄国退出了哪场战争？（1分）革命后的苏维埃俄国被排斥在哪次国际会议之外？（1分）中国在这次会议上的外交失败引发了哪一爱国运动？（1分）
- (2) 根据材料二结合所学回答，二战后以美苏为首两大集团的“对峙和对抗”被称作什么？（1分）写出这种状态开始的标志。（1分）哪一事件的发生结束了这种状态？（1分）
- (3) 依据材料三并结合所学指出，世界政治格局进入“碎片化”时代呈现出怎样的发展趋势？（1分）与此同时世界经济格局正发生着怎样的变化？（1分）
- (4) 根据材料四指出，当今人类“不可阻挡”的历史潮流是什么？（1分）“人类社会面临前所未有的挑战”有哪些？（1分）
- (5) 综上所述，请你为促进世界和平与发展提出一条合理化建议。（1分）

三、探究空间（本题共 1 小题，共 14 分）

得分	评卷人

29. 近代以来，中华民族不断开拓进取，从饱受欺凌到坚定自信，从积贫积弱到繁荣富强，逐渐走向伟大复兴。某校历史学习小组以“时代之光”为主题进行探究学习活动，请你参与其中。

任务一：【梳理知识- 聚焦重要史实】

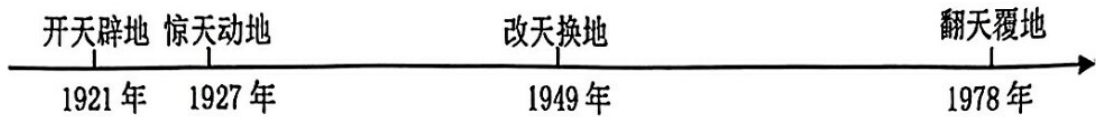


(1)根据任务一中的知识结构图请回答：鸦片战争使我国社会性质发生了怎样的变化？

(1分)四次列强侵华战争签订的条约中赔款数目最庞大、主权丧失最严重的是哪一条约？

(1分)在抗争中，邓世昌的壮举体现了怎样的民族精神？ (1分)

任务二：【理清时序——纵览发展历程】



(2)年代尺上“开天辟地”指的是哪次重要会议？ (1分)1927年“惊天动地”所指的事件有何历史意义?(1分)1949年“改天换地”指的是什么事件？(1分)中共十一届三中全会作出怎样的历史性决策使我国开始发生了“翻天覆地”的变化?(1分)

任务三：【研读史料——寻找史事联系】

材料一：在异常残酷的战争中……志愿军涌现出 30 多万英雄模范和功臣……他们可歌可泣的英雄事迹汇成强大的民族凝聚力，极大地鼓舞着全国人民为保卫和建设祖国而团结奋斗。
——摘编自《中国共产党的九十年》

材料二：1950年6月30日，毛泽东主席签署命令，正式颁布土地改革法令。该法令规定：废除地主阶级封建剥削的土地所有制，实行农民的土地所有制，借以解放农村生产力，发展农业生产，为新中国的工业化开辟道路。

——摘自《中国土地革命发展历史》

(3)材料一中“志愿军”被誉为什么？ (1分)材料二中“该法令”指的是什么法律文件？ (1分)材料一和材料二所反映的历史事件共同作用是什么？ (1分)

任务四：【释读图片——见证历史变迁】



(4)图一安徽凤阳农民丰收后，在中央的支持和倡导下，哪一政策逐步在全国推开？ (1分)图二事件发生于 1997 年，洗雪了百年国耻。它指的是哪一事件？ (1分)图三是神舟十二号三名航天员首次进入中国自己的空间站。我国第一次实现太空行走的航天员是谁？ (1分)

任务五：【感悟历史——碰撞智慧火花】

(5)通过以上探究，你有什么感悟？ (1分)

二〇二四年齐齐哈尔市初中学业考试 历史试卷解析

考生注意：

1. 全卷共三道大题，总分 100 分

2. 使用答题卡的考生，请将答案填写在答题卡的指定位置

一、慧眼识真（本题共 25 小题，每小题只有一个正确答案，每小题 2 分，共 50 分）

1. 五千年的文明沉淀；铸就了灿烂的华夏文明。被尊崇为中华民族“人文初祖”的是（ ）

- A. 炎帝和黄帝 B. 尧 C. 舜 D. 禹

【答案】A

【解析】

【详解】根据所学知识可知，炎黄部落联盟以后逐渐形成华夏族，因此后人尊崇炎帝和黄帝为中华民族的人文初祖，海内外的华人也以“炎黄子孙”自称，A 项正确；尧、舜、禹是黄帝之后的部落联盟首领，为部落联盟贡献了力量，但并非人文初祖，排除 BCD 项。故选 A 项。

2. 孔子学院，即孔子学堂，它不是一般意义上的大学，而是推广汉语和传播中华文化的交流机构。孔子提出的教育思想有（ ）

- A. 无为而治 B. 以德治国 C. 仁者爱人 D. 有教无类

【答案】D

【解析】

【详解】根据所学知识可知，孔子不仅是大思想家，而且是大教育家，他主张“有教无类”，招收不同出身的学生，先后培养了三千弟子，促进了教育在民间的发展，D 项正确；无为而治是道家的思想，排除 A 项；孔子在政治上推崇西周的制度，主张以德治国，这不是教育思想，排除 B 项；孔子的核心思想是“仁”，他提出仁者爱人，即要有爱心和同情心，这也不是教育思想，排除 C 项。故选 D 项。

3. 某工程具有防洪、灌溉、水运等多方面的作用，建成之后，使成都平原成为沃野。这项工程是（ ）

- A. 都江堰 B. 灵渠 C. 永济渠 D. 通济渠

【答案】A

【解析】

【详解】根据所学知识可知，都江堰是一座综合性的水利枢纽，使堤防、分洪、排沙、控流等功效合成为一个系统，发挥出防洪、灌溉、水运等多方面的作用。建成之后，成都平原成为沃野，被称为“天府之国”，A 项正确；灵渠在今广西境内，排除 B 项；永济渠是隋朝大运河的一段，在涿郡和洛阳之间，没有经过四川，排除 C 项；通济渠是隋朝大运河的一段，在洛阳到淮水之间，没有经过四川，排除 D 项。故选 A 项。

4. 秦汉时期的统治者，为了有效地巩固“大一统”局面，都对统治思想进行了选择。其中汉武

帝接受董仲舒的建议采取（ ）

- A. 统一文字 B. 推恩令 C. 罢黜百家，尊崇儒术 D. 盐铁专卖

【答案】C

【解析】

【详解】为了实现思想上的大一统，汉武帝接受董仲舒的建议，“罢黜百家，尊崇儒术”就是把儒家学说作为封建正统思想，持法家、道家等各家学说的读书人，均受到排斥，C项正确；统一文字是秦始皇采取的措施，排除A项；“推恩令”是汉武帝在政治方面采取的措施，排除B项；盐铁专卖是汉武帝在经济方面采取的措施，排除D项。故选C项。

5. 2013年，习近平总书记提出与有关国家共同建设“丝绸之路经济带”和“21世纪海上丝绸之路”，即“一带一路”倡议。开辟了陆上丝绸之路的是（ ）

- A. 霍去病北击匈奴 B. 张骞通西域
C. 班超经营西域 D. 甘英出使大秦

【答案】B

【解析】

【详解】根据所学可知，西汉汉武帝派遣张骞出使西域，促进了汉朝与西域各国之间的相互了解与往来，为丝绸之路开辟打下了基础，B项正确；霍去病北击匈奴，使其无力对抗西汉，部分匈奴人开始西迁，不符合题意，排除A项；东汉时，班超经营西域30多年，当时丝绸之路已经开通，不符合题意，排除C项；东汉时，班超派甘英出使大秦，当时丝绸之路已经开通，不符合题意，排除D项。故选B项。

6. 某校书法社团学员在临摹《兰亭集序》书法字帖时，被其“飘若浮云，矫若惊龙”的笔势所折服。《兰亭集序》的作者是（ ）

- A. 王羲之 B. 颜真卿 C. 柳公权 D. 欧阳询

【答案】A

【解析】

【详解】根据题干“《兰亭集序》”“飘若浮云，矫若惊龙”和所学知识可知，东晋大书法家王羲之的代表作《兰亭集序》被誉为“天下第一行书”，书法特点是“飘若浮云，矫若惊龙”，本人被誉为“书圣”，A项正确；颜真卿、柳公权是唐朝著名书法家，并称“颜柳”，两人的书法被称为“颜筋柳骨”，排除BC项；欧阳询为唐朝书法家，代表作为楷书《九成宫醴泉铭》，不符合题意，排除D项。故选A项。

7. 归纳总结是历史学习的重要方法之一。根据下图学习笔记归纳的学习主题是（ ）

- | |
|---|
| <ul style="list-style-type: none">• 开通大运河• “贞观之治” “开元盛世” |
|---|

· 鉴真东渡与玄奘西行

- A. 早期国家与社会变革
B. 政权分立与民族交融
C. 繁荣与开放的时代
D. 民族关系发展和社会变化

【答案】C

【解析】

【详解】根据题干“开通大运河”“贞观之治”“开元盛世”“鉴真东渡与玄奘西行”和所学知识可知，隋朝开通了大运河，促进了南北经济文化交流，也促进了经济发展。隋唐时期，特别是唐朝建立以来，先后出现“贞观之治”、“开元盛世”等治世局面，唐朝前期，社会经济呈现一派高度繁荣景象。唐朝时期，中国和邻国之间的交流非常频繁，“鉴真东渡与玄奘西行”都是唐朝对外开放的表现。材料反映了隋唐时期的社会特点是繁荣与开放，C项正确；早期国家与社会变革是夏商周时期的学习主题，排除A项；政权分立与民族交融是三国两晋南北朝时期的学习主题，排除B项；民族关系发展和社会变化辽宋夏金元时期的学习主题，排除D项。故选C项。

8. 元朝统治者打破以往依“山川形便”划分行政区域的原则，将自然环境差异极大的地区拼成一个一级政区，这一做法有利于管辖空前广阔的疆域。与之相关的制度是（ ）

- A. 郡县制
B. 刺史制度
C. 三省六部制
D. 行省制度

【答案】D

【解析】

【详解】根据题干“元朝”“山川形便”和所学知识可知，元朝为了统治辽阔的疆域，在地方上实施行省制度，为了加强中央集权、削弱地方割据的地理优势，元朝在划分地方行政区划时还采取“犬牙交错”的原则，D项正确；秦朝建立后，在全国推行郡县制取代分封制，排除A项；汉武帝建立刺史制度，把全国划分为13个州部，每州部派刺史一人，代表朝廷监视州部内的地方官吏、豪强及其子弟，严禁他们为非作歹，排除B项；隋朝建立三省六部制，唐朝完善三省六部制，明确中央机构的职权及决策程序，不符合题意，排除C项。故选D项。

9. 一位著名将领写诗明志“封侯非我意，但愿海波平”。这位将领是（ ）

- A. 郑成功
B. 戚继光
C. 林则徐
D. 左宗棠

【答案】B

【解析】

【详解】根据题干“封侯非我意，但愿海波平”和所学知识可知，明朝中期，倭寇侵犯我国东南沿海，明政府派年轻将领戚继光到浙东沿海抗倭，戚继光在人民群众的大力支持下，九战九捷，迅速荡平了浙江的倭寇，“但愿海波平”反映了这位民族英雄希望维护我国沿海安宁的宏愿，B项正确；1662年郑成功打败荷兰殖民者，收复台湾，而“封侯非我意，但愿海波平”是戚继光的诗句，排除A项；林则徐虎门销烟，显示了中华民族反抗外来侵略的坚强意志，他的著名诗句是“苟利国家生死以，岂因祸福避趋之”，排除C项；左宗棠收复新疆，“与‘海波平’的意象

不符，排除 D 项。故选 B 项。

10. 为了统一多民族国家的巩固和发展，历代统治者都重视对边疆地区的管辖。清朝在西藏地区设置（ ）

- A. 台湾府 B. 军机处 C. 驻藏大臣 D. 伊犁将军

【答案】C

【解析】

【详解】根据所学可知，雍正时期朝廷派驻扎大臣数员办理西藏事务，驻藏大臣成为定制，驻藏大臣是清朝中央政府治藏政策的具体实施者，直接传达皇帝旨意，C 项正确；1684 年，清朝设置台湾府，隶属福建省。台湾府的设置，加强了中央政府对台湾的管辖，巩固了祖国的东南海防，台湾的社会经济发展也步入了新的历史时期，排除 A 项；军机处是辅助皇帝处理政务的最重要的中枢机构，军政大事完全由皇帝裁决，军机大臣照皇帝的旨意拟写成文，经皇帝审阅同意后传达给中央各部和地方机构去执行，排除 B 项；清朝设置伊犁将军，管辖包括巴勒喀什池在内的整个新疆地区，不符合题意，排除 D 项。故选 C 项。

11. 小华在参观圆明园遗址时，看到残垣断壁，愤怒之情油然而生。火烧圆明园的是（ ）

- A. 葡萄牙殖民者 B. 荷兰殖民者 C. 英法联军 D. 八国联军

【答案】C

【解析】

【详解】依据所学知识可知，为了进一步打开中国大门，英国伙同法国发动了第二次鸦片战争，1860 年 10 月英法联军攻入北京，闯进圆明园，疯狂抢掠园中珍宝，为了掩人耳目，又放火焚毁了这座著名的皇家园林，C 项正确；火烧圆明园的是英法联军，葡萄牙殖民者于 1553 年攫取了澳门居住权，不符合题意，排除 A 项；火烧圆明园的是英法联军，荷兰殖民者盘踞我国台湾 38 年被郑成功驱逐，不符合题意，排除 B 项；八国联军于 1900 年侵华，占领北京但没有火烧圆明园，排除 D 项。故选 C 项。

12. 它被称为“地球上的红飘带”，是避开蒋介石魔爪的一次险象环生的战略转移，使中国革命转危为安。它是（ ）

- A. 秋收起义 B. 三湾改编 C. 井冈山会师 D. 红军长征

【答案】D

【解析】

【详解】根据题干“是避开蒋介石魔爪的一次险象环生的战略转移，使中国革命转危为安”和所学知识可知，由于第五次反围剿的失败，1934 年 10 月，红军从瑞金出发，开始长征。红军长征胜利的意义：粉碎了国民党消灭红军的企图，保存了党和红军的基干力量，使中国革命转危为安，D 项正确；1927 年 9 月，毛泽东在湘赣边界打出了“工农革命军”的旗帜，举行秋收起义。起义开始时比较顺利，攻占了一些县城，但由于城里敌人力量强大，起义军受到严重挫折，不符合题意，排除 A 项；三湾改编，从组织上确立了党对军队的领导，不符合题意，排除 B 项；井冈山会

【答案】A

【解析】

【详解】根据题干“揭开了人民解放军战略进攻的序幕”和所学知识可知，1947年夏，刘伯承、邓小平率领晋冀鲁豫解放军主力，强渡黄河，千里挺进大别山，直接威胁南京、武汉，像一把利剑插入了敌人的心脏，揭开了人民解放军战略进攻的序幕，A项正确；辽沈战役、淮海战役和平津战役是战略决战，其中辽沈战役解放东北全境，淮海战役的胜利，解放了长江中下游以北的广大地区，平津战役的胜利，使华北全境基本解放，均与题意不符，排除BCD项。故选A项。

16. 我们要铸牢中华民族共同体意识，促进各民族共同团结奋斗、共同繁荣发展，结成平等团结互助和谐的社会主义民族关系。我国在少数民族聚居地区实行（ ）

- A. 政治协商制度
- B. 民族区域自治制度
- C. 人民代表大会制度
- D. 一国两制

【答案】B

【解析】

【详解】根据所学知识可知，根据我国民族问题的历史特点和现实情况，中国共产党将民族区域自治制度确立为解决我国民族问题的基本政策，促进了各民族交往交流交融，促进各民族共同体团结奋斗、共同繁荣发展，B项正确；政治协商制度是我国的重要政治制度之一，指的是中国共产党领导下的多党政治协商，排除A项；人民代表大会制度是我国的根本制度，排除C项；一国两制构想是为了解决台湾、香港、澳门问题而提出，与题干信息不符，排除D项。故选B项。

17. 2024年5月1日，我国第三艘航空母舰福建舰从上海江南造船厂码头解缆启航，赴相关海域开展首次航行试验。我国第一艘航空母舰是（ ）

- A. 致远舰
- B. 南昌舰
- C. 辽宁舰
- D. 山东舰

【答案】C

【解析】

【详解】据所学可知，2012年9月，我国第一艘航空母舰“辽宁舰”交接入列，C项正确；“致远舰”是晚清北洋水师的战舰，排除A项；南昌舰是中国自主研发的055型驱逐舰首舰，2020年1月12日正式入列服役，排除B项；2017年4月26日，我国第二艘航空母舰山东舰，也是我国第一艘完全自主研发制造的国产航空母舰，排除D项。故选C项。

18. 新中国的成立，结束了我国百年的屈辱外交，翻开了外交事业的新篇章。同新中国一起成长起来的外交政策是（ ）

- A. 独立自主的和平外交政策
- B. 和平共处五项原则
- C. “求同存异”方针
- D. 全方位外交

【答案】A

【解析】

【详解】据题干“外交政策”和结合所学知识可知，新中国成立以来我国始终奉行的是独立自主

以上内容仅为本文档的试下载部分，为可阅读页数的一半内容。如要下载或阅读全文，请访问：

<https://d.book118.com/887153144005006143>