

人教版一年级数学上册一单元试卷附答案(四套)

目录:

人教版一年级数学上册一单元试卷附答案一

人教版一年级数学上册一单元试题及答案二

人教版一年级数学上册一单元试题及答案一三

人教版一年级数学上册一单元试题及答案 A4版四

人教版一年级数学上册一单元试卷附答案一

班级： 姓名： 满分：100分 考试时间：90分钟

题序	一	二	三	四	五	总分
得分						

一、我会算。（20分）

$9-4+3=$

$2+3+5=$

$10-5-2=$

$10-2-5=$

$5+4-3=$

$7-4-3=$

$8-4-4=$

$2+2+2=$

$9-6+5=$

$7+3-2=$

$10-7+4=$

$10-4-3=$

二、填空题。（20分）

1、与18相邻的数是_____和_____。

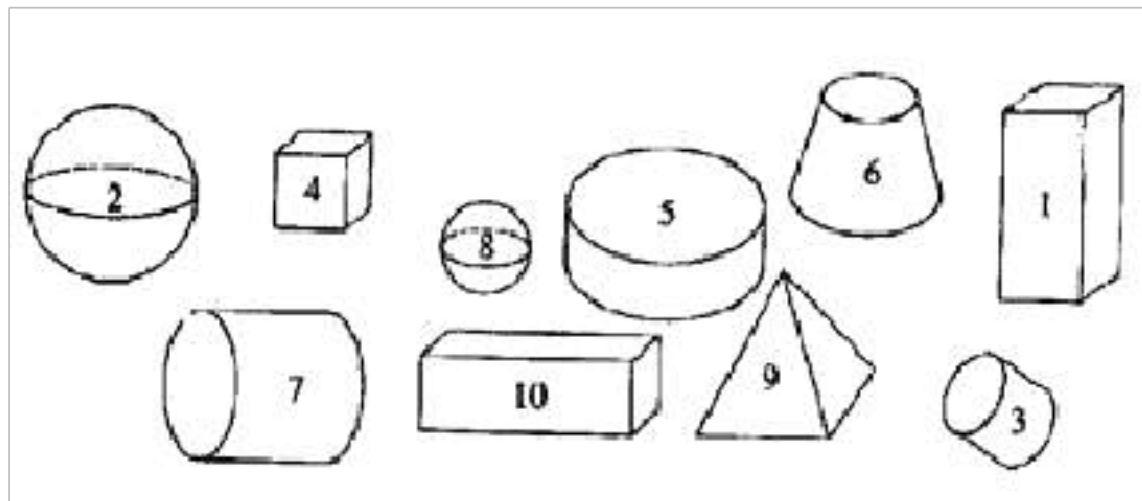
2、一个两位数，个位上是5，十位上是6，这个两位数是（_____）。

3、（_____）时整，时针和分针重合。

4、和40相邻的两个数是（_____）和（_____）。

5、用1、6、9三个数字任意选2个组成没有重复数字的两位数，最大的是（_____），最小的是（_____）。

6、长方体有_____个，正方体有_____个，圆柱有_____个。





7、秀秀和娜娜之间有（ ）人。

8、16 个位上是（ ），表示（ ）个（ ）；十位上是（ ），表示（ ）个（ ）。

9、20 里面有（ ）个十。

10、1 个十和 7 个一组成的数是_____。

三、选择题。（10 分）

1、一个笔筒 15 元，妈妈给了售货员 50 元，应找回（ ）元。

A. 35 B. 25 C. 15

2、下面算式的结果等于七十多的是（ ）。

A. $24+30$ B. $72-5$ C. $66+9$

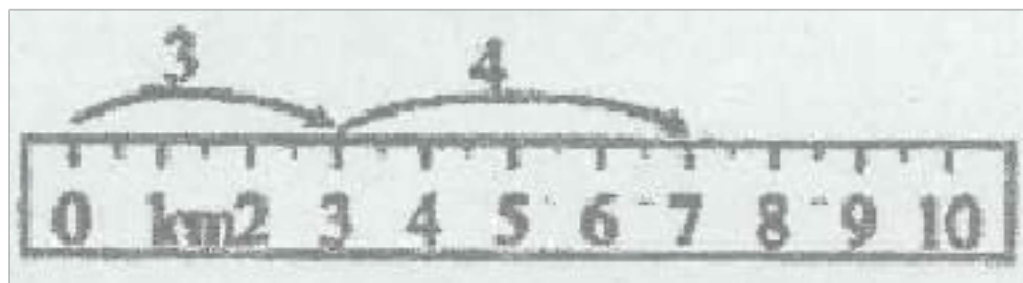
3、一个两位数，十位是 1，个位上的数比十位上的数大 5，这个数是（ ）。

A. 15 B. 16 C. 14

4、从 1 写到 100，一共写了（ ）个数字“5”。


A. 19 B. 20 C. 21 D. 25

5、看图列式，算式正确的是（ ）。



A. $3+5=8$ B. $3+7=10$ C. $3+4=7$

四、数一数，填一填。（10 分）




() 只 () 朵 ()



() 只 () 条 ()




五、解决问题。(30分)


1、公交车上原有13人，到站后下车了3人又上去7人，这时车上共有几人？




$$\square \bigcirc \square \bigcirc \square = \square \quad (\text{人})$$

2、文文可能花了多少钱？

		
6元	9元	7元

 我从上面三种中选了两种。

文文



3、2头大象运走一部分木头后还剩下多少根木头？(请用两种方法解答)

4、他们一共做好了多少朵？



$$\square \bigcirc \square = \square \text{ (朵)}$$



5、(1) 买1个 和 1辆 一共需要多少元？

$$\square \bigcirc \square = \square \text{ (元)}$$

答：买1个  和 1辆  一共需要_____元。

(2) 1架  比 1个  贵多少元？

$$\square \bigcirc \square = \square \text{ (元)}$$

答：1架  比1个  贵_____元。

(3) $35-16=\square$ 这个算式解决的是什么问题？

问题：_____。

参考答案：

一

8; 10; 3; 3;

6; 0; 0; 6;

8; 8; 7; 3

二

17 19

65

12

39 41

96 16

2 1 3

4

6 6 - 1 1 +

2

18

三

A

C

B

B

C

四

$525 > 2343 < 4$

五

$13 - 3 + 7 = 17$ (人)

$6 + 9 = 15$ (答案不唯一)

$90 - 30 - 40 = 20$ (根) 或 $90 - (30 + 40) = 20$ (根)

$8 + 8 = 16$

(1) $16 + 71 = 87$ 87 (2) $71 - 16 = 55$ 55 (3) 略 (答案不唯一)

人教版一年级数学上册一单元试题及答案二

班级： 姓名： 满分：100分 考试时间：90分钟

题序	一	二	三	四	五	总分
得分						

一、我会算。（20分）

$10-8=$

$7-6+5=$

$14-10=$

$9+7=$

$10-4-4=$

$8+5=$

$16-9=$

$2+7+6=$

$5+6=$

$4+9=$

$16-7+3=$

$13-5=$

二、填空题。（20分）

1、小红买了一枝 ，比9元贵，比10元便宜，这枝的价钱可能是（_____）。

2、从右边起，第一位是（_____）位，第二位是（_____）位，百位是第（_____）位。

3、16个位上是（_____），表示（_____）个（_____）；十位上是（_____），表示（_____）个（_____）。

4、在里填上“>”“ ”或“=”。

$4 \text{ } \bigcirc \text{ } 3$

$5 \text{ } \bigcirc \text{ } 2$

$0 \text{ } \bigcirc \text{ } 1$

$3+1 \text{ } \bigcirc \text{ } 4$

$5 \text{ } \bigcirc \text{ } 5$

$3 \text{ } \bigcirc \text{ } 1$

$2 \text{ } \bigcirc \text{ } 4$

$5-1 \text{ } \bigcirc \text{ } 3$

5、比14多6的数是（_____），比19少7的数是（_____）。

6、用做一个，数字“4”对（_____），“1”对（_____）。

7、有块表（如图），当时针从下表所示时间走到4时整时，分针和时针重合了_____次。





8、 () 元 () 角



() 元 () 角



() 元

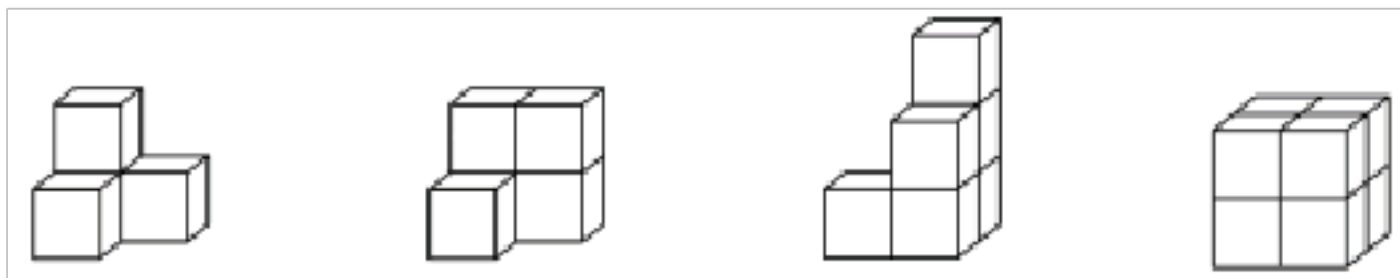


() 元

9、在里填上“+”或“-”。

$3 \bigcirc 2 = 5$ $4 \bigcirc 1 = 3$ $2 \bigcirc 2 = 4$
 $3 \bigcirc 0 = 3$ $2 \bigcirc 1 = 1$ $4 \bigcirc 1 = 5$

10、下图中各有几个小正方体？



() 个

() 个

() 个

() 个

三、选择题。(10分)

1、小东比小明多3朵花，小红有8朵花，则小东有()朵花。

- A. 5 B. 11 C. 无法确定

2、下图中()是长方体。

- A.  B.  C. 

3、小红家住在一座高楼上，她上面有7层，下面有8层，小红家的楼房一共()层。

- A. 15 B. 16 C. 14


、妹妹有1元钱，姐姐的钱比妹妹的多得多，姐姐可能有（ ）钱。

- A. 9角 B. 10元 C. 1元5角

5、用2、4、6、8、0组成最小的五位数是（ ）。

- A. 24680 B. 86420 C. 20468 D. 02468

四、数一数，填一填。（10分）



(1) 有（ ）个， 有（ ）个， 有（ ）个， 有（ ）个， 有（ ）个；

(2) （ ）最多，（ ）最少，（ ）和（ ）同样多；

(3) 比 多（ ）个， 比 少（ ）个。

五、解决问题。（30分）

1、一共有多少人？



2、一共有 19 只兔子。



$$\square \bigcirc \square = \square$$

3、聪聪和明明一共折了多少只纸船?



$$\square \bigcirc \square = \square \text{ (只)}$$

4、一共有多少颗樱桃?



$$\square \bigcirc \square \bigcirc \square = \square$$

、树上原来有 19 个桃子,第一次摘了 9 个桃子,第二次摘了 3 个桃子,一共摘了多少个桃子?

$$\square \bigcirc \square = \square \text{ (个)}$$

以上内容仅为本文档的试下载部分，为可阅读页数的一半内容。如要下载或阅读全文，请访问：<https://d.book118.com/908067002054006031>