

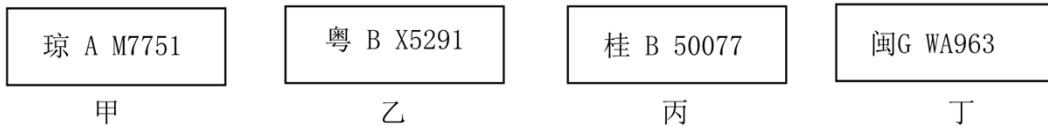
## 2022-2023 学年广东省深圳市龙岗区八年级（上）期末地理试卷

一、选择题（共 14 小题，每小题 2 分，共 30 分。在每小题给出的 4 个选项中，只有一项符合题意。请将答题卡上对应题目所选的选项涂黑。）

看纪录片学地理，《航拍中国》片头介绍：“你见过什么样的中国？是 960 万平方千米的辽阔，还是 300 万平方千米的澎湃？是四季轮回的天地，还是冰与火演奏的乐？”《舌尖上的中国》有这样的描述：“中国拥有世界上最富戏剧性的自然景观，……任何一个国家都没有这样多潜在的食物原材料。”据此完成下面小题。

1. “960 万平方千米的辽阔”“300 万平方千米的澎湃”说明了我国（ ）
- A. 邻国众多      B. 海岸线曲折      C. 岛屿众多      D. 疆域辽阔
2. 我国食物原材料丰富的原因有（ ）
- ①我国地跨寒温热三带    ②我国东西跨经度广    ③我国南北跨纬度广    ④我国地形复杂多样
- A. ①②③      B. ②③④      C. ①③④      D. ①②④

生活中我们接触到很多的事物，它们蕴含着丰富的地理信息。读下面甲乙丙丁 4 幅汽车牌照图片，完成下面小题。



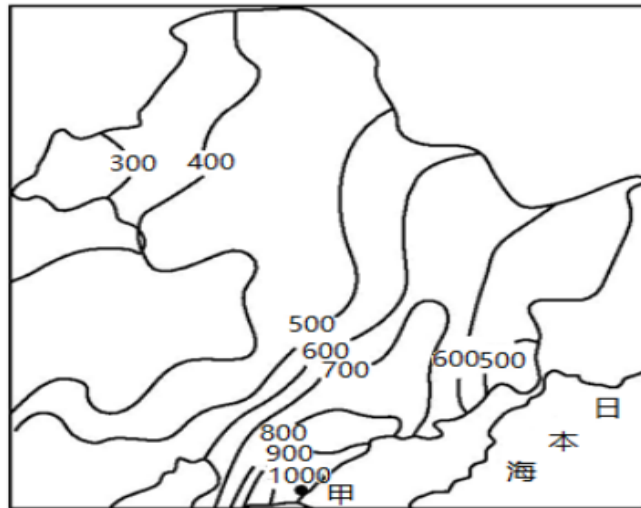
3. 上面 4 幅汽车牌照属地中，纬度最低的是（ ）
- A. 甲      B. 乙      C. 丙      D. 丁
4. 关于上面 4 幅汽车牌照属地所在省（区）的行政中心，正确的是（ ）
- A. 甲——三亚      B. 乙——深圳      C. 丙——贵阳      D. 丁——福州

2022 年某月，从吉林长春一路向南奔向海南海口的 Z384 次列车上，乘务员平均每隔 5 站就需要更换一套服装，成为车厢内行走的亮丽风景线。如图为乘务员依次更换的部分服装。据此完成下面小题。



5. 该月份可能是（ ）
- A. 12 月      B. 5 月      C. 7 月      D. 9 月
6. 乘务员依次更换服装的现象反映了我国气候（ ）
- A. 夏季普遍高温      B. 冬季南北温差大  
C. 干湿差异显著      D. 降水年际变化大
7. 造成这种气候差异的主要因素是（ ）
- A. 纬度位置      B. 海陆位置      C. 地形      D. 经度位置

8. (1分) 读东北地区年降水量分布图(单位: mm), 影响东北地区年降水量分布的主要因素有 ( )



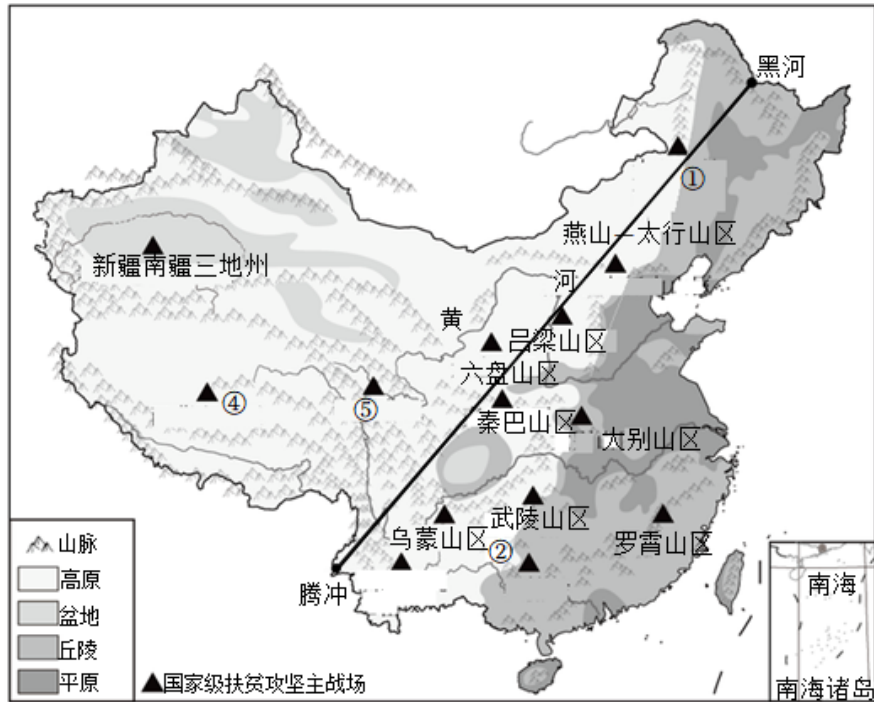
- ①太阳辐射 ②距海远近 ③季风风向 ④纬度位置  
 A. ①②                      B. ②③                      C. ③④                      D. ①④

第七次全国人口普查数据显示, 近十年来我国人口保持低速增长态势, 为此国家先后出台“二孩”“三孩”人口政策。表为2000年以来我国三次人口普查各年龄段比重。据此完成下面小题。

	各年龄段人口比重 (%)		
	0 - 14 岁	15 - 64 岁	65 岁及以上
2000 年第五次人口普查	22.8	70.2	7.0
2010 年第六次人口普查	16.6	74.5	8.9
2020 年第七次人口普查	17.9	68.6	13.5

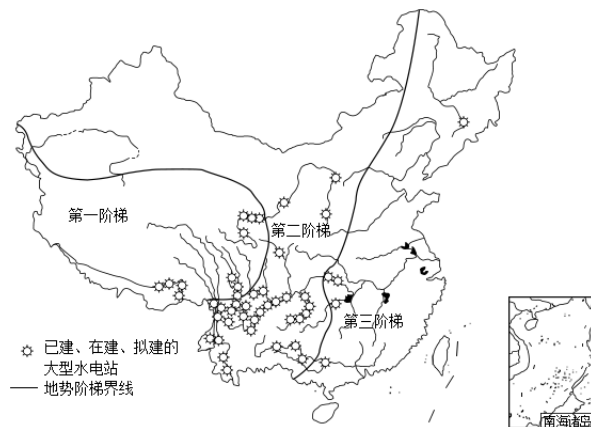
9. 2000 年以来, 我国人口年龄结构变化特点是 ( )  
 A. 0~14 岁人口比重持续上升                      B. 0~14 岁人口比重先升后降  
 C. 15~64 岁人口比重持续下降                      D. 65 岁及以上人口比重持续上升
10. 我国出台“二孩”“三孩”人口政策的主要目的是 ( )  
 A. 调整性别比例                                              B. 提高人口素质  
 C. 降低人口密度                                              D. 优化人口年龄结构

2020 年是全面建成小康社会的收官之年。“小康不小康, 关键看老乡, 关键看贫困老乡能不能脱贫”。如图为“我国扶贫攻坚主战场分布图”。据此完成下面小题。



11. 我国扶贫攻坚主战场主要分布在 ( )
- A. 平原和丘陵      B. 山地和高原      C. 平原和盆地      D. 盆地和丘陵
12. 下列山脉中, 属于我国第二、三级阶梯分界线的是 ( )
- A. 太行山      B. 六盘山      C. 大别山      D. 天山
13. 云贵高原与四川盆地结合部的乌蒙山区被称作一块脱贫攻坚难啃的“硬骨头”, 主要原因是 ( )
- ①地形地质复杂    ②基础设施落后    ③科学技术薄弱    ④民族矛盾尖锐    ⑤生活习惯懒散
- A. ①②③      B. ②④⑤      C. ①③④      D. ③④⑤

读中国主要大型水电站分布示意图, 完成下面小题。



14. 我国大型水电站分布最多的河流是 ( )
- A. 黄河      B. 淮河      C. 长江      D. 珠江
15. 有关长江的叙述, 正确的是 ( )
- A. 注入黄海海域      B. 下游河段冬春往往形成凌汛
- C. 流经我国地势三级阶梯      D. 河流发源地水能资源最丰富

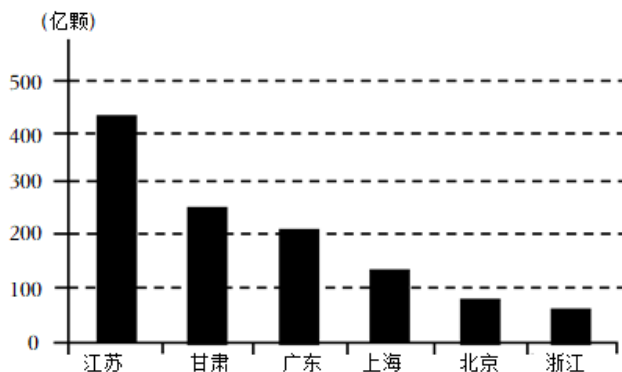




27. 该地实现农业可持续发展的出路在于 ( )

- A. 退耕还湖, 扩大渔业生产
- B. 修建梯田, 扩大种植业面积
- C. 退耕还林, 改善生态环境
- D. 陡坡种草, 大力发展畜牧业

芯片是半导体电子元器件的统称, 在现代电子与信息技术产业的发展中起着关键性作用。2018 年 8 月堪称世界最强芯的新一代“中国芯”以六项世界第一震惊全球。截止到 2020 年 7 月, 国内总共生产了接近 1400 亿颗芯片, 如图为我国主要省区芯片产量图, 读图完成下面小题。



28. 芯片的设计制造属于 ( )

- A. 高新技术产业
- B. 重工业
- C. 传统制造业
- D. 轻工业

29. 新一代中国芯的应用可能带来的影响有 ( )

- A. 增加了相关产品的生产成本
- B. 减少了与其他国家的经济联系
- C. 推动了我国科技的自主创新
- D. 发挥了我国劳动力的数量优势

30. (1 分) 海洋强国是指开发海洋、利用海洋、保护海洋、管控海洋方面拥有强大综合实力的国家, 建设海洋强国是中国特色社会主义事业的重要组成部分。我国拥有丰富的海洋资源, 主要原因是 ( )

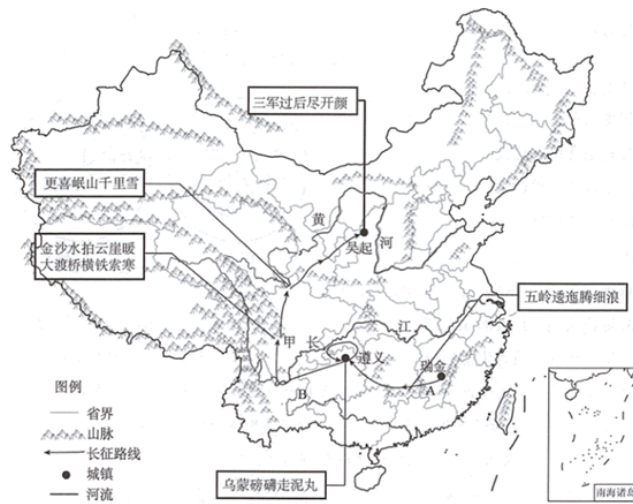
- A. 我国东西跨度大, 南北跨度大
- B. 海岸线漫长, 领海面积辽阔
- C. 夏季风给我国带来大量的降水
- D. 地势西高东低, 河流多自西向东汇入海洋

二、非选择题: 本大题共 2 小题, 每小题 10 分, 共 20 分。

31. (10 分) 阅读图文材料, 完成下列问题。

材料一: 《七律·长征》“红军不怕远征难, 万水千山只等闲……”长征行程约二万五千里, 是人类历史上的伟大奇迹。

材料二: “红军长征路线示意图”。

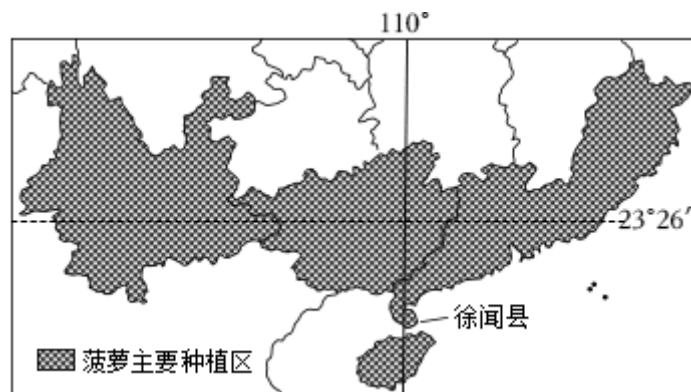


- (1) 中央红军长征路线的起点瑞金位于 \_\_\_\_\_ 省，位于地势第 \_\_\_\_\_ 级阶梯，依次经过的主要地形区有 A 丘陵、B \_\_\_\_\_ 高原。
- (2) 诗句“金沙水拍云崖暖，大渡桥横铁索寒”中的金沙江是位于长江的 \_\_\_\_\_（上/中/下）游河段，这里山高谷深，河流落差大，\_\_\_\_\_ 资源丰富。
- (3) “爬雪山、过草地”中的雪山地处青藏高原的边缘，农业主要以 \_\_\_\_\_ 业为主。
- (4) 最终到达终点吴起镇位于黄土高原，由于这里水土流失严重，形成 \_\_\_\_\_ 的地表形态。
- (5) 长征途经许多生态环境脆弱、经济欠发达的地区。近年来，这些地区大力发展旅游业，对这一做法你是否赞同？请说明理由。

32. (10分) 阅读图文材料，回答下列问题。

材料一：“中国菠萝看广东，广东菠萝看徐闻”。徐闻县位于中国大陆的最南端，年产菠萝 70 万吨左右，占全国菠萝产量的 40%，被誉为“中国菠萝之乡”。每年三、四月份是菠萝丰收的季节，漫山遍野的亿万株菠萝汇成一片“绿色海洋”，无边无际。“绿海”中铺满了金灿灿的菠萝，空气中弥漫着酸酸甜甜的香味，非常壮观，吸引着广大游客前往。

材料二：菠萝具有喜温暖、好雨雾、怕积涝的特性，以年均温 24~27℃、年雨量 1000~1500 毫米气候条件下生长最为适宜。如图为我国菠萝主要种植省区示意图。



- (1) 我国菠萝主要种植省区有云、桂、\_\_\_\_\_、\_\_\_\_\_、琼等。（填省级行政区域单位的简称）

(2) 我国菠萝主要种植省区所处纬度较 \_\_\_\_\_ (选填“高”或“低”), 水热 \_\_\_\_\_ (选填“充足”或“不足”), 但易受 \_\_\_\_\_ 气象灾害的影响产量不稳定。

(3) 我国的菠萝消费市场主要位于长三角、珠三角和京津唐地区, 据此可推断云南菠萝与徐闻菠萝相比, 更靠近消费市场的是 \_\_\_\_\_ 菠萝 (选填“云南”或“徐闻”)。为满足全国各地消费需求, 我国开启了菠萝高铁专列, 与传统的公路运输相比, 这种运输方式的优点是 \_\_\_\_\_、\_\_\_\_\_。

(4) 为促进徐闻的菠萝产业发展, 提高当地居民收入, 请为当地提出至少两项合理措施。



## 2022-2023 学年广东省深圳市龙岗区八年级（上）期末地理试卷

一、选择题（共 14 小题，每小题 2 分，共 30 分。在每小题给出的 4 个选项中，只有一项符合题意。请将答题卡上对应题目所选的选项涂黑。）

看纪录片学地理，《航拍中国》片头介绍：“你见过什么样的中国？是 960 万平方千米的辽阔，还是 300 万平方千米的澎湃？是四季轮回的天地，还是冰与火演奏的乐？”《舌尖上的中国》有这样的描述：“中国拥有世界上最富戏剧性的自然景观，……任何一个国家都没有这样多潜在的食物原材料。”据此完成下面小题。

1. “960 万平方千米的辽阔”“300 万平方千米的澎湃”说明了我国（ ）

- A. 邻国众多      B. 海岸线曲折      C. 岛屿众多      D. 疆域辽阔

**【分析】**我国的陆地面积是 960 万平方千米，居世界第三位，次于俄罗斯和加拿大。

**【解答】**解：“960 万平方千米的辽阔”“300 万平方千米的澎湃”说明了我国陆地面积和海洋面积广阔，我国疆域辽阔。

故选：D。

2. 我国食物原材料丰富的原因有（ ）

- ①我国地跨寒温热三带  
②我国东西跨经度广  
③我国南北跨纬度广  
④我国地形复杂多样

- A. ①②③      B. ②③④      C. ①③④      D. ①②④

**【分析】**我国地大物博，我国的气候和地形复杂多样，为农业发展多种经营提供有力条件。

**【解答】**解：我国南北跨纬度广、东西跨经度大，国土面积广大，地形复杂多样，山区面积广大，因此食物原材料极为丰富，②③④正确；我国主要位于北温带，小部分位于热带，无寒带，①错误。

故选：B。

生活中我们接触到很多的事物，它们蕴含着丰富的地理信息。读下面甲乙丙丁 4 幅汽车牌照图片，完成下面小题。

琼 A M7751

甲

粤 B X5291

乙

桂 B 50077

丙

闽G WA963

丁

3. 上面 4 幅汽车牌照属地中，纬度最低的是（ ）

- A. 甲      B. 乙      C. 丙      D. 丁

**【分析】**我国行政区划基本分为省、县、乡三级，目前共有 34 个省级行政单位，包括 23 个省、5 个自治区、4 个直辖市、2 个特别行政区。

**【解答】**解：此

以上内容仅为本文档的试下载部分，为可阅读页数的一半内容。如要下载或阅读全文，请访问：<https://d.book118.com/915040120241011222>