

## 中国一汽笔试参考答案

# 一般能力试卷

考试时间: 90 分钟

本试卷共 100 道试题, 每题 1 分, 满分 100 分。每题均为单项选择题, 每道题均只有一个正确答案, 请从备选答案中选出一个你认为正确的答案, 并涂在答题卡相应位置上, 答案写在试题卷上无效。

## 一、教学运用能力

### 数字推理

- 1、13579, 1358, 136, 14, 1, ( E )。  
A、1                      B、0                      C、-3                      D、-7
- 2、 $\frac{8}{9}$ ,  $-\frac{2}{3}$ ,  $\frac{1}{2}$ ,  $-\frac{3}{8}$ , ( A )。  
A、 $\frac{9}{32}$                       B、 $\frac{5}{72}$                       C、 $\frac{8}{32}$                       D、 $\frac{9}{23}$
- 3、2, 3, 5, 7, ( B )。  
A、8                      B、9                      C、11                      D、12
- 4、2, 4, 3, 5, 6, 8, 7, ( D )。  
A、15                      B、13                      C、11                      D、9
- 5、3, 7, 47, 2207, ( D )。  
A、4414                      B、6621                      C、8828                      D、4870847

### 数学运算

- 1、为节约用水, 某市决定用水收费实行超额超收, 标准用水量以内每吨 2.5 元, 超过标准的部分加倍收费。某用户某月用水 15 吨, 交水费 62.5 元, 若该用户下个月用水 12 吨, 则应交水费多少钱? ( B )。  
A、42.5 元                      B、47.5 元                      C、50 元                      D、55 元
- 2、某班有 50 名学生, 在第一次测验中有 26 人得满分, 在第二次测验中有 21 人得满分。如果两次测验中都没有得满分的学生有 17 人, 那么两次测验中都获得满分的人数是多少? ( A )。  
A、13 人                      B、14 人                      C、17 人                      D、20 人
- 3、某旅游景点商场销售可乐, 每买 3 瓶可凭空瓶获赠 1 瓶可口可乐, 某旅游团购买 19 瓶, 结果每人都喝到了一瓶可乐, 该旅游团有多少人? ( D )。  
A、19                      B、24                      C、27                      D、28
- 4、如果 2 斤油可换 5 斤肉, 7 斤肉可换 12 斤鱼, 10 斤鱼可换 21 斤豆, 那么 27 斤豆可换 ( A ) 油。  
A、3 斤                      B、4 斤                      C、5 斤                      D、6 斤
- 5、某班男生比女生人数多 80%, 一次考试后, 全班平均成绩为 75 分, 而女生的平均分比男生的平均分高 20%, 则此班女生的平均分是 ( )。  
A、84 分                      B、85 分                      C、86 分                      D、87 分
- 6、王方将 5 万元存入银行, 银行利息为 1.5%/年, 请问 2 年后, 他的利息是多少? ( C )。

A、1500元      B、1510元      C、1511元      D、1521元

1、某单位职工24人中，有女性11人，已婚的有16人。已婚的16人中有女性6人。问这个单位的未婚男性有多少人？（ B ）。

A、1      B、3      C、9      D、12

2、某单位召开一次会议，会期10天。后来由于议程增加，会期延长3天，费用超过了预算，仅食宿费用一项就超过预算20%，用了6000元。已知食宿费预算占总预算25%，那么总预算费用是（ B ）。

A、18 000元      B、20 000元      C、25 000元      D、30 000元

3、兄弟俩今年的年龄之和是35岁，当哥哥像弟弟现在这样大时，弟弟的年龄恰好是哥哥年龄的一半，则哥哥今年年龄为（ B ）岁。

A、20      B、21      C、23      D、22

4、小王8点整出门、步行到12千米远的同学家，他步行速度是每小时3千米，但他每走50分钟就要休息10分钟，则他（ D ）时到达。

A、12:30      B、12:35      C、12:20      D、12:40

## 二、言语理解与表达

### 语句表达

1、下列没有语病，句意明确的一句是（ ）。

- A、她马上召集常委会进行研究，统一安排了现场会的内容、时间和出席人员，以及会议中应注意的问题。
- B、有关部门对极少数不尊重环卫工人劳动、无理取闹、甚至殴打侮辱环卫工人的事件，及时进行了批评教育和严肃处理。
- C、当前和今后一个相当长的时间内，每年进入劳动年龄的人口数很大，安排城镇青年劳动力就业是一项相当繁重的任务。
- D、在古代，这类音乐作品只有文字记载，没有乐谱资料，既无法演奏，也无法演唱。

2、下列各句没有语病的一句是（ ）。

- A、强调生活的教育意义，并不意味着可以用生活取代教育，因为生活毕竟带有零散性并且还会有消极的东西。
- B、限期使用的产品，应当在显著位置清晰地标明生产日期、安全使用期和失效日期。
- C、他们在遇到困难的时候，并没有消沉，而是在大家的信赖和关怀中得到了力量，树立了克服困难的信心。
- D、根据一个小学校的统计，今年小学生的“人情消费”与去年相比，增加了近一倍左右。

1、下列有语病的一句是（ ）。

- A、歙砚是安徽知名的文房四宝，珍藏馈赠都很有价值。
- B、校庆期间，学校将举行多种形式的纪念活动。
- C、小张的作品在展会上受到专家的关注和好评。
- D、以友情助功业则功业成，为功业找友情则友情亡。

2、找出没有语病的一句（ ）。

- A、他非常懊悔自己当初不该借钱给这个吃里扒外的家伙，于是一见到他，就大声训了他一顿。

- B、为了正确把握戏中人物王伟的性格特征，他常常留心观察那些与王伟性格相似的人的言谈举止。
- C、人是需要运动的，既然如此，他就不应该那么不安静地呆着。
- D、如何发展油类作物，对农民的增收是有益还是有害？这是普遍存在着的思想顾虑。

1、下列句子有歧义的一项是（ ）。

- A、近年来，各国的政治家和学者纷纷预言下一世纪将是“亚洲世纪”或“太平洋世纪”。
- B、我们两个学校经国家教委批准于本月一日合并，各项工作运作良好。
- C、革命的文艺，应当根据实际生活创造出各种各样的人物来，帮助群众推动历史前进。
- D、人类语言采用声音作为手段，而不采用手势或图画，也不是偶然的。

**选词填空**

2、依次填入下面横线处的词，最恰当的一项是（ D ）。

稿子写完了，老王说过于\_\_\_\_\_，要我联系一些实际，\_\_\_\_\_一些内容。

- A、简单 添加
- B、生硬 补添
- C、空洞 增添
- D、理论 增加

3、地球之外究竟有无生命，过去的科学知识告诉我们，地球上的高文明生命形态，在太阳系内是惟一的。1984年，英国科学家在南极拾到一块陨石，经过美国科学家的研究证明，这块来自外太空的陨石内含有高浓度的有机体(或说原始的微生物)，说明地球不是惟一有生命的地方。当外星人近20年前首次出现在银幕上的时候，科学家们仍然没有发现任何此类活生生的生命，但是他们认为，\_\_\_\_\_。

填入横线部分最恰当的是（ A ）。

- A、其他星球也具备养育生命的条件。
- B、其他星球不具备养育生命的条件。
- C、其他星球也存在生命。
- D、其他星球不存在生命。

1、依次填入下面横线处的词，最恰当的一项是（ A ）。

①这篇社论指出：要得到人民群众的\_\_\_\_\_和支持，不是发出几个号召就能解决的，必须有正确的政策。

②扮演屈原的那个演员，无论是表情还是服装都很\_\_\_\_\_屈原的身份。

③国家煤矿安全监察局近日下发紧急通知，要求切实加强瓦斯治理，\_\_\_\_\_煤矿重特大事故的发生。

④\_\_\_\_\_达不到质量标准的产品，就不能接收，\_\_\_\_\_将对国家造成不应有的损失。

- A、拥护，契合，遏制，对于/否则
- B、拥戴，吻合，遏止，关于/因为
- C、拥戴，契合，遏制，关于/因为
- D、拥护，吻合，遏止，对于/否则

2、依次填入下面横线处的词，最恰当的一项是（ B ）。

可是不大功夫，红光就\_\_\_\_\_了，涂上的色料渐渐\_\_\_\_\_出它的本色，红是红、绿是绿的。

- A、没，显
- B、退，露
- C、掉，变
- D、退，显

- B、印度洋的地震和海啸警示我国要加快深海大洋研究
- C、地震引起的海啸可以造成巨大的破坏
- D、自然灾害是残酷无情的

↵

3、电子游戏为我们展现了一个不同于现实生活的新世界，人们在游戏里取得的成功是可以清晰定义的而且是可以实现的。玩家可以在游戏中控制整个世界，从而摆脱现实生活的焦虑感，使自己的行为在虚拟世界中变得举足轻重，成为一名英雄，游戏结束，他并没有真的输掉或赢得什么东西。

这段话直接支持这样一种观点，即（ ）。

- A、电子游戏完全是虚拟的东西，所以没有必要去浪费时间
- B、人们可以通过电子游戏在真实世界和欲望世界中寻求心理平衡
- C、人们在电子游戏中的成功是实在的，而且可以用来赚钱
- D、游戏让人们不付出代价，轻松地满足成就感

4、目前，研究人员尚不能确定，是先有抑郁症，还是先有沉溺网络，但有一点肯定的，即两者之间是一种恶性循环。抑郁症可以使青少年更加沉溺于网络，有抑郁症状的青少年基本没有生活目标，网络游戏中获得的虚拟奖励对他们来讲很有吸引力，虽然网络世界四通八达，但沉溺其中的青少年内心却异常孤独。

这段话支持了这样一种观点，即（ ）。

- A、抑郁症和沉溺网络两者之间存在一种恶性循环，对青少年的负面影响极大
- B、网络世界四通八达，但沉溺其中的青少年内心却是异常的孤独
- C、抑郁症可以使青少年更加沉溺于网络世界
- D、有抑郁症状的青少年基本没有生活目标，网络游戏中获得的虚拟奖励对他们来讲很有吸引力

5.春秋战国时期，诸侯之间兼并战争日趋剧烈，社会矛盾空前激化，游侠在民间悄然兴起。他们蔑视法律，标榜正义，“十步杀一人，千里不留行”，轻生死，重承诺，以抑强扶弱为己任。游侠的作为无形中威胁到封建法制，因此遭到了儒、墨、法等学派的敌视和攻击。在这种观点的影响下，诸子百家的著述中很少记载游侠的事迹。尽管如此，游侠故事在民间仍然广泛流传。游侠故事在民间的广泛流传，反映了当时的社会（ ）。↵

- A、上下各种矛盾空前激化
- B、封建法制遭到严重破坏↵
- C、游侠行为威胁封建法制
- D、反对儒、墨、法等学派↵

6.一些太空专家指出，太空站和探测飞船很可能带回太空微生物，这些微生物在孤立的空间内可能已经变种变形，如果它们回到地球并逃过被销毁的命运，肯定会对人类构成威胁。有报道说，和平号太空站就曾充斥着形形色色的变种真菌，它们若与地球泥土中可以分解的金属、玻璃和塑胶的细菌混合，足以构成对人类致命的威胁。↵

对本文理解正确的一项是（ ）。↵

- A、地球环境正处于太空变种真菌的威胁之下↵
- B、人类的太空活动可能导致太空微生物传至地球↵
- C、随着人类太空活动的增多，太空垃圾已影响人类生活↵
- D、太空变种真菌将是人类最致命的威胁↵

7.中国古代的科学著作大多是经验型的总结，而不是理论型的探讨，所以各项发明都是为了解决国家与社会生活中的实际问题，而不是试图在某一研究领域获得重大突破。从研究方法上来说，中国科技重视综合性的整体研究，重视从总体上把握事物，而不是把研究对象从错综复杂的联系中分离出来，独立研究它们的实体和属性，细致探讨它们的奥秘。这使得中国古代的科学技术没有向更高层次发展。这段文字重在说明（ ）。↵

- A、研究方法的缺陷使中国古代科技长期停滞不前↵
- B、解决实际问题是中国古代科技发展的动力↵
- C、中国古代的科学研究关注的重点及其历史背景↵
- D、中国古代的科技水平没有长足进步的根本原因↵

1. 中国传统的言说方式是“以言去言”，《老子》首章“道可道，非常道；名可名，非常名”非常清楚地表述了这一点。老子的论述可以从两方面来理解：首先，“道”、“名”是可以道、可以名的；其次，可道、可名的“道”、“名”并非那恒常的“道”、“名”。可见，在老子看来，作为世界本真的“道”、“名”是与作为言说工具的道、名不一样的。真正的“道”、“名”虽然可以被言说，但被言说的并不是真正的“道”、“名”；然而，如果完全不用言说，则根本无法论述“道”、“名”。因此，老子提倡一种“以言去言”的言说方式，即通过使人认识、领悟所言之道，达到“无言”，撤去语言的迷障，直达“道”之本真。根据这段话，以下说法正确的一项是（ ）。↵

- A、老子认为“道”、“名”是不可言说的↵
- B、老子认为被言说的“道”、“名”与作为世界本真的“道”、“名”是同一的↵
- C、老子言说“道”、“名”最终是为了使人认识、领悟“道”的本真↵
- D、老子认为不应用言说的方式论述“道”、“名”↵

2. 目前全国城市公交企业中，没有得到政府财政补贴或者补贴不足者仍占相当比例。因此，如果既不妨碍市民出行便利，又能有效筹集资金改善车辆、站场设施管理和服务水平，拿出部分公交站点进行有偿冠名，“取之于商，用之于民”，是保障其公益属性的持续与改善的良策之一。当然，有偿冠名必须有序进行，政府要加强行政监管，增加透明度，命名要征集市民意见，经政府地名管理部门审核，做到科学、标准、规范，并与城市的历史文化氛围保持一致。↵

以下选项不符合这段文字表述的意思的是（ ）。↵

- A、公交站有偿冠名有着一定的可行性↵
- B、全国城市公交企业中只有部分得到了政府财政补贴↵
- C、“用之于民”是公交站有偿冠名中应坚持的重要原则↵
- D、公交站有偿冠名是解决公共交通企业亏损运营问题的主要方法↵

3. 地震短期、临震预报仍是世界性难题。目前，精确预测地震的震级和时间还无法做到。国外地震学家普遍认为，地壳下层的塑性岩石或蛇纹岩被挤进地壳上层的裂缝中时，就会引发地震。这些容易滑动的蛇纹岩是由富含铁、镁的矿物与水作用而生成的，在此过程中会产生氢气。一旦该层发生断裂，氢气就经由断层的裂隙冒出，致使正常空气中的氢气浓度剧增。↵

这段文字的主旨是（ ）。↵

- A、说明地震并非不可预测
- B、描述地震发生的大致过程↵
- C、介绍一种地震预测的方法
- D、揭示地震与地层断裂的关系↵

1. 中世纪是西方社会最黑暗的时期，基督教处于万流归宗的地位。“中世纪的世界观本质上是神学的世界观”，“中世纪把意识形态的其他一切形式——哲学、政治学、法学都合并到神学中，使之成为神学中的科目”。因此，独立的法学消失了。↵

对这句话理解错误的是（ ）。↵

- A、独立的法学消失了，因此法学思想也随之消失了↵
- B、中世纪之所以没有独立的法学，是因为宗教处于统治地位↵
- C、法学思想糅合在神学中，被保存和发展下来↵
- D、独立的法学消失了，法学作为神学的科目被保存和发展下来↵

2. 学校党支部书记激动得眼睛闪着泪花，他说，他从事教育工作三十多年了，文革中被逼得吃鼠药走绝路，自己教的学生见了都躲着走，怕沾“臭老九”的边。如今，社会风气大变了。素不相识的农民摆酒席慰问教师，县委领导作陪，这在过去连做梦也想不到。最能准确复述这段话主要意思的是（ ）。↵

- A、学校党支部书记因为农民摆酒席慰问老师而激动↵
- B、社会上尊师重教已成为一种风气↵
- C、老师在“文革”中遭到迫害↵



D、学校党支部书记回顾他从教三十年来的经验，感到今天素不相识的农民摆酒席慰问教师是对教育工作者的重视。

1. 当雇员和雇主不共处一地的时候，管理工作就必须适应这种情况，要使每一个人学会把自己训练成为独当一面的生产能手。新的反馈机制必将形成、发展，老板和工人应能确定所做的工作质量了。

这段话主要说明（ ）。

- A、管理工作的重要性
- B、在生产当中，老板与工人之间的新的反馈机制的作用
- C、老板与工人之间的关系
- D、新的反馈机制如何起作用

2. 引进企业，要有良好的合作伙伴，对于外企，最好的合作伙伴是民间企业。造就大量的民间企业既是引进外企的重要条件，也是我国市场经济健康发展的关键。市场经济本质上是民间经济。放手发展民间经济才能更好地引进外国企业，也才能更好地改革大中型国有企业。

这段话主要支持了这样一种论点，即（ ）。

- A、引进企业，要有良好的合作伙伴
- B、放手发展民间企业，建立良好的企业基础
- C、造就大量的民间企业是我国市场经济健康发展的关键
- D、放手发展民间经济才能更好地改革大中型国有企业

3. 一位领导者的影响作用是整体性的。也就是说，职权影响力和个人影响力在领导过程中，总是相互联系、相互交织地发挥作用的。对领导者来说，为了实现领导，必须有一定的职位权力，才能借以推进他所负责的工作。但是，如果领导者只凭职位权力去推进工作，甚至滥用权力，以权压人，事情肯定是办不好的。

这段话主要支持了这样一个论点，即（ ）。

- A、对领导者来说，做好领导工作靠的不是职权影响力，而是个人影响力
- B、对领导来说，发号施令，滥用权力，以权压人，往往做不好领导工作
- C、对领导来说，为了实现领导，有一定的职位权力是最重要的
- D、对领导者来说，将职权影响力和个人影响力综合起来加以运用，才能提高领导效能

1. 把民族传统文化作为一种产业来开发，将文化资源全面推向市场，使少数民族传统文化成为市场大环节中的一个有效组成部分。而传统民族体育、传统文艺表演、传统人文景观，都将可以成为企业营销的好场所。因为，少数民族地区的经济发展不仅要靠引进外资，提高产品的技术含量，建立高效的激励机制等，而且需要一个良好的企业形象。一个企业的形象效果以及产品的营销战略不仅重要，而且文化与经济将有效互补，共同繁荣。

这段话主要支持了这样一种论点，即（ ）。

- A、少数民族传统文化是一种有待开发的产业
- B、少数民族地区的经济发展需要良好的文化氛围
- C、市场经济条件下，少数民族传统文化资源可以转化成巨大的经济价值
- D、少数民族的文化与经济有效互补，共同繁荣

2. 一个年轻人寄了许多份简历到一些广告公司应聘，其中有一家公司写了一封信给他：“虽然你自认为文采很好，但从你的来信中，我们发现了许多语法错误，甚至有一些错别字。”这个青年想如果这是真的，我应该感谢他们告诉我，然后改正。于是他给这个公司写了一封感谢信。几天后，他再次收到这家公司的信函，通知他被录用了。

这段文字主要想告诉我们（ ）。

- A、机会往往在不经意间获得
- B、公司招聘时更看重求职者的态度
- C、谦虚能获得知识和别人的尊重
- D、良好的文字功底是成功求职的前提



1. 由于自然地理环境的各个因素（气候、地形、土壤、水陆分布、资源贮存等）在地球表面的分布表现出的巨大地理差异性，因而各种因素在某一地区的不同组合对人口分布所提供的条件就大不一样。现在世界上人口分布的不平衡，在很大程度上是由于自然地理条件所施加的种种影响造成的。↵  
这段话主要支持了这样一个论点，即（ ）。↵  
A、自然地理环境因素在各地区表现有诸多差异性↵  
B、自然地理环境的差异因素为人口分布提供了不同的条件↵  
C、世界人口的分布不平衡皆因自然地理环境之差异↵  
D、自然地理环境的差异影响着各地的人口分布状况↵
2. 1957年西安灞桥出土的西汉初期的麻纸，是现存世界上最早的植物纤维纸。在此前后，新疆罗布淖尔、甘肃居延、陕西扶风、敦煌马圈湾、天水放马滩等地也都有西汉麻纸的发现。这些发现确凿表明，中国早在公元前2世纪就已发明了造纸术。这段话主要支持了这样一个论点，即（ ）。↵  
A、我国是最早发明纸的国家↵  
B、我国出土了世界上最早的植物纤维纸↵  
C、我国目前在多处发现的纸张均为西汉时期的↵  
D、出土纸张的数量和年代表明，我国早在西汉时期已发明了造纸术↵
- ↵
3. 唐律实行“一准乎礼”的方针，体现了封建伦理的基本精神，即完全以儒家礼教纲常作为立法的指导思想和定罪量刑的理论依据。纲常礼教与封建法律的结合，自汉代开始以来，历经数百年的演化渗透和融合过程，至唐代臻于完善，使唐律成为封建纲常法典化的典型代表，从而实现了“礼”与“法”的合一、法律规范与道德规范的一致。唐律的“一准乎礼”，是中华法系与其他法系相区别的主要特点。↵  
最能准确概括这段话意思的是（ ）。↵  
A、唐律体现了封建伦理道德的基本精神↵  
B、唐律的儒家礼教纲常作为定罪量刑的理论依据↵  
C、礼与法的结合，在唐代臻于完善↵  
D、“一准乎礼”，是中华法系与其他法系相区别的主要特点↵

### 三、判断推理

#### 事件排序

每道题给出五个事件，每个事件是以简短语句表述的，接着给出四种假定发生顺序的数字序列，请你选择其中最合乎逻辑的一种事件顺序。注意要以最少的假设来联系和安排这五个事件的发生顺序。

1. 答案是 ( C )。

- |                  |              |
|------------------|--------------|
| (1)小王的建议没有被采纳    | (2)小王受到工厂的奖励 |
| (3)小王提出五项“合理化建议” | (4)厂长说“贵在参与” |
| (5)厂长号召职工关心企业建设  |              |

- |             |             |
|-------------|-------------|
| A、4—2—3—1—5 | B、5—2—3—4—1 |
| C、5—3—1—4—2 | D、4—2—1—3—5 |

2. 答案是 ( B )。

- |         |         |         |         |         |
|---------|---------|---------|---------|---------|
| (1)现场考察 | (2)通过鉴定 | (3)争取项目 | (4)模拟实验 | (5)查阅资料 |
|---------|---------|---------|---------|---------|

- |             |             |
|-------------|-------------|
| A、5—3—1—4—2 | B、3—5—1—4—2 |
| C、3—1—5—4—2 | D、3—5—4—1—2 |

3. 答案是 ( B )。

- |                |                 |
|----------------|-----------------|
| (1)强调应舒适、实用    | (2)对居住面积提出了新的要求 |
| (3)室内陈设应具有美学观点 | (4)住所的位置是关键所在   |
| (5)不满一般的室内装修   |                 |

- |             |             |
|-------------|-------------|
| A、1—2—3—4—5 | B、1—3—5—2—4 |
|-------------|-------------|

C、3—2—1—4—5

D、

4—2—5—1—3

1. 答案是 ( B )。

- |           |         |            |
|-----------|---------|------------|
| (1)带球连过数人 | (2)球进了  | (3)守门员没有扑住 |
| (4)一脚劲射   | (5)观众欢呼 |            |

- |             |             |
|-------------|-------------|
| A、3—4—1—2—5 | B、1—4—3—2—5 |
| C、4—3—1—2—5 | D、4—2—3—1—5 |

2. 答案是 ( B )。

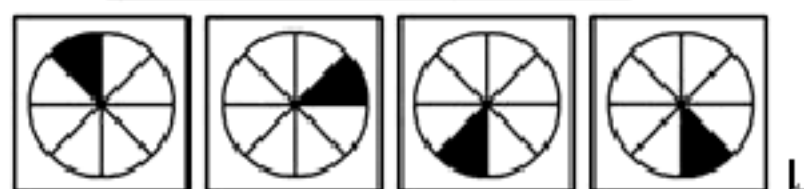
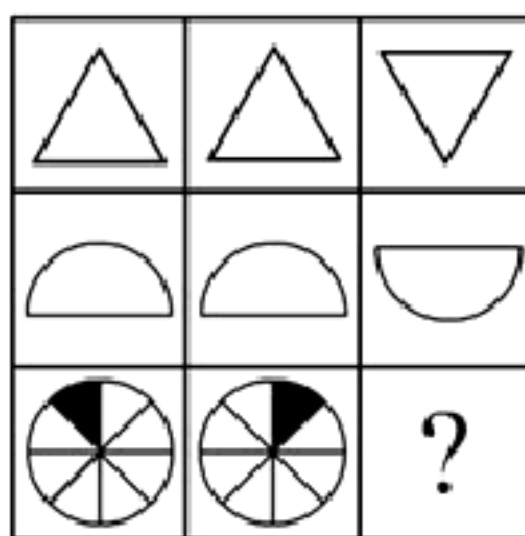
- |         |         |             |
|---------|---------|-------------|
| (1)定编定员 | (2)确定职责 | (3)工作效率大大提高 |
| (4)精简人员 | (5)调整机构 |             |

- |             |             |
|-------------|-------------|
| A、5—1—4—2—3 | B、1—4—5—2—3 |
| C、5—1—3—2—4 | D、1—2—3—4—5 |

#### 图形推理

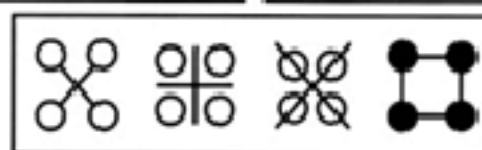
每道题包含一套或两套图形和可供选择的四个图形，这一套或两套图形具有某种相似性，也存在某种差异。要求你从四个选项中选择你认为最适合取代问号的一个，或者补充在第一套图形最后面。正确的答案应不仅使两套图形表现出最大的相似性，而且使第二套图形也表现出自己的特征。

1. 3. 正确答案为 ( D )。



A      B      C      D

1. 正确答案为 ( C )。



A      B      C      D

2. 正确答案为 ( B )。

以上内容仅为本文档的试下载部分，为可阅读页数的一半内容。如要下载或阅读全文，请访问：<https://d.book118.com/927166061065010002>