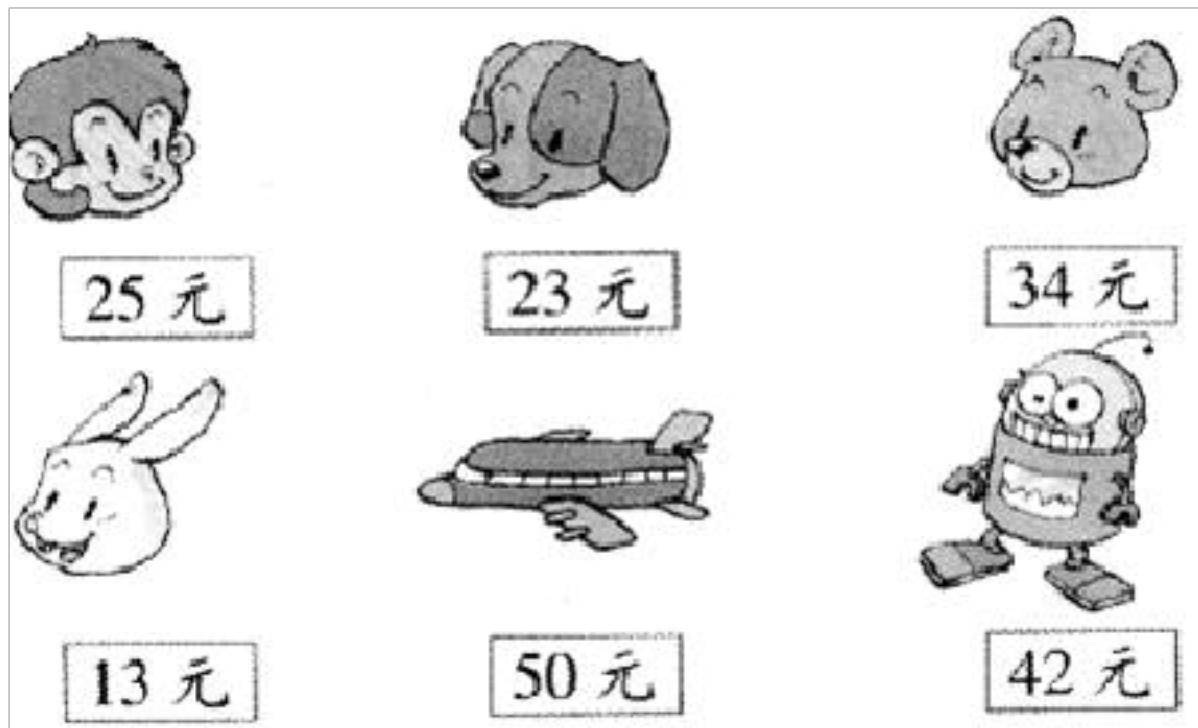


一年级下册数学解决问题 100 道

一. 解答题(共 100 题, 共 552 分)

1. 啄木鸟妈妈说: “我们一共吃了 18 条虫子。” 啄木鸟宝宝说: “我吃了 9 条虫子。” 妈妈吃了几条虫子?
2. 算一算。



(1) 买两种玩具需要多少钱?

$$\square \bigcirc \square = \square \text{ (元)}$$

(2) 至少要多少钱可以买到两种玩具?

$$\square \bigcirc \square = \square \text{ (元)}$$

3. 公交车上原来有 15 人, 车在某站停靠时下去了 7 人, 又上来了 6 人, 车上现在有多少人?



$$\square \bigcirc \square \bigcirc \square = \square \quad (\quad)$$

4. 妈妈买了 11 个蛋糕，昨天吃掉了 7 个，请问还剩下几个？
 5. 箱子里有 24 瓶矿泉水。还剩下多少瓶？



$$\square \bigcirc \square \bigcirc \square = \square \quad (\text{瓶})$$

6. 明明和笑笑看一本书，笑笑看来 37 页，明明看了 15 页，谁看的多？
 7. 星期天，小明到超市去购买东西。



(1) 小明买一把尺子，给售货员一张 20 元，应找回多少元？

(2) 小明有 70 元，他可以恰好购买哪两件东西？

8. 开学前，妈妈带小红去买文具和新衣服，价格是这样的：



(1) 买一件衣服和一条裤子一共需要多少元？

(2) 一个书包比一个铅笔盒贵多少元？

(3) 妈妈带了 50 元，买了一个书包，还剩多少钱？





(4) 如果妈妈带了 60 元，要能买上面的三件东西，可买哪三件？列出算式算一算。

9. 我从盒子里拿出 9 粒白棋子，然后又放进去 15 粒，盒子里多了几粒棋子？

10. 足球原价 68 元，商场国庆搞促销活动，每个优惠 8 元，现在每个足球多少钱？
11. 一（1）班男生有 28 人，女生比男生少 8 人，女生有多少人？
12. 妈妈买回来 16 个梨，比桃多 7 个，桃有多少个？
13. 实验小学 201 班 5 月份用电 83 度，6 月份上半月用电 48 度，下半月用电 46 度，201 班 5 月份和 6 月份哪个月用电多？多多少度？
14. 看图列式作答。



芳芳比冬冬少做多少个？

15. 饲养场共养猫 80 只，有 20 只 ，10 只 ，剩下的是 ， 有多少只？

16. 一个篮球 70 元，一个足球 25 元，小明要买足球和篮球，请问带一张



够吗？

17. 解答题。



- (1) 买一条裤子和一双鞋子共花多少钱？

$$\square \bigcirc \square = \square \text{ (元)}$$

(2) 上衣比裤子贵多少元?

$$\square \bigcirc \square = \square \text{ (元)}$$

18. 一盒水彩笔 12 元，一个调色盘 4 元，买这两样需要多少钱？我付给售货员 20 元，还要找回多少元？

19. 趣味运动会上，“齐心协力”需要一位老师和一名学生组成一队参与活动。现在场上有 11 名学生和 8 位老师，还缺几位老师？

20. 苹果有 56 个，梨的个数比苹果多 7 个，梨有多少个？

21. 小强想买一个玩具车，他有 20 元钱，还差 5 元才能买到，一个玩具车要多少钱？

22. 李老师送一队小朋友去上学，这一队小朋友共有 27 人，小明的前面有 19 人，他的后面有几人？

23. 宠物店里有 12 只小狗，卖掉 3 只，宠物店里还剩几只小狗？

24. 小小商店。


衬衣 56 元 帽子 12 元 裤子 67 元 鞋 20 元

(1) 爸爸给小明买了一顶帽子和一双鞋，一共用了多少钱？

(2) 爸爸买一件衬衣，付出 50 元，还差多少钱？

25. 小猫妈妈带着小猫宝宝去钓鱼，它们一共钓了 38 条鱼，小猫宝宝吃了 8 条。它们还剩下多少条鱼？



26. 商店进来  玩具 13 只，卖出 8 只，现在还有多少只没卖？

27. 同学们踊跃为希望小学捐书，一（一）班捐了 26 本，一（二）班捐了 9 本，两个班共捐了多少本书？

$$\square \bigcirc \square = \square \text{ (本)}$$

答：两个班共捐了（ ）本书。

28. 商店运来 80 袋奶糖，上午卖了 24 袋，下午卖了 9 袋，一天一共卖了多少袋奶糖？

29. 红红叠了 23 只红色千纸鹤，绿色千纸鹤比红色千纸鹤少 5 只，绿色千纸鹤比蓝色千纸鹤多 6 只。红红叠了多少只蓝色千纸鹤？

30. 操场上跳绳的有 15 人，踢足球的有 7 人，打篮球的有 9 人。

(1) 打篮球和踢足球的一共有多少人？

(2) 跳绳的女生有 6 人，男生有多少人？

31. 爸爸买了一些香蕉，吃了 7 个后还剩 45 个，爸爸一共买了多少个香蕉？

32. 两个同学比赛跳绳，小红 1 分钟跳了 86 下，小玉比小红多跳了 9 下，小玉跳了多少下？

33. 小白兔比小灰兔多拔了几个萝卜？



34. 原来有 17 个气球，被吹走的 8 个，还剩下多少个？

35. 小雨和小雪共画了 12 朵花，小雨画了 9 朵，小雪画了几朵？



小雨拿了 50 元，买一个  和一只 ，钱够吗？

37. 小军做了 30 个，小华做了 37 个，小军再做多少个就和小华同样多？

38. 解决问题。

(1) 小永有 11 枚邮票，送给小华 2 枚，还剩多少枚邮票？

(2) 小兰有 11 本练习本，用了 9 本，还剩几本练习本？

39. 小明作业一共有 11 页，他做完了 3 页，请问还有多少页要做？

40. 看图回答。




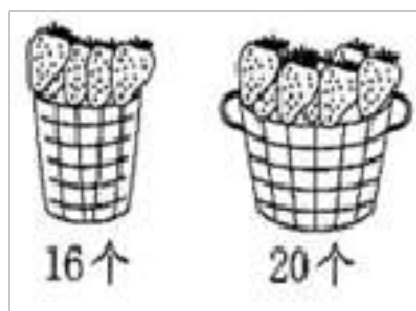
(1) 妈妈买了一瓶果汁，付给售货员 20 元，应找回 () 元。

(2) 王叔叔买一筒茶叶，付给售货员 30 元，找回 6 元。一筒茶叶 () 元。

(3) 一筒奶粉比一瓶果汁贵 14 元，一筒奶粉 () 元。

(4) 一筒奶粉和一筒茶叶相差 () 元。

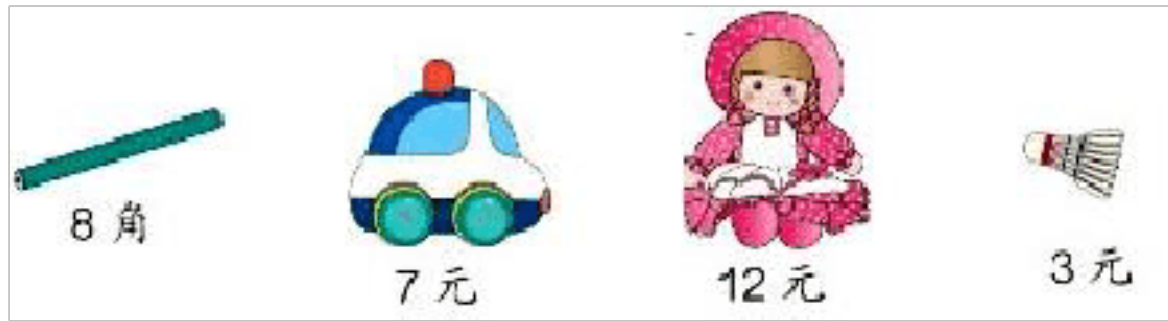
41. 幼儿园小班一共有 40 个小朋友，每人发 1 个 ，够不够？



42. 大生有 23 个气球，里面有 8 个红气球，其余的是黄气球，黄气球有多少个？

43. 爸爸买一把椅子，付了 4 张 10 元，又付了 1 张 5 元，店员找回 6 角钱，一共付了多少钱？

44. 解答题。



(1) 一辆小汽车和一个羽毛球一共多少钱？

(2) 一支铅笔和一个布娃娃一共多少钱？

(3) 一辆小汽车比一支铅笔贵多少钱？

(4) 你还能提出其他数学问题并解答吗？

45. 藤上原来有 15 条黄瓜，掉了 8 片叶子，李叔叔摘下了 9 条黄瓜。

藤上还有多少条黄瓜？




$$\square \bigcirc \square = \square ()$$

46. 划走了几只？



47. 小天有了多少本书?



$$\square \circ \square = \square \text{ (本)}$$

48. 桌子上有两堆小棒, 从第一堆里拿 10 根放进第二堆, 两堆小棒就一样多. 哪一堆小棒根数多? 多几根?

49. 共有 42 条鱼, 10 条鱼放一个鱼缸, 可以放满几个鱼缸?

50. 丽丽有 45 支铅笔, 用了 20 支后, 妈妈又给她买了 8 支, 现在丽丽有多少支铅笔?


51. 趣味运动会上, “齐心协力”需要一位老师和一名学生组成一队参与活动。

现在场上有 11 名学生和 8 位老师, 还缺几位老师?

$$\square \bigcirc \square = \square \text{ (位)}$$

答：还缺_____位老师。

52. 一共有 58 个盘子，还有 9 个没洗，已经洗了多少个盘子？

53. 妈妈买来 30 个 ，吃了一些，还剩下 20 个，吃了多少个？

54. 原来有 56 个梨，卖出一些后还剩 20 个，卖出了多少个？

55. 鱼缸里有 13 条红金鱼，5 条花金鱼。花金鱼再买几条就和红金鱼同样多？

56. 池塘里有 15 只鸭子，有 9 只是白鸭子。游走了 8 只，池塘里还有多少只鸭子？

$$\square \bigcirc \square = \square \text{ (只)}$$

答：池塘里还有（ ）只鸭子。

57. 车上原来有 12 个人，先下去了 4 个人，又上来了 5 个人，现在有几个人？


58. 小红借给李军 10 本练习本，又借给王思 8 本练习本，共借出多少本？

59. 美术小组有 16 人，音乐小组有 7 人，音乐小组和美术小组一共有多少人？

60. 小兔们采了 15 个蘑菇和 7 棵白菜。吃了 6 个蘑菇，还剩多少个蘑菇？

61. 美术小组有 46 人，舞蹈小组的人数比美术小组少 2 人，舞蹈小组有多少人？篮球小组的人数比美术小组多 5 人，篮球小组有多少人？



62. 班上有男生 20 人，的人数和男生同样多。班上共有多少名同学？

63. 下面是实验小学今年植树的棵数。

杨树	桃树	杏树
17 棵	9 棵	7

(1) 杨树比桃树多几棵？

以上内容仅为本文档的试下载部分，为可阅读页数的一半内容。如要下载或阅读全文，请访问：<https://d.book118.com/928071027115007004>