

# 2021 级高三校际联合考试

## 历史试题

2024.05

### 注意事项：

1. 答卷前，考生务必将自己的姓名、考生号等填在答题卡和试卷指定位置。
2. 回答选择题时，选出每小题答案后，用铅笔把答题卡上对应题目的答案标号涂黑。如需改动，用橡皮擦干净后，再选涂其他答案标号。回答非选择题时，将答案写在答题卡上。写在本试卷上无效。
3. 考试结束后，将本试卷和答题卡一并交回。

一、选择题：本题共 15 小题，每小题 3 分，共 45 分。每小题给出的四个选项中，只有一项是最符合题目要求的。

1. 聘礼是王、诸侯国之间结好关系之礼。西周时期，聘礼主要是天子聘诸侯，诸侯觐见天子，诸侯间的互聘并不显著；春秋时期，天子与诸侯间的聘礼十分稀疏，诸侯间的聘礼日益频繁；至战国，聘礼已不再经常举行，七国间由辩士任使臣的遣使交通却非常频繁。这表明（ ）

- A. 时局变化推动礼仪革新
- B. 外交更加注重现实利益
- C. 实力决定列国关系走向
- D. 诸侯国结盟与背盟频发

2. 《汉书》首创并特别重视《地理志》。首次以“地理”命名，专章论述全国疆域、政区、户籍，兼及自然、人文等事。这反映了（ ）

- A. 国家疆土意识强化
- B. 服务现实色彩浓厚
- C. 史学功能得以拓展
- D. 治理体系成熟完备

3. 唐显庆四年（659 年），唐高宗颁布《显庆姓氏录》，规定只要做官进了五品，就可以列入其中。这是由政府公布的士族等第的权威名录，被列入名录的有 245 姓、287 家，较之唐太宗时减少 48 姓、1364 家。

此举旨在（ ）

- A. 巩固统治基础
- B. 强化中央权威
- C. 推进科举改革
- D. 平衡派别利益

4. 明洪武年间，建历代帝王庙，一并祭祀历代帝王。洪武二十一年，确定历代开国之君自伏羲氏、神农氏、黄帝至元世祖共 16 帝入祀。如表为此后变化情况（ ）

时间段	入祀标准	增加祭祀

	入祀人数			停止祭祀
明嘉靖中期	15	开国创业之君		元世祖
清顺治元年	16	开国创业之君	明太祖	
清顺治二年	21	开国创业之君	恢复元世祖，新增辽太祖、金太祖、金太宗、元太祖	
清康熙末年至雍正初	164	除无道被弑和亡国之主，皆可入祀	夏启、商太甲、周成王、崇祯帝等 143 人	

明清时期国家祭祀历代帝王主要目的是

- A. 促进统一多民族国家认同  
 B. 宣扬天下一家的政治理念  
 C. 彰显自身统治的正统性质  
 D. 缓和朝代更迭引起的动荡

5. 1855 年，湖南巡抚骆秉章“严饬各州县，将钱粮素弊，大加厘剔”，率先“减赋”，民间不仅“全完”了当年田赋和“上年蒂欠”，对 1851-1853 年的积欠也“率皆踊跃输将”。这一做法很快在湖北、江西、安徽、江苏、浙江推广。“减赋”的主要用意是（ ）

- A. 收揽人心增加收入  
 B. 革除积弊引领改革  
 C. 减轻负担发展经济  
 D. 增加积累推进洋务

6. 甲午战争后，原占出口值一半以上的丝、茶两项，到 1920 年仅占 20%，而豆类、花生、芝麻、油类四项出口总值竟超过丝茶总值，蛋品、皮毛等农家副业产品增长也较快。这一变化说明中国（ ）

- A. 传统经济结构加速解体  
 B. 经济对外依附性增强  
 C. 对外贸易市场发生变化  
 D. 近代工商业有所发展

7. 如表为 1920 年代中国部分省份农会会员统计（不含江苏二三十万）。据此可知（ ）

省	1926 年 6 月	1927 年 6 月
---	------------	------------

份	会员人 数	占全国百 分比	会员人 数	占全国百 分比
---	----------	------------	----------	------------

广东	647766	66.0	700000	7.6
湖南	38150	3.9	4517140	49.4
湖北	4120	0.4	2502600	27.3
江西	1153	0.1	382617	4.2
河南	270000	27.5	245500	2.7
陕西	1000	0.1	705160	7.7
全国	981442	100	9153093	100

- A. 农民阶级成为国民革命主力  
 B. 两湖地区土地革命成效显著  
 C. 政治生态影响农运地域格局  
 D. 农民运动推动国民革命发展

8. 1950年《中华人民共和国土地改革法》在具体政策上作出若干重要修改（如图）。这次重要修改（ ）

（一）对富农由征收多余土地财产，改为保存富农经济；  
 （二）对地主只没收他们的土地、耕畜、农具、多余的粮食及其在农村中多余的房屋，其他财产不予没收，不再采用“挖浮财”那些做法；  
 （三）提高小土地出租者保留土地的标准；  
 （四）在土地改革中切实团结和保护中农。

- A. 贯彻落实新民主主义经济政策  
 B. 适应社会主义工业化建设需要  
 C. 为国民经济的恢复和发展服务  
 D. 团结社会各阶层建设社会主义

9.

1984年，中共中央决定指出：“在生产资料公有制基础上实行计划经济……是社会主义经济优越于资本主义经济的根本标志之一”“实行计划经济同运用价值规律、发展商品经济，不是互相排斥的，而是统一的。”“决定”强调（ ）

- A. 坚持适应国情的计划手段
- B. 统一性与灵活性有机结合
- C. 处理好计划与市场的关系
- D. 自觉依据和运用价值规律

10. 汉谟拉比法典正文包括 282 条法律，对刑事、民事、贸易、婚姻、继承、审判等制度都作了详细规定。法典的显著特点是它几乎没有留下解释的余地，概述了对各种违法行为的精确处罚。这一特点表明《法典》致力于（ ）

- A. 确保司法适用的公平性和一致性
- B. 维护奴隶主对奴隶和平民的专政
- C. 突出体现法律制定者的主观意志
- D. 集中权力以维护庞大帝国的统一

11. 如图为 15 世纪末至 17 世纪上半叶殖民扩张图。图中“①”所指区域的宗主国是（ ）



- A. 英国
- B. 西班牙
- C. 法国
- D. 葡萄牙

12. 英国著名剧作家克里斯托弗·马洛（1564-1593）在其代表作《浮士德博士的悲剧》中塑造了主人公的形象：自认为自己的知识已超越人类极限的浮士德，为渴望得到无限的权力和享乐，不惜出卖灵魂与魔鬼签约，最终被魔鬼拖入地狱，留下无尽的恐惧和悔恨。作品表达了作者（ ）

- A. 对世俗主义的反思
- B. 对理性社会的憧憬
- C. 对现实政治的不满
- D. 对思想压制的批判

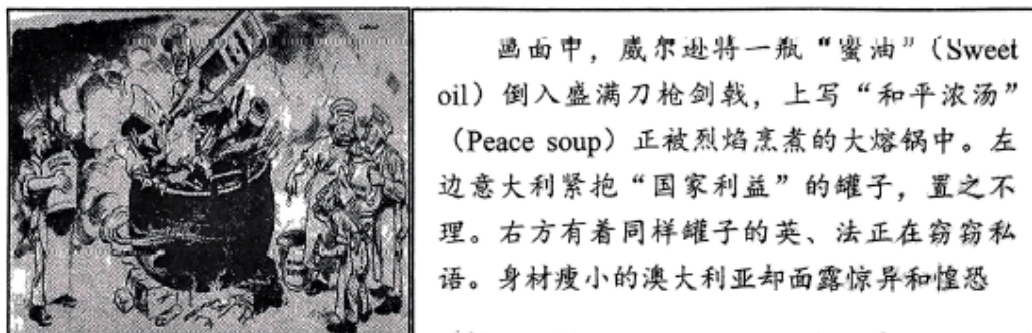
13. 如表为英国棉布出口量占总出口量的百分比变化。这一现象折射出（ ）

年代	向欧美输出	向欠发达世界输出	向其他国家输出
1830	60.4	31.8	7.8
1840	29.5	66.7	3.8
1860	19.0	73.3	7.7

1880	98. .	82.0	8.2
1900	7.1	86.3	6.6

- A. 海外市场对英国经济至关重要
- B. 垂直性国际经济分工不断深化
- C. 统一世界市场向全球各地拓展
- D. 欧美国家之间的经济竞争加剧

14. 如图为新西兰漫画家大卫·洛 1919 年 1 月 23 日创作的漫画《大熔锅》。据图可知，作者意在（ ）



- A. 指责美国的设想损害他国利益
- B. 抨击美国蓄意激化世界局势
- C. 揭示威尔逊和平计划难以实现
- D. 揭露帝国主义列强勾心斗角

15. 1956 年 8 月，美国通过向国外派遣体育、艺术等各界知名人士的《国际文化交流与贸易参展法》，永久性开展对外体育文化交流。1956-1964 年，共实施 62 次体育代表团访问项目，访问了 100 多个亚、非、拉国家和地区。这反映了美国（ ）

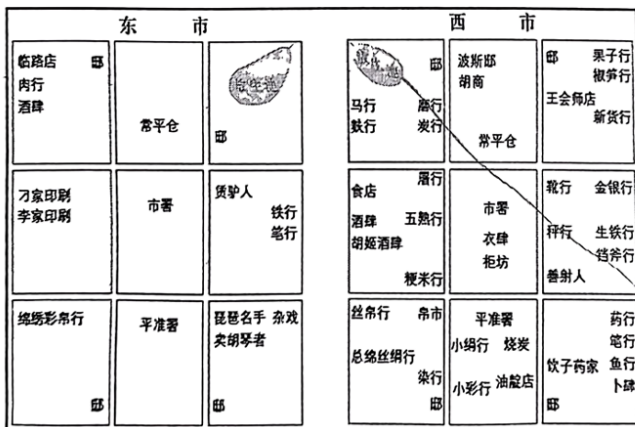
- A. 正视第三世界兴起的现实
- B. 对外战略发生根本性转变
- C. 以文化渗透替代武装颠覆
- D. 将遏制战略向亚非拉延伸

**二、非选择题：本题共 4 小题，共 55 分。**


16. 历史研究的生命力在于证据。阅读材料，回答问题。

序号	材料
①	吐鲁番文书《唐天宝十载（751 年）交河郡客使文卷》载，来自宁远国（在今中亚费尔干纳盆地）的使者，包括 3 位王子，他们至少分为 8 个班次前来都城长安
②	《唐会要·杂录》记载，武则天敕：“蕃国使入朝，其粮料各分等第给，南天竺、北天竺、波斯、大食等国使，宜给六个月粮；尸利佛誓、真腊、诃陵等国使，给五个月粮；林邑国使，给三个月粮”
③	《旧唐书·儒学传上》记载，（贞观年间）四方学者云集京师，乃至高丽、百济、新罗、高昌、吐蕃诸酋长，亦遣子弟请入国学

④	唐刘恂《岭表录异》记载，广州海面上停泊来自狮子国（今斯里兰卡）、波斯（今伊朗）、昆仑（今中印半岛南部及南洋诸岛一带）等地的“南海舶”，不知其数。运来域外象牙、香料、铜铤等各种宝物，换取中国丝绸、绢绵、瓷器等大宗商品
⑤	扬州唐城遗址多次发现波斯釉陶碎片；陕西扶风法门寺唐代地宫出土 18 件伊斯兰玻璃器
⑥	唐代《杨良瑶碑》（1984 年陕西泾阳出土）碑文记载，宦官杨良瑶 785 年奉命出使，从广州出发，经三年有余，到达黑衣大食，完成使命后返回唐朝
⑦	1998 年在印尼海域打捞的“黑石号”沉船上装载 6 万多件产自长沙窑、越窑、邢窑和巩县窑，带有阿拉伯风格图案和装饰的唐朝瓷器。该船结构为阿拉伯的缝合商船
⑧	刘长卿《同崔载华赠日本聘使》“怜君异域朝周远，积水连天何处通。遥指来从初日外，始知更有扶桑东。”王维《和贾舍人早朝大明宫之作》“九天阊阖开宫殿，万国衣冠拜冕旒”



⑨唐朝长安城东市、西市示意图



⑩《大秦景教流行中国碑》

(781 年长安大秦寺立。景教，基督教支派)

——据中国历史研究院《中华文明史简明读本》、薛正昌《唐代海上丝绸之路与广州港口》等

- (1) 将上述材料按类型进行分类，并写出每类的序号。
- (2) 提取材料信息，说明唐代中外交往的基本状况。

17. 阅读材料，回答问题。

青年团体“改造中国”的探索



五四前后，以青年学生和青年知识分子为主体的 400 多个小团体，遍布全国各地，成为宣传“五四”新文化运动的中坚。青年团体在具体的社会改造理念与方法上有所不同，大体可分为五类（下表所示）。

类别	社会改造理念与方法	代表团体
第一类	具有“不满于现状、要创造一个新局面”的意识，对新文化运动“多空谈少实行”具有一定的批评意识，强调新村主义、工读互助对于“人”的生活的革新，希望通过“工、读”相结合的方式创造一个没有剥削、没有压迫的自由平等的新社会	少年中国学会、互助社与利群书社、觉悟社、工读互助团、工学社会
第二类	以“增进平民智识，唤起平民之自觉”为宗旨，以“教育”作为“社会进化的工具”，通过“平民主义的教育”塑造新的、在自我与社会两个方面充分获得发展的“平民真正民治的基础”	北京大学平民教育讲演团、平民教育社、新民学会
第三类	专门研究马克思学说、国内外重大问题、国际共产主义运动、各派社会主义	北京大学的马克思主义研究会
第四类	以合作主义为改造中国的方法，提倡平民教育，发展平民经济	平民周刊社
第五类	延续民初以来刘师复等空幻的、不切实际的无政府主义传统	北京的实社、奋斗社、广东的民钟社

——李培艳《“新青年”的觉醒与结社——对五四运动小团体的整体考察》

知识分子的抉择

学生易趋向革命，但浪漫而摇动，中国不会是我们几个学生所能救治的，我们必须农工平民大家都站起来。群众的集合才是改造旧社会惟一的武器，群众集合起来的力量，是全世界没有可以对敌的。我们应研究唯物史观的道理，唤起被经济生活压迫得最利害的群众，并唤起最能对他们表同情的人，使他们联合起来，向掠夺阶级战斗。

——<恽代英《为少年中国学会同人进一解》（1922年6月）

(1) 五四前后青年团体“改造中国”的探索反映了一个怎样的时代？

(2) 被周恩来称为“中国革命青年的楷模”的恽代英为代表的一批最有觉悟又富有开拓精神的知识分子，在五四之后作出了共同的抉择。说明这一抉择的时代意义。

18. 阅读材料，回答问题。

### 海关的基本原则

1950年，政务院颁布中华人民共和国设立海关的基本原则：必须一反过去反动统治为服从帝国主义大量倾销外货并廉价吸取原料的经济侵略措施，滥行开放对外贸易，到处设立海关机构的方针而严格以独立自主精神，根据国家经济情况的需要，在应开放对外贸易的地方设立海关机构。

——《政务院关于海关设立原则和调整全国海关的指示》

1950年12月4日中国直属海关分布（数据来源：海关总署《隶属海关名单》，不含港澳台地区）



(1) 说明建国初确立海关基本原则的现实意义。

(2) 对1950年和2013年中国直属海关布局的变化作出合理解释。

19. “西进运动”是18世纪末至19世纪末改变美国国家命运的重大事件。阅读材料，回答问题。

“西进运动”大事记

1783 年	英美签署《巴黎条约》，把密西西比河以东印第安人的大片土地划归美国
1787 年	国会通过《西北条例》，强调西部“将永远是美利坚合众国联邦的一个部分”通过《西北土地法令》，规定西部地区居民达到 60000 人时，可组建新州并加入联邦，并要求西北地区每个镇要预留土地用于支持与发展教育
1792-1830 年	西部公路总里程达 6400 公里
1803 年	从法国手中获得面积达 214.7 万平方公里的路易斯安娜
1815-1840 年	建造运河 3000 英里，成为世界上内河运输最发达的国家
1820-1860 年	美国迎来第一次移民高潮，这期间移民总数高达 500 万。移民主要来自西欧、北欧、被贩卖到美国的非洲黑奴和少数来美国淘金的中国人
1830 年	杰克逊总统签署《印第安人迁移法》，动用军队强制东部印第安人迁移至密西西比河以西地区，成千上万的人因为天气、饥饿、劳累或疾病死亡，剩余人口被赶进狭小贫瘠的“保留地”
1833-1837 年	收割机、钢犁等新式农业机器频出。中西部地区发展成为享誉全球的“小麦王国”“棉花王国”“畜牧王国”
1846-1848 年	从英国手中获得俄勒冈。发动对墨西哥的战争，夺取德克萨斯、新墨西哥、加利福尼亚，一跃成为地跨两洋的大国，墨西哥丧失近 55% 的领土
1862 年	颁布《宅地法》，规定年满 21

	<p>岁的公民在宣誓获得土地是为了垦殖目的并缴纳10美元费用后，均可登记领取总数不超过160英亩的土地，耕种5年后归个人所有。国会通过《莫里尔法》，以赠地形式支持各州发展农业、技工、军事、采矿等实用技艺方面的高等教育项目。此后一批农工学院纷纷建立</p>
1869-1893年	<p>先后建成五条横贯北美大陆的铁路干线</p>
1878年	<p>国会通过《木材石料法》，准许任何公民和已提出申请加入美国国籍的侨民，低价格购买160英亩不宜种植而其价值主要在于木材和石料的地段</p>

——据李化敏《管窥西进运动之于美国现代化的影响》等

谈谈你对“‘西进运动’改变美国国运”的认识。

# 2021 级高三校际联合考试

## 历史试题

2024.05

### 注意事项：

1. 答卷前，考生务必将自己的姓名、考生号等填在答题卡和试卷指定位置。
2. 回答选择题时，选出每小题答案后，用铅笔把答题卡上对应题目的答案标号涂黑。如需改动，用橡皮擦干净后，再选涂其他答案标号。回答非选择题时，将答案写在答题卡上。写在本试卷上无效。
3. 考试结束后，将本试卷和答题卡一并交回。

一、选择题：本题共 15 小题，每小题 3 分，共 45 分。每小题给出的四个选项中，只有一项是最符合题目要求的。

1. 聘礼是王、诸侯国之间结好关系之礼。西周时期，聘礼主要是天子聘诸侯，诸侯觐见天子，诸侯间的互聘并不显著；春秋时期，天子与诸侯间的聘礼十分稀疏，诸侯间的聘礼日益频繁；至战国，聘礼已不再经常举行，七国间由辩士任使臣的遣使交通却非常频繁。这表明（ ）

- A. 时局变化推动礼仪革新
- B. 外交更加注重现实利益
- C. 实力决定列国关系走向
- D. 诸侯国结盟与背盟频发

【答案】B

【解析】

【详解】本题是单类型单项选择题。根据题干设问词，可知是本质题。根据材料关键信息可知准确时空是：春秋战国时期的中国。根据材料“西周时期，聘礼主要是天子聘诸侯，诸侯觐见天子，诸侯间的互聘并不显著”“春秋时期，天子与诸侯间的聘礼十分稀疏，诸侯间的聘礼日益频繁；至战国，聘礼已不再经常举行，七国间由辩士任使臣的遣使交通却非常频繁”和所学可知，春秋战国时期，礼崩乐坏，王室衰微，诸侯并起，原来适用于天子聘诸侯的聘礼，逐渐适用于诸侯之间，后被辩士任使臣的遣使交通取代，说明的是外交更加注重现实利益，B 项正确；材料未涉及礼仪革新的说法，强调的诸侯国之间的利益，排除 A 项；材料未涉及实力对列国间关系走向的影响，排除 C 项；材料同诸侯国结盟与背盟频发的说法无关，排除 D 项。故选 B 项。

2. 《汉书》首创并特别重视《地理志》。首次以“地理”命名，专章论述全国疆域、政区、户籍，兼及自然、人文等事。这反映了（ ）

- A. 国家疆土意识强化
- B. 服务现实色彩浓厚
- C. 史学功能得以拓展
- D. 治理体系成熟完备

【答案】D

【解析】

【详解】本题是单类型单项选择题。根据题干设问词，可知是本质题。根据材料关键信息可知准确时空是：汉朝时期的中国。根据材料“《汉书》首创并特别重视《地理志》。首次以‘地理’命名，专章论述全国疆域、政区、户籍，兼及自然、人文等事”和所学可知，《汉书·地理志》记述了汉代的一些经济、人文地理情况，对全国作了区域划分和分区概述，还载有南海各国的简况和通航的路线。它是中国最早以疆域政区为主体的地理著作，开创了疆域地理志和沿革地理的体例，说明当时治理体系成熟完备，其创作背景是在全国大一统形式下完成的，说明的是当时国家治理体系的成熟，D项正确；材料强调的是国家治理层次，非疆土意识，排除A项；《汉书·地理志》是中国最早以疆域政区为主体的地理著作，开创了疆域地理志和沿革地理的体例，与服务现实的说法无关，排除B项；材料未涉及史学功能的拓展，排除C项。故选D项。

3. 唐显庆四年（659年），唐高宗颁布《显庆姓氏录》，规定只要做官进了五品，就可以列入其中。这是由政府公布的士族等第的权威名录，被列入名录的有245姓、287家，较之唐太宗时减少48姓、1364家。此举旨在（ ）

- A. 巩固统治基础      B. 强化中央权威      C. 推进科举改革      D. 平衡派别利益

【答案】A

【解析】

【详解】本题是单类型单项选择题。据本题主题干的设问词，可知这是目的题。据本题时间信息可知准确时空是：唐朝（中国）。根据材料“规定只要做官进了五品，就可以列入其中。这是由政府公布的士族等第的权威名录，被列入名录的有245姓、287家，较之唐太宗时减少48姓、1364家”可知，世家大族数量减少，打击了旧士族贵族，根据所学可知，唐朝时期科举制推广，庶族地主兴起，只要做官到五品就可以列入姓氏录，这有利于争取庶族地主，扩大统治基础，A项正确；姓氏录之前也是由政府颁布，且强化中央权威是对材料的片面解读，排除B项；推进科举改革不是主要目的，排除C项；平衡派别利益不符合材料主旨，排除D项。故选A项。

4. 明洪武年间，建历代帝王庙，一并祭祀历代帝王。洪武二十一年，确定历代开国之君自伏羲氏、神农氏、黄帝至元世祖共16帝入祀。如表为此后变化情况（ ）

时间段	入祀人数	入祀标准	增加祭祀	停止祭祀
-----	------	------	------	------

以上内容仅为本文档的试下载部分，为可阅读页数的一半内容。如要下载或阅读全文，请访问：<https://d.book118.com/946035151022010142>