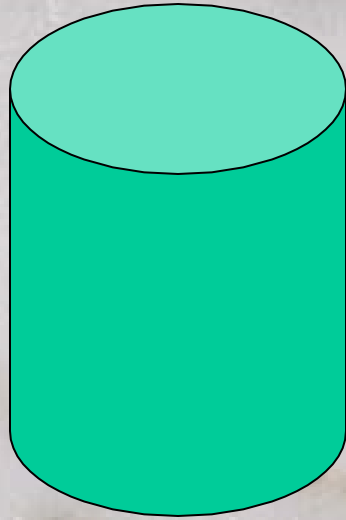


# 圆锥的体积

课件制作：温红英  
2010年3月20日

这是什么体  
？




（圆柱体）




# 圆柱体的体积公式：

圆柱体的体积=底面积×高

$$V = S \times h$$




计算下面圆柱体的体积： 单位(厘米)



8

2



$$\begin{aligned} & 3.14 \times (4 \div 2) \times 8 \\ &= 12.56 \times 8 \\ &= 100.48 (\text{立方厘米}) \end{aligned}$$



7

$$\begin{aligned} & 3.14 \times 3 \times 7 \\ &= 3.14 \times 63 \\ &= 197.82 (\text{立方厘米}) \end{aligned}$$

# 常见的物体















以上内容仅为本文档的试下载部分，为可阅读页数的一半内容。如要下载或阅读全文，请访问：<https://d.book118.com/946153121140010121>