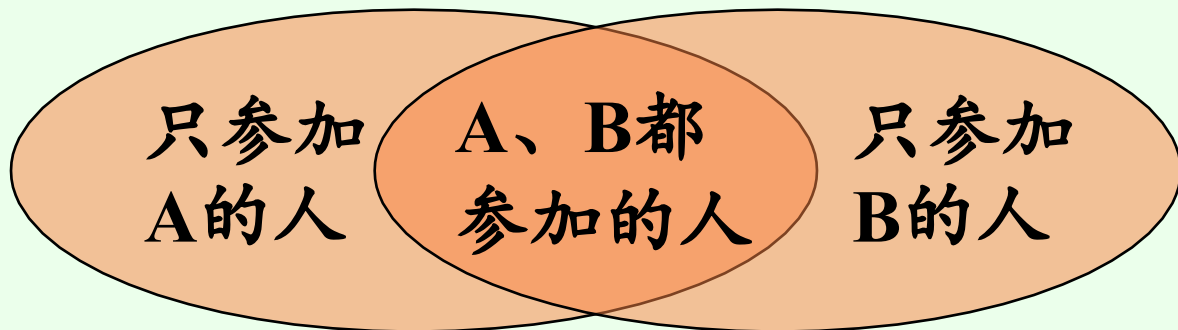


9 练习课





一、复习导入



解题方法：

只参加A的人数+只参加B的人数+A、B都参加的人数=总人数


参加A的人数+参加B的人数-A、B都参加的人数=总人数




二、拓展练习

1. 【课本P106页练习二十三第1题】


昨天进的水果品种



今天进的水果品种



(1) 商店两天一共进了多少种水果？

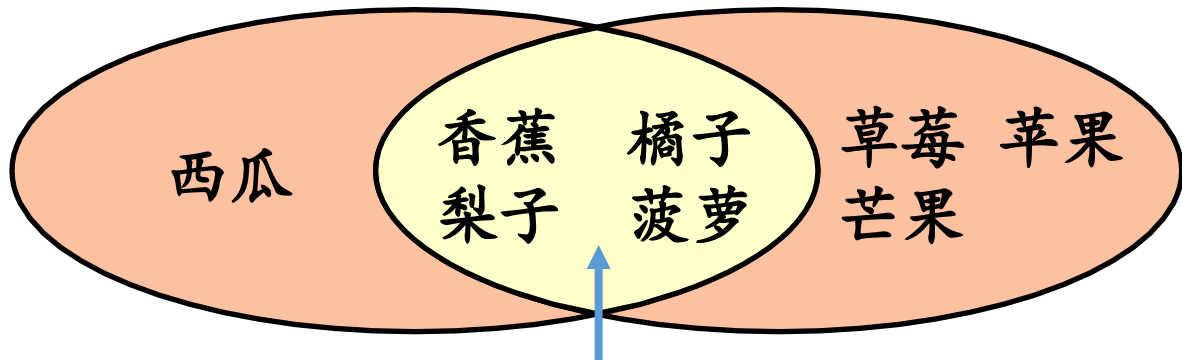




昨天进的水果品种



今天进的水果品种



两天都进的水果品种

(1) 商店两天一共进了多少种水果?


$1+4+3=8$ (种) 答: 商店两天一共进了8种水果。




二、拓展练习

1. 【课本P106页练习二十三第1题】

昨天进的水果品种




今天进的水果品种



(2) 你还能提出其他数学问题并解答吗？

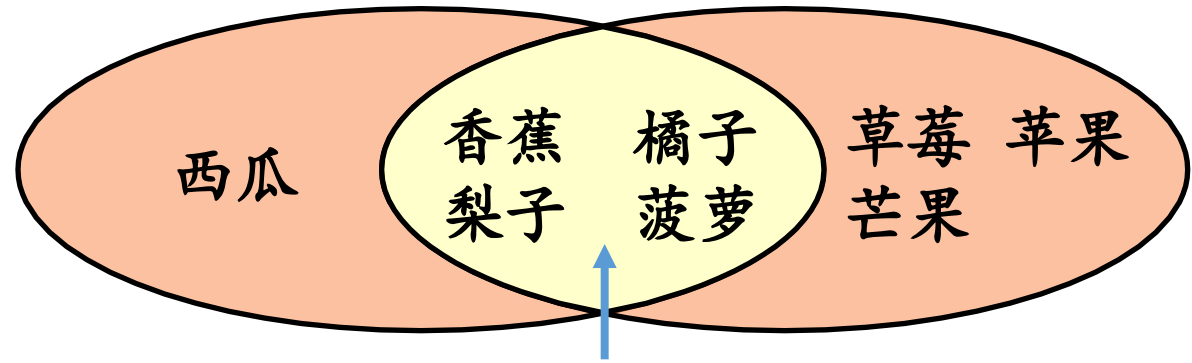
例：今天进的水果品种比昨天多多少？





昨天进的水果品种

今天进的水果品种



两天都进的水果品种

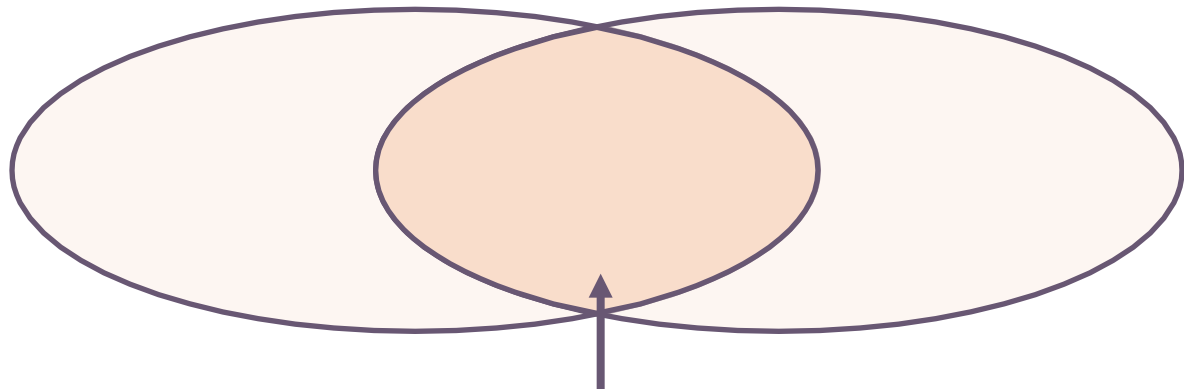
例：今天进的水果品种比昨天多多少？

7-5=2（种）答：今天进的水果品种比昨天多2种。




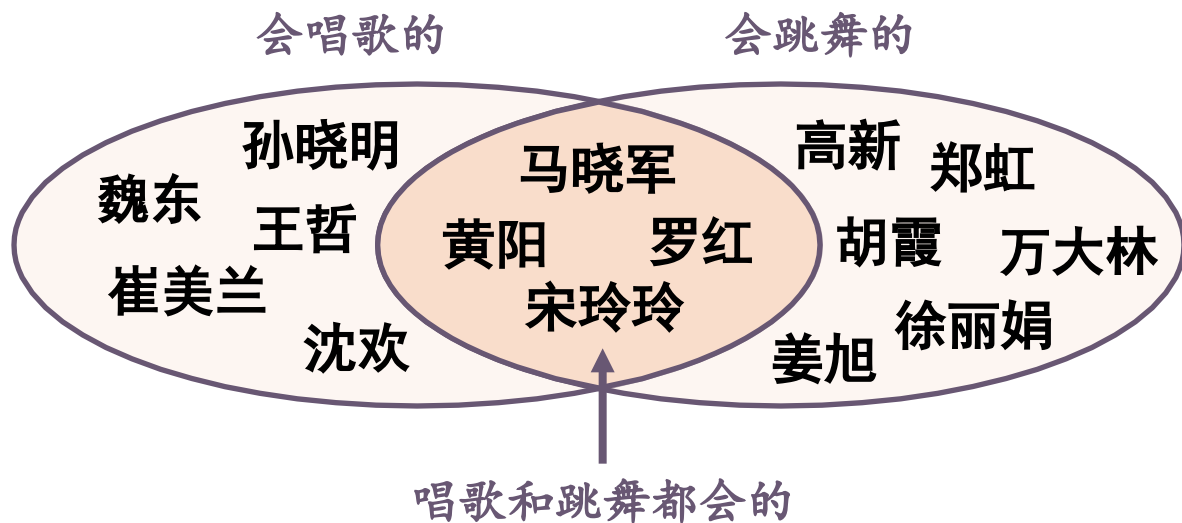
二、拓展练习

2. 学校歌舞小组中会唱歌的有魏东、马晓军、孙晓明、黄阳、崔美兰、王哲、罗红、宋玲玲、沈欢，会跳舞的有高新、郑虹、马晓军、胡霞、黄阳、万大林、宋玲玲、姜旭、罗红、徐丽娟。



唱歌和跳舞都会的





- (1) 既会唱歌又会跳舞的有 (4) 人。
- (2) 学校歌舞小组一共有 (15) 人。



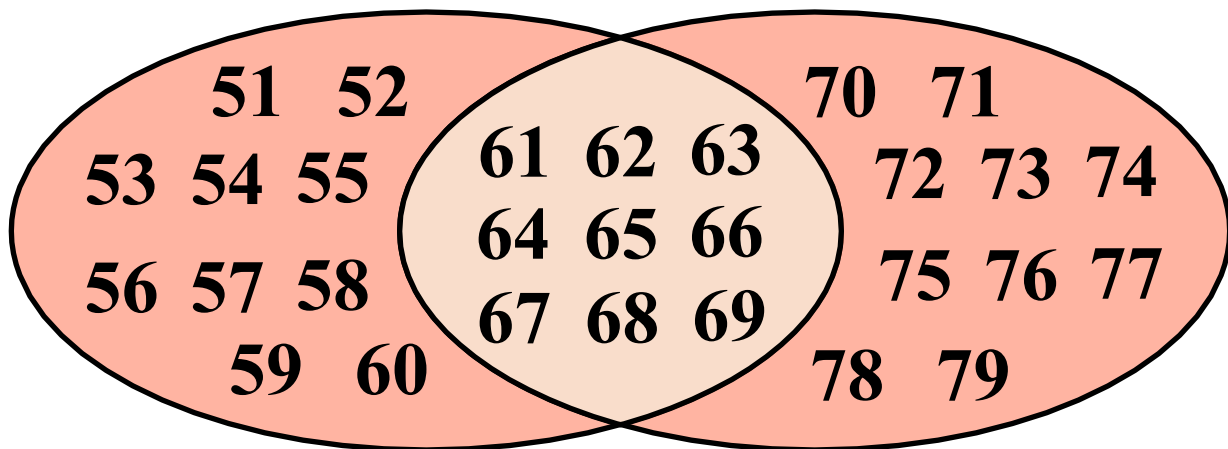
二、拓展练习

3. 在下面的圈中填上合适的数。【课本P106页练习二十三第2题】

(1) 两个圈中都出现的数有多少个？请你用画图的方法表示出来。

大于50小于70

大于60小于80



大于50小于70

大于60小于80

(2) 你还能提出其他数学问题并解答吗?

大于50小于80的数有多少个?

$$10+10+9=29 \text{ (个)}$$

答: 大于50小于80的数有29个。

以上内容仅为本文档的试下载部分，为可阅读页数的一半内容。如要下载或阅读全文，请访问：<https://d.book118.com/948062050123007004>