

凉山州 2024 年初中学业水平暨高中阶段学校招生考试试题

道德与法治、历史

注意事项：

1. 答题前，考生务必将自己的姓名、座位号、准考证号用 0.5 毫米的黑色墨迹签字笔填写在答题卡上，并在答题卡背面上方填涂座位号，同时检查条形码粘贴是否正确。

2. 选择题使用 2B 铅笔涂在答题卡对应题目标号的位置上；非选择题用 0.5 毫米黑色墨迹签字笔书写在答题卡对应题目标号的答题区域内，超出答题区域书写的答案无效；在草稿纸、试题卷上答题无效。

3. 考试结束后，由监考教师将试题卷、答题卡、草稿纸一并收回。

本试题为道德与法治(50分)、历史(50分)合卷。全卷共 6 页，满分 100 分，考试时间 90 分钟。

第 I 卷 选择题 (共 48 分)

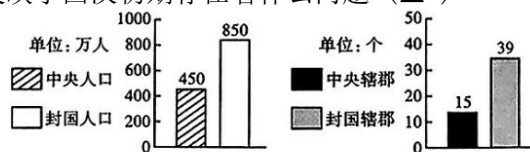
一、选择题 (在每个小题所列的四个选项中，只有一个选项符合题目要求，多选不得分，每小题 2 分，共 48 分)

1. 历史学家在研究中国古代某一时期的历史时，查阅了大量龟甲和兽骨上的文字拓影。他最有可能研究的是 (▲)

- A. 商朝历史 B. 秦朝历史 C. 唐朝历史 D. 宋朝历史

2. 观察分析右图，此柱状对比图反映了西汉初期存在着什么问题 (▲)

- A. 经济问题
B. 王国问题
C. 税收问题
D. 边疆问题



3. 有人曾评价：“唐玄宗前期会做皇帝，后期不会做皇帝。”此人评价“唐玄宗前期会做皇帝”的主要立足点是 (▲)

- A. 在他统治前期出现了“文景之治” B. 在他统治前期出现了“贞观之治”
C. 在他统治前期出现了“开元盛世” D. 在他统治前期出现了“安史之乱”

4. 右图表中的史料可以共同佐证 (▲)

- A. 经济重心南移 B. 繁华的都市生活 C. 农业的发展 D. 手工业的兴盛
- ①宋朝谚语“苏湖熟，天下足” ②南宋时，江南地区已成为我国制瓷中心
③南宋时，中央财政收入主要来自南方

5. 线索图示有利于学生掌握历史事件发展过程。观察下面的线索图，能从图中提取到的有效信息有 (▲)



①中央红军出发时间 ②遵义会议是转折点 ③长征中的重大事件 ④红军三大主力会师的时间

- A. ②③④ B. ①②④ C. ①③④ D. ①②③

6. 史实是对历史事实不带有个人感情色彩的客观陈述；史论则是对历史事件和历史人物的评论。下列有关抗日战争的叙述属于“史论”的是 (▲)

- A. 中国共产党派杨靖宇等人在东北组织游击队开展抗日游击战争
 B. 中国工农红军主力根据协议改编为国民革命军八路军
 C. 八路军一一五师于平型关设伏，歼灭日军 1000 多人
 D. 百团大战的胜利振奋了全国军民争取抗战胜利的信心
7. 某文献出现了“废除地主阶级封建剥削的土地所有制，实行农民的土地所有制，借以解放农村生产力，发展农业生产，为新中国的工业化开辟道路”的论述。该论述出自于哪一文献（▲）
 A. 《中国人民政治协商会议共同纲领》 B. 《中华人民共和国土地改革法》
 C. 《中华人民共和国宪法》 D. 《中国土地法大纲》
8. 邓小平同志在一次讲话中说道：“香港问题为什么能够谈成呢？并不是我们参加谈判的人有特殊本领，主要是我们这个国家这几年发展起来了，是个兴旺发达、有力量、而且是个值得信任的国家……”根据材料，你认为香港能回归祖国的最主要原因是（▲）
 A. “一国两制”方针的提出 B. 中国综合国力的增强
 C. 中英双方进行了多轮谈判 D. 中华民族的共同愿望
9. 通过对比今天的地理位置来识别大帝国版图示意图，能够加强学生的时空观念。版图西起希腊、东到印度河流域、北抵中亚、南达埃及，地跨欧、亚、非三洲的帝国是（▲）
 A. 亚历山大帝国 B. 罗马帝国 C. 阿拉伯帝国 D. 拜占庭帝国
10. 15 世纪，向西航行寻找到达亚洲航线的梦想激励着欧洲人向大洋深处探险。支持他们向西航行到达东方这一信念的重要因素是（▲）
 A. 西班牙王室大力支持 B. 郑和远航是向西航行
 C. 地圆学说的流行 D. 他的船队配备了指南针
11. 现代生活离不开塑料制品，它给人们生活带来方便，但是也造成了环境污染。现代塑料工业的诞生与哪位人物有关（▲）
 A. 海厄特 B. 诺贝尔 C. 爱迪生 D. 戴姆勒
12. 二战时期某军事行动地图上标有“英吉利海峡”“诺曼底”等文字。此军事行动（▲）
 A. 粉碎了德军不可战胜的神话 B. 是第二次世界大战的转折点
 C. 使第二次世界大战达到最大规模 D. 开辟了欧洲第二战场
13. 2023 年 12 月 22 日，第 78 届联合国大会协商一致通过决议，将中华文化中一个最古老最重要的传统节日确定为联合国假日。该节日有贴春联、挂年画、守岁、拜年、走亲戚等习俗。这个节日是（▲）
 A. 端午节 B. 元宵节 C. 中秋节 D. 春节
14. 2024 年 2 月 24 日，中国载人月球探测任务新飞行器名称确定，新一代载人飞船命名为“_____”，月面着陆器命名为“_____”。新飞行器的名称具有鲜明的中国特色、时代特色和文化特色。（▲）
 A. 天舟、嫦娥 B. 梦舟、揽月 C. 天问、玉兔 D. 神舟、鹊桥
15. 艾滋病严重危害人们的健康，下列可能会传播艾滋病的途径是（▲）
 A. 咳嗽、打喷嚏、流泪、出汗 B. 性传播、血液传播、母婴传播
 C. 与艾滋病携带者或病人共餐 D. 蚊子、苍蝇叮咬
16. 国家主席习近平发表的二〇二四年新年贺词提到：“辛勤劳作的农民，埋头苦干的工人，敢闯敢拼的创业者，保家卫国的子弟兵，各行各业的人们都在挥洒汗水，每一个平凡的人都作出了不平凡的贡献！”这告诉我们（▲）

- A. 伟大的生命才有意义和价值
B. 伟大在于做出惊天动地的大事
C. 生命可以从平凡中闪耀伟大
D. 平凡还是伟大取决于地位高低
7. “不必羡慕他人，自己也是一道风景。”每个人都有自己的特点，这启示我们 (▲)
A. 要学会接纳与欣赏自己
B. 理想是成功的关键
C. 要重视他人评价
D. 自强可以让我们更自信
8. “惊艳你的是美丽的风景，吸引别人的是哨所定位；感动你的是辛勤的师长，吸引别人的是成果数据……你随手拍下的一张照片，却可能无意间泄露了国家秘密。”保密公益宣传片中的这段话表明 (▲)
①维护国家安全是我们的共同责任
②维护国家安全是公民的基本政治权利
③要不断增强国家安全的防范意识
④只要不随意拍照片就能保证国家安全
A. ①②
B. ①③
C. ②④
D. ③④
9. 《未成年人网络保护条例》于 2024 年 1 月 1 日起正式施行，这是我国第一部专门性的未成年人网络保护条例。该条例的施行 (▲)
①体现了党和国家对未成年人成长的高度重视
②为未成年人的健康成长提供家庭保护
③有利于营造未成年人身心健康成长的网络环境
④能杜绝未成年人在网络空间受到不法分子的侵害
A. ①②
B. ①③
C. ②④
D. ③④
10. 依照宪法规定，我国公民享有广泛的政治权利和自由，下列哪项权利是公民的基本政治权利，行使这项权利是公民参与管理国家和管理社会的基础。(▲)
A. 人身自由
B. 受教育权
C. 遵守宪法和法律
D. 选举权和被选举权
1. 在四川大凉山腹地，成昆铁路 5633/5634 次公益性“慢火车”沿线经过 38 个乡镇，逢站必停，辐射周边 97 个乡镇，最低票价 2 元，数十年不变。“慢火车”的开行便利了村民的出行，也增加了他们的经济收入，为沿线乡村振兴注入持久动力。“慢火车”的开行体现了 (▲)
①人民幸福生活是最大的人权
②全过程人民民主是社会主义民主政治的本质属性
③党和政府努力实现人民同步富裕
④党和政府坚持以人民为中心的发展思想
A. ①④
B. ①②
C. ②③
D. ③④
2. 2023 年 9 月 23 日晚，第 19 届亚运会开幕式在杭州市隆重举行，全球首创零碳甲醇点燃亚运主火炬，用数字烟花代替实体烟花燃放，亚运会历史上首次实现全部场馆绿电供应……杭州亚运会、亚残运会在亚运史上首次实现碳中和。这表明我国 (▲)
①资源相对短缺，环境形势依然严峻
②科技创新实力增强，助力绿色发展
③文艺传播为科技进步提供有力支撑
④践行了绿色低碳与可持续发展理念
A. ①②
B. ①③
C. ②④
D. ③④
23. 2023 年 10 月 18 日，习近平总书记在人民大会堂出席第三届“一带一路”国际合作高峰论坛开幕式并发表题为《建设开放包容、互联互通、共同发展的世界》的主旨演讲。习近平总书记指出，共建“一带一路”源自中国，成果和机遇属于世界，今年是提出共建“一带一路”倡议十周年，中国承诺将高质量推进“一带一路”建设。材料表明 (▲)
①中国担当向世界展现大国风范，显示中国智慧
②抓住机遇就能规避全球性风险与危机
③中国重视与世界各国的交流与合作
④中国在世界经济发展中起决定性作用
A. ①③
B. ①④
C. ②③
D. ②④

24. 近年来, 球鞋鉴定师、整理收纳师、短视频编剧师、旅游推荐师、陪诊师等新的职业, 正不断地创造价值、改变生活。这启示我们 (▲)

- A. 不甘平凡, 另辟蹊径追逐名利
B. 扬长避短, 做完美的自己
C. 编织人生梦想, 从事体面工作
D. 考虑爱好特长, 进行职业选择

第 II 卷 非选择题 (共 52 分)

二、非选择题 (共 52 分)

历史部分 (共 26 分)

25. 阅读下列材料。(6 分)



汉朝和西域的使者开始相互往来, 东西方的经济文化交流日益频繁。……通过这条道路, 汉朝的丝绸、漆器等物品, 以及开渠、凿井、铸铁等技术传入西域; 西域的核桃、葡萄、石榴、苜蓿、良种马、香料、玻璃、宝石等, 以及多种乐器和歌舞传入中原。

——《中国历史》七年级上册

(1) 请写出材料一汉代丝绸之路示意图中 A 处的名称。(1 分) 根据材料一并结合所学知识, 谈一谈你对汉代丝绸之路的认识。(2 分)

材料二 自永乐 (明成祖的年号) 初, 奉使诸番, 今经七次, 每统领官兵数万人, 海船百余艘, 自太仓开洋, 由占城国、暹罗国、爪哇国、柯枝国、古里国、抵西域忽鲁谟斯等三十余国, 涉沧溟十万余里……”

——摘自《通番事迹记》

(2) 材料二中“奉使诸番”的历史人物是谁?(1 分) 材料二反映了该历史事件有何特点?(2 分)

26. 阅读下列材料。(7 分)

中国近现代民族工业产生和曲折发展线索表

阶段	阶段一	阶段二	阶段三	阶段四	阶段五
阶段特点	产生	初步发展	“▲”	衰落与困境	新生与改造
时间	19 世纪六七十年代	19 世纪末 20 世纪初	第一次世界大战期间	1927 年—1949 年	1949 年—1956 年
代表企业	江南机器制造总局	大生纱厂	福新面粉公司		
代表人物	李鸿章		荣氏兄弟		

——摘编自《中国历史》八年级上下册

(1) 根据表中各阶段的内容判断, 阶段一是在 ▲ 运动时期; (1 分) 阶段二的代表人物是 ▲; (1 分) 阶段三在历史上被称为中国民族工业发展的“▲”。(1 分)

(2) 结合所学, 根据阶段二、三的代表企业分析近代中国民族工业的部门分布有什么特点?(2 分) 结合阶段五的特点和时间分析, 到这一阶段结束中国资本主义工(商)业的所有制形式最终实现什么转变?(2 分)

27. 阅读下列材料。(6分)

某九年级同学在历史复习中整理了部分知识(如下表):

历史事件名称	①_	美国内战
主要人物	华盛顿	林肯
发生的根本原因	英国的殖民统治阻碍了北美资本主义的发展	南方奴隶制种植园经济和北方资本主义工商业两种经济类型之间的矛盾
颁布的重要文件	《独立宣言》	《宅地法》_②_
性质	既是一次民族解放战争, 也是一场资产阶级革命	美国历史上第二次资产阶级革命
共同作用	都促进了资本主义的发展	

(1) 请补充上表中①②处的名称, (2分) 并为该表提炼一个主题。(2分)

(2) 根据所学, 任选其中一个历史事件, 分析该事件为什么能促进美国资本主义发展?(2分)

28. 阅读下列材料。(7分)

材料一 欧洲联合的扩大, 从经济上看, 给它带来了内部市场的扩展和对外贸易竞争力加强的优势, 从而对促进经济发展产生积极推进作用。从政治上看, 对维持欧洲均势与和平具有重要战略意义……此外, 欧洲联合体中的那些国家, 在某些国际问题上坚持独立的外交政策, 孤立于美、苏两个超级大国之外, 也不再为美国马首是瞻。

——摘编自吴于廑、齐世荣《世界史·现代史编(下卷)》

(1) 根据材料一概括“欧洲联合的扩大”产生了哪些影响?(2分)(摘抄全文不得分)

材料二 第二次世界大战后, 世界资本主义殖民体系逐渐崩溃, 越来越多的亚洲和非洲国家取得独立。它们反对冷战, 不愿卷入大国之间的军事冲突。1955年4月这些新兴的国家为讨论共同面临的巩固政权、发展经济的问题召开了这次会议。会议确定了指导国际间关系的十项原则, 包含“……尊重一切国家的主权和领土完整……不干预或干涉他国内政……”等内容。从此, 发展中国家作为一支新兴独立的政治力量登上了国际舞台。

——摘编自《世界历史》《世界历史教师教学用书》九年级下册

(2) 根据所学分析, 冷战期间大国间的军事冲突表现为哪两大军事集团的冲突?(2分)

(3) 根据材料二判断“这次会议”是哪一次国际会议?(1分) 材料二中引用的“十项原则”内容源于哪个国家提出的什么原则?(2分)

道德与法治部分 (共 26 分)

29. 十四届全国人大二次会议审议了政府工作报告, 政府工作报告中提出的一系列“新”引人注目, 新质生产力, 新型能源建设, 数字经济创新发展, 新型基础设施……这些“新”折射出的是中国经济发展新质生产力, 新型能源建设, 数字经济创新发展, 新型基础设施……这些“新”折射出的是中国经济发展新质生产力, 是2024年全国两会的焦点。新质生产力是一种以科技创新为主导的生产力形式, 它的核心在于实现关键性颠覆性技术突破, 代表了社会生产力演化中的一次巨大跃升。

我国坚持以经济建设为中心, 大力发展新质生产力, 有力助推建成世界科技创新强国。请回答我国怎样才能建成世界科技创新强国?(6分)

30. 阅读表格中的内容，根据所学知识，回答下列问题。(6分)

序号	内容	问题
①	在我国有一项独具中国特色的实现民族平等、保障少数民族合法权益的基本政治制度。	这一项基本政治制度是： _①_。(2分)
②	2024年2月27日，十四届全国人大常委会第八次会议通过新修订的《中华人民共和国保守国家秘密法》。	体现了人民代表大会的哪 项职权：_②_。(2分)
③	国家间既有合作，又有竞争。每个国家都希望通过自身努力在新一轮国际关系的调整中获得发展机遇。	当今世界，国际竞争的 实质是：_③_。(2分)

31. 材料一 2024 年是全国人民代表大会成立 70 周年。70 年前，第一届全国人大一次会议通过了《中华人民共和国宪法》，从此建立起必须完善以宪法为核心的中国特色社会主义法律体系。

材料二 2023 年 12 月 4 日是第十个国家宪法日，12 月 1 日至 7 日是第六个“宪法宣传周”，主题是“大力弘扬宪法精神，建设社会主义法治文化”。全国各地开展形式多样、丰富多彩的宪法宣讲活动，如：宪法讲座、宪法诵读、宪法进农村、社会主义法治文化专题展览等。

(1) 根据材料一回答：宪法在国家法律体系中的地位是什么?(2分)

(2) 根据材料二回答：你打算如何增强自己的宪法意识?(3分)

32. 国家主席习近平于 2024 年 5 月 5 日至 10 日对法国、塞尔维亚、匈牙利三国进行国事访问。“承前启后”“继往开来”“命运共同体”“全天候”，可以说是国家主席习近平此次欧洲三国之行的关键词。国家主席习近平的系列重要讲话向世界清楚地表明，面对国际风云变幻和错综复杂的外部环境，中国始终“不畏浮云遮望眼”，坚持团结合作、和平发展、互利共赢，坚定地站在历史正确一边、人类文明进步一边，愿同包括欧洲国家在内的世界各国一道，携手前行、共担风雨、共创未来。

国家主席习近平对欧洲三国进行国事访问的系列重要讲话，再次向世界展示中国一直在努力用实际行动倡导构建人类命运共同体理念，请回答这一理念的内容是什么?(5分)

33. 2024 年春节档电影《第二十条》引发社会公众广泛关注。影片以检察官韩明为缩影，展现了当代检察官为人民服务，忠诚履职的铁纪担当。电影中涉及到的如正当防卫、见义勇为、扶危济困等各种社会问题，与我们现实生活息息相关。“让老百姓绝望的，不只是黑恶势力。”“法律，是让坏人作恶的成本更高，而不是让好人出手的代价更大。”“法，不能向不法让步。”等成为街头巷尾老百姓津津乐道的经典台词。

根据材料，运用教材观点，请你为“法，不能向不法让步”提供依据。(观点不少于两个，每点 2 分，共 4 分)

凉山州 2024 年初中学业水平暨高中阶段学校招生考试试题

道德与法治、历史

注意事项:

1. 答题前, 考生务必将自己的姓名、座位号、准考证号用 0.5 毫米的黑色墨迹签字笔填写在答题卡上, 并在答题卡背面上方填涂座位号, 同时检查条形码粘贴是否正确。
 2. 选择题使用 2B 铅笔涂在答题卡对应题目标号的位置上; 非选择题用 0.5 毫米黑色墨迹签字笔书写在答题卡对应题目标号的答题区域内, 超出答题区域书写的答案无效; 在草稿纸、试题卷上答题无效。
 3. 考试结束后, 由监考教师将试题卷、答题卡、草稿纸一并收回。
- 本试题为道德与法治 (50 分)、历史 (50 分) 合卷。全卷共 6 页, 满分 100 分, 考试时间 90 分钟。

第 I 卷 选择题 (共 48 分)

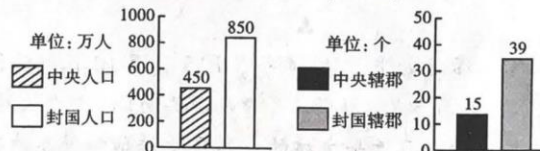
一、选择题 (在每小题所列的四个选项中, 只有一个选项符合题目要求, 多选不得分, 每小题 2 分, 共 48 分)

1. 历史学家在研究中国古代某一时期的历史时, 查阅了大量龟甲和兽骨上的文字拓影。他最有可能研究的是 (▲)

- A. 商朝历史 B. 秦朝历史 C. 唐朝历史 D. 宋朝历史

2. 观察分析右图, 此柱状对比图反映了西汉初期存在着什么问题 (▲)

- A. 经济问题
B. 王国问题
C. 税收问题
D. 边疆问题



3. 有人曾评价: “唐玄宗前期会做皇帝, 后期不会做皇帝。” 此人评价 “唐玄宗前期会做皇帝” 的主要立足点是 (▲)

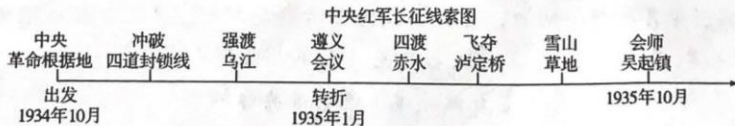
- A. 在他统治前期出现了 “文景之治” B. 在他统治前期出现了 “贞观之治”
C. 在他统治前期出现了 “开元盛世” D. 在他统治前期出现了 “安史之乱”

4. 右图表中的史料可以共同佐证 (▲)

- A. 经济重心南移 B. 繁华的都市生活
C. 农业的发展 D. 手工业的兴盛

①宋朝谚语 “苏湖熟, 天下足”
②南宋时, 江南地区已成为我国制瓷中心
③南宋时, 中央财政收入主要来自南方

5. 线索图示有利于学生掌握历史事件发展过程。观察下面的线索图, 能从图中提取到的有效信息有 (▲)



- ①中央红军出发时间 ②遵义会议是转折点 ③长征中的重大事件 ④红军三大主力会师的时间
- A. ②③④ B. ①②④ C. ①③④ D. ①②③

6. 史实是对历史事实不带有个人感情色彩的客观陈述; 史论则是对历史事件和历史人物的评论。下列有关抗日战争的叙述属于 “史论” 的是 (▲)

- ⊕
- A. 中国共产党派杨靖宇等人在东北组织游击队开展抗日游击战争
 B. 中国工农红军主力根据协议改编为国民革命军第八路军
 C. 八路军一一五师于平型关设伏，歼灭日军 1000 多人
 D. 百团大战的胜利振奋了全国军民争取抗战胜利的信心
7. 某文献出现了“废除地主阶级封建剥削的土地所有制，实行农民的土地所有制，借以解放农村生产力，发展农业生产，为新中国的工业化开辟道路”的论述。该论述出自于哪一文献（▲）
 A. 《中国人民政治协商会议共同纲领》 B. 《中华人民共和国土地改革法》
 C. 《中华人民共和国宪法》 D. 《中国土地法大纲》
8. 邓小平同志在一次讲话中说道：“香港问题为什么能够谈成呢？并不是我们参加谈判的人有特殊本领，主要是我们这个国家这几年发展起来了，是个兴旺发达、有力量、而且是个值得信任的国家……”根据材料，你认为香港能回归祖国的最主要原因是（▲）
 A. “一国两制”方针的提出 B. 中国综合国力的增强
 C. 中英双方进行了多轮谈判 D. 中华民族的共同愿望
9. 通过对比今天的地理位置来识别大帝国版图示意图，能够加强学生的时空观念。版图西起希腊、东到印度河流域、北抵中亚、南达埃及，地跨欧、亚、非三洲的帝国是（▲）
 A. 亚历山大帝国 B. 罗马帝国 C. 阿拉伯帝国 D. 拜占庭帝国
10. 15 世纪，向西航行寻找到达亚洲航线的梦想激励着欧洲人向大洋深处探险。支持他们向西航行到达东方这一信念的重要因素是（▲）
 A. 西班牙王室大力支持 B. 郑和远航是向西航行
 C. 地圆学说的流行 D. 他的船队配备了指南针
11. 现代生活离不开塑料制品，它给人们生活带来方便，但是也造成了环境污染。现代塑料工业的诞生与哪位人物有关（▲）
 A. 海厄特 B. 诺贝尔 C. 爱迪生 D. 戴姆勒
12. 二战时期某军事行动地图上标有“英吉利海峡”“诺曼底”等文字。此军事行动（▲）
 A. 粉碎了德军不可战胜的神话 B. 是第二次世界大战的转折点
 C. 使第二次世界大战达到最大规模 D. 开辟了欧洲第二战场
13. 2023 年 12 月 22 日，第 78 届联合国大会协商一致通过决议，将中华文化中一个最古老最重要的传统节日确定为联合国假日。该节日有贴春联、挂年画、守岁、拜年、走亲戚等习俗。这个节日是（▲）
 A. 端午节 B. 元宵节 C. 中秋节 D. 春节
14. 2024 年 2 月 24 日，中国载人月球探测任务新飞行器名称确定，新一代载人飞船命名为“_____”，月面着陆器命名为“_____”。新飞行器的名称具有鲜明的中国特色、时代特色和文化特色。（▲）
 A. 天舟、嫦娥 B. 梦舟、揽月 C. 天问、玉兔 D. 神舟、鹊桥
15. 艾滋病严重危害人们的健康，下列可能会传播艾滋病的途径是（▲）
 A. 咳嗽、打喷嚏、流泪、出汗 B. 性传播、血液传播、母婴传播
 C. 与艾滋病携带者或病人共餐 D. 蚊子、苍蝇叮咬
16. 国家主席习近平发表的二〇二四年新年贺词提到：“辛勤劳作的农民，埋头苦干的工人，敢闯敢拼的创业者，保家卫国的子弟兵，各行各业的人们都在挥洒汗水，每一个平凡的人都作出了不平凡的贡献！”这告诉我们（▲）

- A. 伟大的生命才有意义和价值 B. 伟大在于做出惊天动地的大事
C. 生命可以从平凡中闪耀伟大 D. 平凡还是伟大取决于地位高低
17. “不必羡慕他人，自己也是一道风景。”每个人都有自己的特点，这启示我们（▲）
A. 要学会接纳与欣赏自己 B. 理想是成功的关键
C. 要重视他人评价 D. 自强可以让我们更自信
18. “惊艳你的是美丽的风景，吸引别人的是哨所定位；感动你的是辛勤的师长，吸引别人的是成果数据……你随手拍下的一张照片，却可能无意间泄露了国家秘密。”保密公益宣传片中的这段话表明（▲）
①维护国家安全是我们的共同责任 ②维护国家安全是公民的基本政治权利
③要不断增强国家安全的防范意识 ④只要不随意拍照片就能保证国家安全
A. ①② B. ①③ C. ②④ D. ③④
19. 《未成年人网络保护条例》于2024年1月1日起正式施行，这是我国第一部专门性的未成年人网络保护条例。该条例的施行（▲）
①体现了党和国家对未成年人成长的高度重视
②为未成年人的健康成长提供家庭保护
③有利于营造未成年人身心健康成长的网络环境
④能杜绝未成年人在网络空间受到不法分子的侵害
A. ①② B. ①③ C. ②④ D. ③④
20. 依照宪法规定，我国公民享有广泛的政治权利和自由，下列哪项权利是公民的基本政治权利，行使这项权利是公民参与管理国家和管理社会的基础。（▲）
A. 人身自由 B. 受教育权
C. 遵守宪法和法律 D. 选举权和被选举权
21. 在四川大凉山腹地，成昆铁路5633/5634次公益性“慢火车”沿线经过38个乡镇，逢站必停，辐射周边97个乡镇，最低票价2元，数十年不变。“慢火车”的开行便利了村民的出行，也增加了他们的经济收入，为沿线乡村振兴注入持久动力。“慢火车”的开行体现了（▲）
①人民生活幸福是最大的人权 ②全过程人民民主是社会主义民主政治的本质属性
③党和政府努力实现人民同步富裕 ④党和政府坚持以人民为中心的发展思想
A. ①④ B. ①② C. ②③ D. ③④
22. 2023年9月23日晚，第19届亚运会开幕式在杭州市隆重举行，全球首创零碳甲醇点燃亚运主火炬，用数字烟花代替实体烟花燃放，亚运会历史上首次实现全部场馆绿电供应……杭州亚运会、亚残运会在亚运史上首次实现碳中和。这表明我国（▲）
①资源相对短缺，环境形势依然严峻 ②科技创新实力增强，助力绿色发展
③文艺传播为科技进步提供有力支撑 ④践行了绿色低碳与可持续发展理念
A. ①② B. ①③ C. ②④ D. ③④
23. 2023年10月18日，习近平主席在人民大会堂出席第三届“一带一路”国际合作高峰论坛开幕式并发表题为《建设开放包容、互联互通、共同发展的世界》的主旨演讲。习近平指出，共建“一带一路”源自中国，成果和机遇属于世界，今年是提出共建“一带一路”倡议十周年，中国承诺将高质量推进“一带一路”建设。材料表明（▲）
①中国担当向世界展现大国风范，显示中国智慧 ②抓住机遇就能规避全球性风险与危机
③中国重视与世界各国的交流与合作 ④中国在世界经济发展中起决定性作用
A. ①③ B. ①④ C. ②③ D. ②④

24. 近年来,球鞋鉴定师、整理收纳师、短视频编剧师、旅游推荐师、陪诊师等新的职业,正不断地创造价值、改变生活。这启示我们(▲)
- A. 不甘平凡,另辟蹊径追逐名利
B. 扬长避短,做完美的自己
C. 编织人生梦想,从事体面工作
D. 考虑爱好特长,进行职业选择

第Ⅱ卷 非选择题 (共 52 分)

二、非选择题 (共 52 分)

历史部分 (共 26 分)

25. 阅读下列材料。(6分)

材料一



- (1) 请写出材料一汉代丝绸之路示意图中 A 处的名称。(1分) 根据材料一并结合所学知识,谈一谈你对汉代丝绸之路的认识。(2分)



材料二 自永乐(明成祖的年号)初,奉使诸番,今经七次,每统领官兵数万人,海船百余艘,自太仓开洋,由占城国、暹罗国、爪哇国、柯枝国、古里国、抵西域忽鲁谟斯等三十余国,涉沧溟十万余里……”

- (2) 材料二中“奉使诸番”的历史人物是谁?(1分) 材料二反映了该历史事件有何特点?(2分)



26. 阅读下列材料。(7分)

中国近现代民族工业产生和曲折发展线索表

阶段	阶段一	阶段二	阶段三	阶段四	阶段五
阶段特点	产生	初步发展	“▲”	衰落与困境	新生与改造
时间	19世纪六七十年代	19世纪末20世纪初	第一次世界大战期间	1927年—1949年	1949年—1956年
代表企业	江南机器制造总局	大生纱厂	福新面粉公司		
代表人物	李鸿章	▲	荣氏兄弟		

——摘编自《中国历史》八年级上下册

- (1) 根据表中各阶段的内容判断,阶段一是在 ▲ 运动时期;(1分) 阶段二的代表人物是 ▲ ;(1分) 阶段三在历史上被称为中国民族工业发展的“▲”。(1分)
- (2) 结合所学,根据阶段二、三的代表企业分析近代中国民族工业的部门分布有什么特点?(2分) 结合阶段五的特点和时间分析,到这一阶段结束中国资本主义工(商)业的所有制形式最终实现什么转变?(2分)





27. 阅读下列材料。(6分)

某九年级同学在历史复习中整理了部分知识(如下表):

历史事件名称	①	美国内战
主要人物	华盛顿	林肯
发生的根本原因	英国的殖民统治阻碍了北美资本主义的发展	南方奴隶制种植园经济和北方资本主义工商业两种经济类型之间的矛盾
颁布的重要文件	《独立宣言》	《宅地法》 ②
性质	既是一次民族解放战争,也是一场资产阶级革命	美国历史上第二次资产阶级革命
共同作用	都促进了资本主义的发展	

(1) 请补充上表中①②处的名称,(2分)并为该表提炼一个主题。(2分)

(2) 根据所学,任选其中一个历史事件,分析该事件为什么能促进美国资本主义发展?(2分)

28. 阅读下列材料。(7分)

材料一 欧洲联合的扩大,从经济上看,给它带来了内部市场的扩展和对外贸易竞争力加强的优势,从而对促进经济发展产生积极推进作用。从政治上看,对维持欧洲均势与和平具有重要战略意义……此外,欧洲联合体中的那些国家,在某些国际问题上坚持独立的外交政策,孤立于美、苏两个超级大国之外,也不再为美国马首是瞻。

——摘编自吴于廑、齐世荣《世界史·现代史编(下卷)》

(1) 根据材料一概括“欧洲联合的扩大”产生了哪些影响?(2分)(摘抄全文不得分)

材料二 第二次世界大战后,世界资本主义殖民体系逐渐崩溃,越来越多的亚洲和非洲国家取得独立。它们反对冷战,不愿卷入大国之间的军事冲突。1955年4月这些新兴的国家为讨论共同面临的巩固政权、发展经济的问题召开了这次会议。会议确定了指导国际间关系的十项原则,包含“……尊重一切国家的主权和领土完整……不干预或干涉他国内政……”等内容。从此,发展中国家作为一支新兴独立的政治力量登上了国际舞台。

——摘编自《世界历史》《世界历史教师教学用书》九年级下册

(2) 根据所学分析,冷战期间大国间的军事冲突表现为哪两大军事集团的冲突?(2分)

(3) 根据材料二判断“这次会议”是哪一次国际会议?(1分)材料二中引用的“十项原则”内容源于哪个国家提出的什么原则?(2分)

道德与法治部分(共26分)

29. 十四届全国人大二次会议审议了政府工作报告,政府工作报告中提出的一系列“新”引人关注,新质生产力,新型能源建设,数字经济创新发展,新型基础设施……这些“新”折射出的是中国经济发展崭新趋向与强劲动能。向“新”而行,向“新”图强。发展新质生产力,是2024年全国两会的焦点。新质生产力是一种以科技创新为主导的生产力形式,它的核心在于实现关键性颠覆性技术突破,代表了社会生产力演化中的一次巨大跃升。

我国坚持以经济建设为中心,大力发展新质生产力,有力助推建成世界科技创新强国。请回答我国怎样才能建成世界科技创新强国?(6分)

30. 阅读表格中的内容, 根据所学知识, 回答下列问题。(6分)

序号	内容	问题
①	在我国有一项独具中国特色的实现民族平等、保障少数民族合法权利的基本政治制度。	这一项基本政治制度是: <u>①</u> 。(2分)
②	2024年2月27日, 十四届全国人大常委会第八次会议通过新修订的《中华人民共和国保守国家秘密法》。	体现了人民代表大会的哪一项职权: <u>②</u> 。(2分)
③	国家间既有合作, 又有竞争。每个国家都希望通过自身努力在新一轮国际关系的调整中获得发展机遇。	当今世界, 国际竞争的实质是: <u>③</u> (2分)

31. 材料一 2024年是全国人民代表大会成立70周年。70年前, 第一届全国人大一次会议通过了《中华人民共和国宪法》, 从此建立起必须完善以宪法为核心的中国特色社会主义法律体系。

材料二 2023年12月4日是第十个国家宪法日, 12月1日至7日是第六个“宪法宣传周”, 主题是“大力弘扬宪法精神, 建设社会主义法治文化”。全国各地开展形式多样、丰富多彩的宪法宣讲活动, 如: 宪法讲座、宪法诵读、宪法进农村、社会主义法治文化专题展览等。

(1) 根据材料一回答: 宪法在国家法律体系中的地位是什么?(2分)

(2) 根据材料二回答: 你打算如何增强自己的宪法意识?(3分)



32. 国家主席习近平于2024年5月5日至10日对法国、塞尔维亚、匈牙利三国进行国事访问。“承前启后”“继往开来”“命运共同体”“全天候”, 可以说是习近平主席此次欧洲三国之行的关键词。习近平主席的系列重要讲话向世界清楚地表明, 面对国际风云变幻和错综复杂的外部环境, 中国始终“不畏浮云遮望眼”, 坚持团结合作、和平发展、互利共赢, 坚定地站在历史正确一边、人类文明进步一边, 愿同包括欧洲国家在内的世界各国一道, 携手前行、共担风雨、共创未来。

习近平主席对欧洲三国进行国事访问的系列重要讲话, 再次向世界展示中国一直在用实际行动倡导构建人类命运共同体理念, 请回答这一理念的内容是什么?(5分)



33. 2024年春节档电影《第二十条》引发社会公众广泛关注。影片以检察官韩明为缩影, 展现了当代检察官为人民服务, 忠诚履职的铁纪担当。电影中涉及到的如正当防卫、见义勇为、扶危济困等各种社会问题, 与我们现实生活息息相关。“让老百姓绝望的, 不只是黑恶势力。”“法律, 是让坏人作恶的成本更高, 而不是让好人出手的代价更大。”“法, 不能向不法让步。”等成为街头巷尾老百姓津津乐道的经典台词。

根据材料, 运用教材观点, 请你为“法, 不能向不法让步”提供依据。(观点不少于两个, 每点2分, 共4分)



凉山州 2024 年初中学业水平暨高中阶段学校招生考试

历史试题解析

第 I 卷选择题（共 48 分）

一、选择题（在每个小题所列的四个选项中，只有一个选项符合题目要求，多选不得分，每小题 2 分，共 48 分）

1. 历史学家在研究中国古代某一时期的历史时，查阅了大量龟甲和兽骨上的文字拓影。他最有可能研究的是（ ）

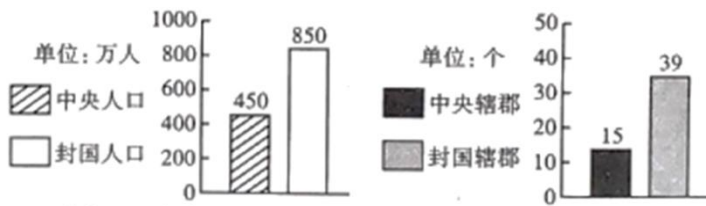
- A. 商朝历史 B. 秦朝历史 C. 唐朝历史 D. 宋朝历史

【答案】A

【解析】

【详解】根据材料“历史学家在研究中国古代某一时期的历史时，查阅了大量龟甲和兽骨上的文字拓影”和所学可知，甲骨文是商周时期刻在龟甲或者兽骨上的文字，是我国已发现的古代文字中年代最早、体系较为完整的文字，是一种比较成熟的文字，所以他最有可能研究的是商朝历史，A 项正确；甲骨文是商周时期刻在龟甲或者兽骨上的文字，与秦朝、唐朝、宋朝等朝代关系不密切，排除 BCD 项。故选 A 项。

2. 观察分析图，此柱状对比图反映了西汉初期存在着什么问题（ ）



- A. 经济问题 B. 王国问题 C. 税收问题 D. 边疆问题

【答案】B

【解析】

【详解】根据材料图片信息可知，图片反映出在西汉初期分封制度下，诸侯王控制的人口和管辖郡的数量超过了中央政府，威胁到西汉王朝。这反映了西汉初期存在着王国问题，B 项正确；经济问题主要涉及农业、手工业、商业等，不符合题意，排除 A 项；根据材料图片信息可知，这反映的是西汉初期存在的王国问题，无法体现税收问题，排除 C 项；封国人口与管辖郡的数量超过中央政府，这并不能反映出与边疆有关的问题，排除 D 项。故选 B 项。

3. 有人曾评价：“唐玄宗前期会做皇帝，后期不会做皇帝。”此人评价“唐玄宗前期会做皇帝”的主要立足点是（ ）

- A. 在他统治前期出现了“文景之治” B. 在他统治前期出现了“贞观之治”
C. 在他统治前期出现了“开元盛世” D. 在他统治前期出现了“安史之乱”

【答案】C

【解析】

【详解】依据所学知识可知，唐明皇即唐玄宗李隆基，“唐玄宗前期会做皇帝”的主要立足点是基于他统

治前期励精图治，重用贤臣，使得唐朝进入鼎盛时期，史称开元盛世，C项正确；文景之治发生在西汉汉文帝、汉景帝时期，排除A项；贞观之治发生在唐太宗李世民时期，排除B项；安史之乱发生在唐玄宗统治后期，排除D项。故选C项。

4. 图表中的史料可以共同佐证（ ）

- ①宋朝谚语“苏湖熟，天下足”
- ②南宋时，江南地区已成为我国制瓷中心
- ③南宋时，中央财政收入主要来自南方

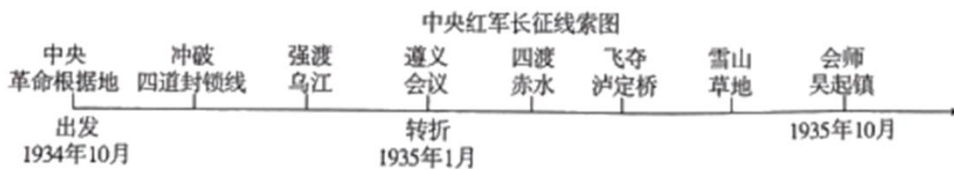
- A. 经济重心南移 B. 繁华的都市生活 C. 农业的发展 D. 手工业的兴盛

【答案】A

【解析】

【详解】根据材料“①宋朝谚语‘苏湖熟，天下足’②南宋时，江南地区已成为我国制瓷中心③南宋时，中央财政收入主要来自南方”和所学可知，古代经济重心南移从唐朝中期开始，到南宋时完成，主要表现为南方农业的迅速发展，南方成为全国制瓷中心，中央的财政收入，主要来自南方，特别是东南地区等，A项正确；“繁华的都市生活”与题干“中央财政收入主要来自南方”不符，排除B项；“农业的发展”与题干“南宋时，江南地区已成为我国制瓷中心”不符，排除C项；“苏湖熟，天下足”反映了长江下游和太湖流域成为丰饶的粮仓，与手工业的发展无关，排除D项。故选A项。

5. 线索图示有利于学生掌握历史事件发展过程。观察下面的线索图，能从图中提取到的有效信息有（ ）



- ①中央红军出发时间 ②遵义会议是转折点
- ③长征中的重大事件 ④红军三大主力会师的时间

- A. ②③④ B. ①②④ C. ①③④ D. ①②③

【答案】D

【解析】

【详解】根据材料线索图“出发”“1934年10月”等信息可知，1934年10月，中央红军从中央革命根据地出发，开始长征，所以①符合题意；根据材料线索图“转折”“1935年1月”“遵义会议”等信息可知，1935年1月15日至17日，中共中央政治局在贵州遵义召开会议，纠正王明“左”倾领导在军事指挥上的错误。开始确立实际以毛泽东为代表的马克思主义的正确路线在中共中央的领导地位，挽救了党、挽救了红军、挽救了革命，是长征史上生死攸关的转折点，所以②符合题意；根据材料线索图“强渡乌江”“遵义会议”“会师吴起镇”等信息可知，线索图中包括了长征中的许多重大事件，所以③符合题意，D项正确；红军三大主力会师的时间是1936年10月在甘肃会宁会师，题干线索图中没有显示，④不符合题意，排除ABC项。故选D项。

6. 史实是对历史事实不带有个人感情色彩的客观陈述；史论则是对历史事件和历史人物的评论。下列有关抗日战争的叙述属于“史论”的是（ ）

以上内容仅为本文档的试下载部分，为可阅读页数的一半内容。如要下载或阅读全文，请访问：<https://d.book118.com/958033112006006120>