

第一单元练习题

姓名:

等级:

一、填空题。

- 1、时针从上一个数字走到下一个数字,就是()。
- 2、学过的时间单位有()()()。计量很短的时间时,常用比分小的单位()。
- 3、时针走一大格是(),分针走一大格是(),秒针走一大格是(),走一圈是()。
- 4、1时=()分 1分=()秒 120秒=()分
180分=()时 5分=()秒 4时=()分
2时20分=()分 75分=()时()分
3分13秒=()秒 100秒=()分()秒
- 5、填合适的时间单位。(时、分、秒)
(1)、一节课40()。(2)、李静跑50米的时间是12()。
(3)、爸爸每天工作8()。(4)、小明跳50下绳约需30()。
- 6、体育老师对第一小组同学进行50米跑测试,成绩如下:小红9秒,小明8秒,小丽11秒,小军10秒。()跑得最快,

()跑得最慢。

- 7、6分○60秒 160分○3时 4分○200秒 3时○300分
250分○5时 60秒○60分 10分○600秒 120分○2时

二、判断题。选择正确答案的序号填在括号里。

- 1、秒针走一大格,分针就走一小格。 ()
- 2、火车下午1:05从南京出发,当天下午3:50到达上海,火车共行驶了2小时45分。 ()
- 3、时针在4与5之间,分针指着10,这时是5:30. ()
- 4、在百米赛跑中,东东用了140分。 ()。
- 5、明明每天早晨7:15从家出发,7:35分到校,她路上用了20分钟。()。

三、选择题。

- 1、一场电影大约播放()。①500秒 ②8时 ③100分
- 2、小丽1分钟写4个大字,写20个大字需多长时间?列式为()。
① 1×4 ② 4×1 ③ $20 \div 4$

3、从 9 时到 11 时 30 分，经过了（ ） ①3 时 30 分 ②2 时 30 分 ③1 时 30 分。

4、新闻联播晚上 7 时开始，用时 30 分，（ ）结束。

①7:30 ②6:30 ③8:30

5、学校早上 8:25 上第一节课，这节课上 40 分，中间休息 10 分，

（ ）上第二节。①9:05 ②8:75 ③9:15

四、解决问题。

1、火车 9:20 开，李华从家到火车站要 35 分，李华至少要在几时几分从家出发才能赶上火车？

2、李明从下午 4:40 到下午 5:10 一直在看动画片，她一共看了多长时间？

3、从湛江到南宁的火车经过玉林的时间是中午 11:40 分，现在要晚点 25 分，它什么时候到达？

4、一根 24 米长的木棒，每 4 米据一段，据一次要 4 分。据完这木棒要多长时间？

5、小芳走楼梯，从一楼到二楼用了 9 秒，若每层楼之间楼梯数相同，她用同样的速度上到七楼，需要多长时间？

6、东环小学下午 2:50 上课，4:45 放学，同学们下午在校多长时间？

三年级数学上册第一、二单元试

姓名：

等级：

一、 填空：

1. 笔算加、减法时，() 要对齐。
 哪一位上相加满十，要向 () 位进 ()。
 哪一位上不够减，要从 () 位退 () 再减。
 验算加法时，可以用 () 减去 ()，
 看是不是等于 ()。
 验算减法时，可以把 () 和 () 相加，
 看是不是等于 ()。
2. 7 米 = () 厘米
 1500 米 + 500 米 = () 千米
 1 吨 - 400 千克 = () 千克

3. () + 63 = 245 260 - () = 123

4. 根据
- $370+460=830$
- ，可以写两道减法算式：分别为：
-
- () 和 ()。

5. 小民身高 110 厘米，小红身高 139 厘米，小民比小红矮 () 厘米。

6. 小熊猫体重 125 千克，小老虎体重比小熊猫多 55 千克，小老虎体重 () 千克。

7. 在 () 里填上合适的数。

3 () ()	2 () 9	+
() 7 8	+ () 7 8	-
5 0 6	6 8 8	

$$\begin{array}{r} (\)\ 6\ 4 \\ -\ 5\ (\)\ (\) \\ \hline 1\ 9\ 6 \end{array}$$

8. 在括号里填上“>”“<”或“=”。

$56+35\ (\)\ 76 \quad 8003\ (\)\ 800+3$

$285+5\ (\)\ 305$

二、判断题：（对的打“√”，错的打“×”）

1. 在加法算式中，和一定比两个加数都大。 ()
2. 最小的四位数减去最大的三位数差是1。 ()
3. 最大的四位数加1得最大的五位数。 ()
4. 计算减法时，可以用加法验算。 ()
5. 和是100的两个数一定是70和30。 ()

三、选择题：（把正确的序号写在括号里）

1. 一台电话105元，一台风扇65元，一个电子手表25元，花200元够买吗？ ()

- A. 不够 B. 不多不少，刚刚够
C. 够买，而且还有剩钱

2. 下面的结果刚好是250的是 ()

- A. $1500-500$; B. $2500-2250$ C. $150+150$;

3. $564 = (\) - 63$

- A. 501 B. 627 C. 170

4. 现在这台VCD比原来的价格便宜 () 钱。



- A、131元 B、149元 C、49元

原价620元
现价489元

四、计算。

1、竖式计算，要求验算的请写出验算。

(1) $375 + 168 =$ (2) $709 - 425 =$ (3) $376 + 589 =$



2、文字题。

(1) 244 比 700 少多少 (2) 比 306 多 95 的数是多少?

(3) 被减数是 300，减数是 79，差是多少?

(2)、把每小时行的路程与合适的出行方式连起来。



75 千米

800 千米

18 千米

5 千米

六、应用题：

1、三年级有 203 人，四年级有 279 人，三、四年级一共有多少人?

七、实践操作：(1)、量出下面各图形中每条边的长度。

(以毫米为单位) () ()

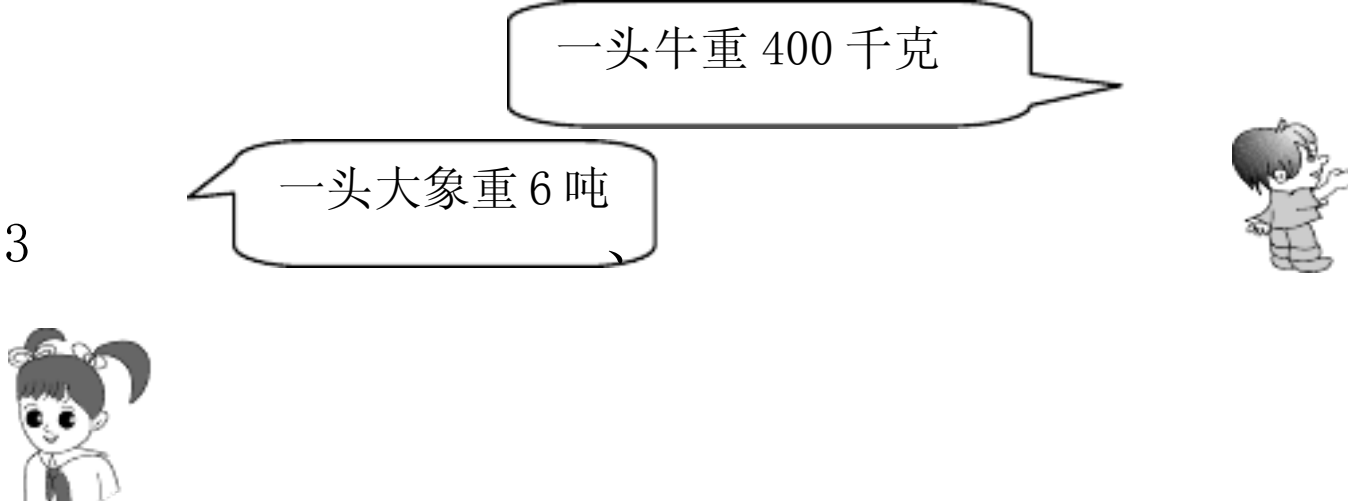
2、水果店运进 318 千克荔枝，上午卖出 276 千克，还剩 () 千米。
多少千克？

5、新华书店的一种新书有 600 本，上午卖出 192 本，下午卖出 249 本，还剩下多少本？

3

一头牛重 400 千克

一头大象重 6 吨



一头大象比一头牛重多少千克？

_____ 答：一头大象比一头牛重 () 千克。

4、长江全长是 6300 千米，比黄河长 900 千米，黄河全长多少千米？

_____ 答：黄河全长是

6、工程队挖水渠，第一周挖了 613 米，第二周挖的比第一周少 28 米，第二周挖了多少米？两周一共挖了多少米，合多少千米？

小学三年级上册数学第三单元巩固练习

姓名_____ 等级_____

一、想一想，填一填。

1. 在()里填上适当的单位。

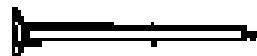


手绢边长约3()



马拉松长跑比赛

全长约42()



一根铁钉长

约35()



每小时行120()



能装货物4()



一头牛重250()

2. 在○里填上“>”、“<”或“=”。

4千克○4吨 8千米○8公里 8000克○8吨

2999千克○3吨 5分米○50毫米

60分米○600厘米 2300千克-300千克○2吨

3吨-1000千克○1吨 1千米-200米○80米

1米-8分米○2厘米

3. 我估计我家到学校的距离大约有()。

4. 一袋大米的重量是50千克，10袋大米的重量是()

千克。20袋大米的重量是()千克，也就是()

吨。

二、我会选。

1. 我的书包大约重3()。

A. 千克 B. 克 C. 吨

2. 我的铅笔盒大约长2()。

A. 米 B. 分米 C. 厘米

3. 我的数学课本宽约15()。

A. 分米 B. 厘米 C. 毫米

4. 1千米和1000米比较()

A. 1千米长 B. 1000米长 C. 一样长

5. 小汽车每小时行驶110()。

A. 千米 B. 米 C. 分米

6. 一座大桥的载重量为 40 ()。

A. 千米 B. 千克 C. 吨

7. 1 吨的棉花和 1 吨的煤炭相比 ()。

A. 1 吨煤炭重 B. 一样重 C. 无法比较


8. 教室的门宽约 9 ()。

A. 厘米 B. 米 C. 分米

三、我会认。



() 厘米 () 毫米 () 厘米 () 毫米



() 厘米 () 毫米

四、我会算。

26 分米 - 6 分米 = () 分米 = () 米

640 米 + 360 米 = () 米 = () 千米

1 米 - 7 分米 = () 分米

1 米 - 9 厘米 = () 厘米

1 千米 - 720 米 = () 米

2 吨 + 2 千克 = () 千克

17 毫米 + 33 毫米 = () 厘米

820 吨 + 180 吨 = () 吨

五、按要求画出线段。

1. 画一条长 1 分米的线段。

2. 画一条长 3 厘米 5 毫米的线段。

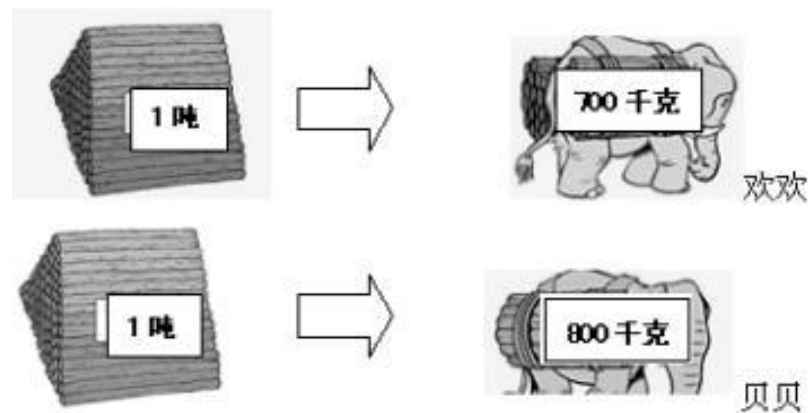
六、解决问题。

1. 学校买回一捆 51 米长的绳子做跳绳，第一次用去 18 米，

第二次用去 24 米，还剩下多少米？

2. 大象运木头。

(1) 哪头大象剩的多? (2) 多多少千克?

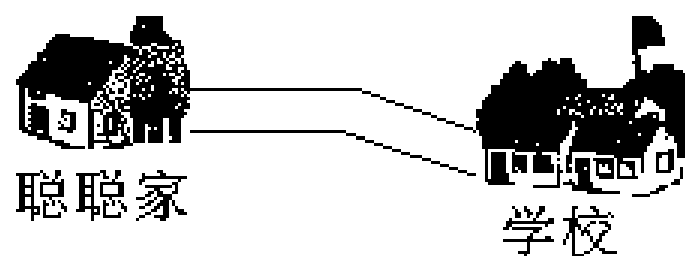


3. 一根竹竿 4 米长。小猫做 5 根同样长的鱼竿, 一根鱼竿有多长?



4. 聪聪早晨去上学, 中午回家吃饭后还要去上学, 下午放学回家。

在这条路上, 她一天要走多少米?



聪聪家离学校的距离是 2 千米。

桥比较合适? 请你列出算式, 并计算。

(小动物们都要过去桥)



6. 一共 32 人乘船观光。



限乘 4 人, 租金 6 元



限乘 6 人, 租金 8 元

(1) 如果每条船都坐满, 可以怎样租船?

(2) 哪种租船方案最省钱?

5. 小动物们要到桥那边去参加“动物运动会”。哪些动物一起过

人教版三年级上册数学第四单元巩固练习

姓名_____ 等级_____

一、算一算，要细心。

1. 把算式和相应的得数连起来。

$83 + 38 =$ $195 + 27 =$ $423 - 86 =$ $508 - 217 =$ $600 - 49 =$



2. 哪两个数加起来得 1000? 连一连。



3.

(1) 鲜花店原有 302 枝鲜花, 上午卖掉 98 枝, 大约还剩() 枝。

(2) 果园里有 497 棵桃树, 梨树比桃数少 203 棵, 梨树大约有 () 棵。

(3) 学校上午有 398 人去参观古生物博物展览, 下午有 503 人去参观, 下午比上午大约多去 () 人。

(4) 一年级学生为地震灾区捐款。估计大约一共捐 () 元。

班级	数量/元
一班	209
二班	203
三班	198

4. 验算 $285 - 169 = 116$ 时, 可以用 () 加上 () 看是不是等于 (), 也可以用 () 减去 116, 看是不是等于 ()。

5. 小刚计算 $834 + 427 = 1251$, 小明想知道他算得对不对, 就用 () \bigcirc () = (), 所以这道题算 ()。

二、判断。你认为下面的计算正确吗? (对的画 \checkmark , 错的画 \times ,

以上内容仅为本文档的试下载部分，为可阅读页数的一半内容。如要下载或阅读全文，请访问：<https://d.book118.com/968125100126006140>