

人教版一年级数学下册期末测试题（一）

班级：_____ 姓名：_____ 分数：_____

一、直接写得数。

$15+30=$

$68-9-20=$

$48+8=$

$37+50=$

$63-6=$

$12-7+60=$

$18-9-9=$

$39+8=$

$38+60=$

$35-9+20=$

$50-6=$

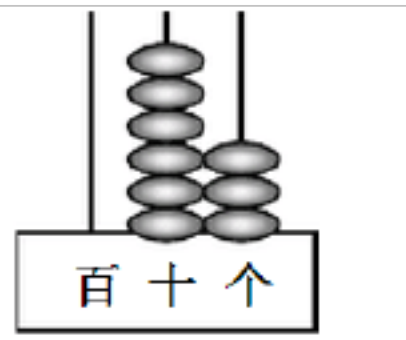

$26+9=$

$35+9-20=$

$23+7+50=$

二、填空。

1、



() 个十和 () 个一合起来是 () () 里面有 () 个十和 () 个一。

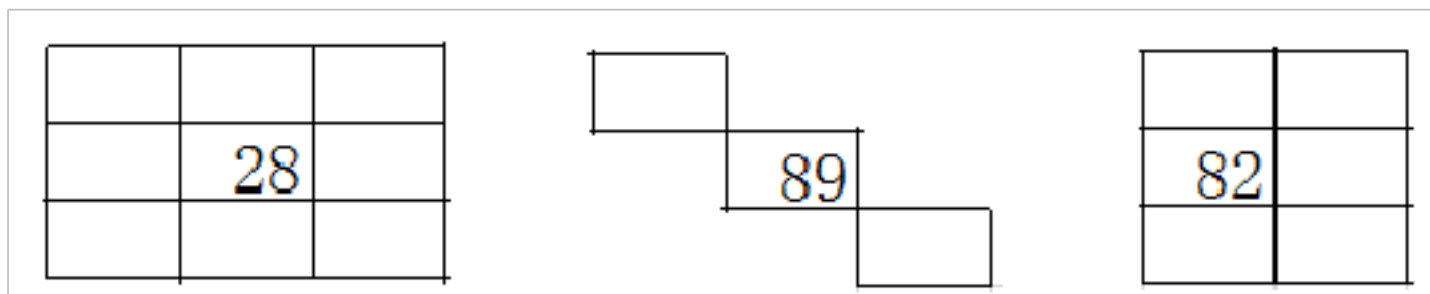
2、在 63、36、70、27 这个四个数中，个位是 6 的数是 ()，把这几个数从大到小排列_____。

3、1 元 8 角=() 角 72 角=() 元() 角 10 元-6 元 3 角=()。

4、在 29、37、99、53 这些数中，最接近 30 的数是 ()，比 30 大的多的数是 ()。

5、一张 50 元可以换 () 张 20 元和 () 张 10 元的。

6、根据百位表填数。



7、比 69 多 7 的数是 (), 比 69 少 20 的数是 ()。

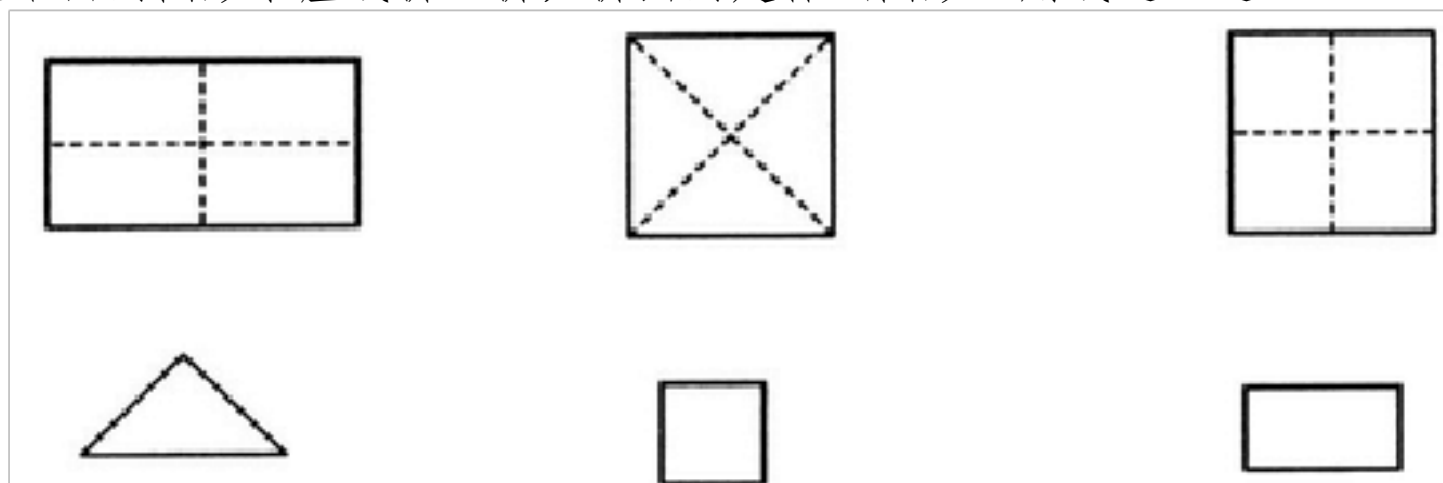
8、62 十位上数是 () 表示 () 个十, 个位上的数是 () 表示 () 个 ()。

9、找规律填数。

37、35、()、31、()、()。

6、12、18、24、()、()、()。

10、把下面的图形沿虚线折一折, 折出的是什么图形? 用线连一连。



三、在 () 里填 “>”、“<” 或 “=”。

$26+30$ () $63-7$

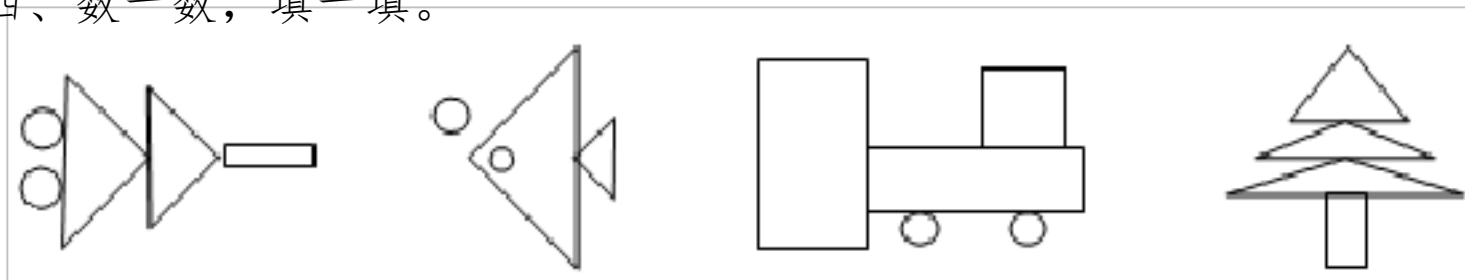
$96-80$ () $6+80$

$20+62$ () $62+18$

2 元+5 角 () 10 元-7 元 5 角


9 元-7 元 () 6 角+7 角

四、数一数, 填一填。



上图中一共有 () 个三角形, () 个正方形, () 个长方形, () 个圆。

五、分类与整理。



将上面的图形分三组把序号填在横线上。

第一组：_____ 第二组：_____ 第三组：_____

2、根据上面的信息提一个数学问题，并解答？

六、解决生活中的问题。

1、一共有 40 个苹果，女生 23 人，男生 20 人，每人发一个苹果，够吗？在正确答案后面画“√”。

$\square \bigcirc \square = \square$	够 \square	不够 \square
--------------------------------------	-------------	--------------

2、



(1) 买一件上衣和一条裤子一共要多少钱？

$\square \bigcirc \square = \square$

(2) 付给售货员 100 元应找回多少元？

$\square \bigcirc \square = \square$

3、妈妈买了 3 袋苹果，每袋 9 个，一共买了多少个苹果？

$\square \bigcirc \square \bigcirc \square = \square$

4、我的爸爸今年 38 岁，我今年 7 岁。请问爸爸比我大几岁？

$$\square \bigcirc \square = \square$$

试卷（一）参考答案

一、45, 39, 56, 87, 57, 65, 0, 47, 98, 46, 44, 35, 24, 80.

二、1、3, 4, 34, 63, 6, 3

2、36, 70, 63, 36, 27,

3、18, 7, 2, 3元7角

4、29, 99

5、2, 1

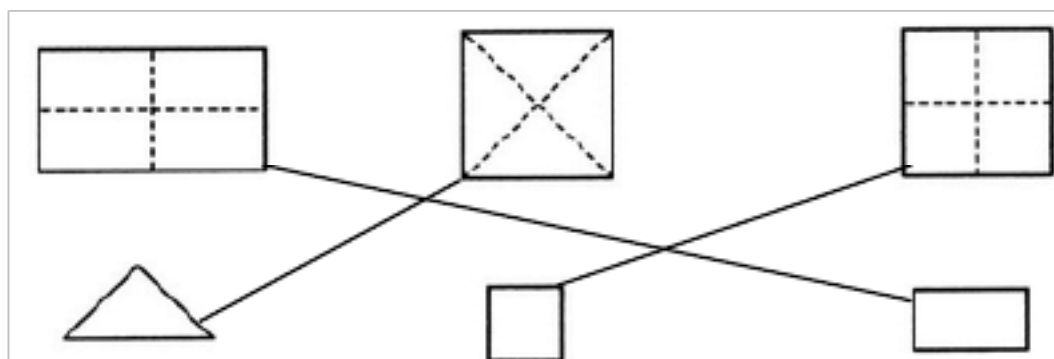
6、16, 17, 18, 27, 29, 37, 38, 39, 78, 100, 72, 73, 83, 92, 93.

7、76, 49

8、6, 6, 2, 2, 1

9、33, 29, 27, 30, 36, 42,

10、



三、<、<、>、=、>

四、7, 1, 4, 6

五、①④⑤⑨(12) ⑥⑦⑧ ③⑩(11)

第一组比第二组多几个？ $5-3=2$

六、解决问题

1、 $23+20=43$ 不够

2、 $50+30=80$, $100-80=20$, 3、 $9+9+9=27$, 4、 $38-7=31$

人教版一年级数学下册期末测试题（二）

班级：_____ 姓名：_____ 分数：_____

一、口算。

$37+9=$ $47+8=$ $64-9=$ $73-20=$

$44+40=$ $71-10=$ $48+30+10=$

$62-20+30=$ $84-50+20=$ $55-7+40=$

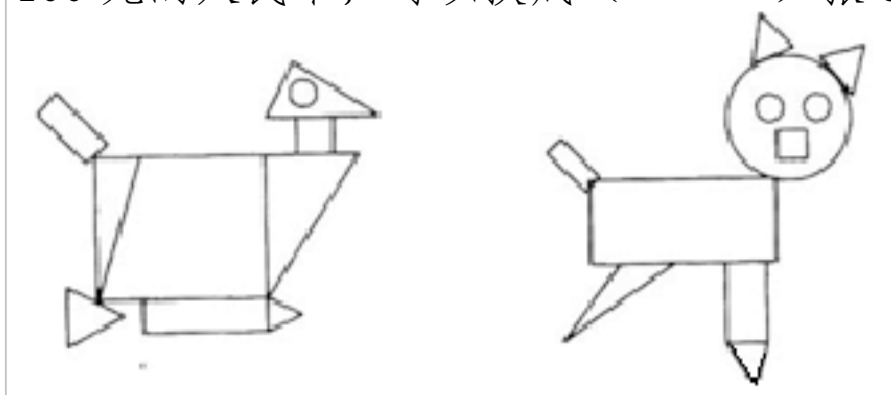
$21+30-9=$ $60+(20-7)=$ $100-20-30=$

二、填空。

1、一个数由 3 个十和 5 个一组成，这个数是（ ），读作：（ ）和它相邻的两个数是（ ）和（ ）。

2、一张 100 元的人民币，可以换成（ ）张 50 元，或者还能换成（ ）张 10 元的。

3、



这两幅图一共有（ ）个三角形，（ ）个正方形，（ ）个长方形，（ ）个圆。

4、78 由（ ）个十和（ ）个一组成。

5、找规律，填一填。

(1) 16、26、17、27、18、（ ）、（ ）、（ ）。

(2)

5
2 3

15
7 8

6
5 6

10
7 10

19
9 19

24
8 24

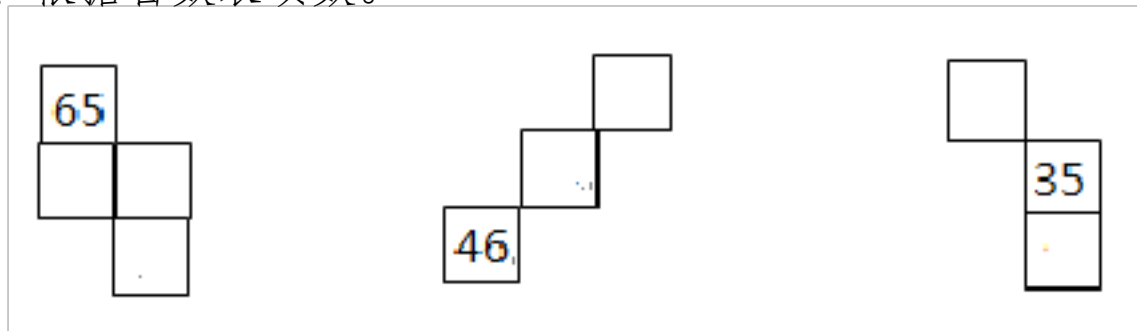
依次要填入 ()、()、()、()。

6、76 角 = () 元 () 角 4.05 元 = () 元 () 分

1 元 2 角 = () 角 14 元 - 6 元 = () 元

7、69 比 () 多 19 70 比 92 少 ()。

8、根据百数表填数。



三、在 () 里填上合适的数。

27 - () = 20 32 - () = 26 95 - () = 45





78 - () = 76 50 + () = 83 () - 6 = 66

四、在○里填“>”、“<”或“=”。

39 - 4 ○ 36 68 - 40 ○ 28 76 - 8 ○ 67 7 元 8 角 ○ 78 角

87 - 30 ○ 49 94 - 7 ○ 88 53 - 9 ○ 45 10 元 - 3 元 6 角 ○ 7 元

五、仔细观察下图分一分。

① 	② 	③ 	④ 
7 岁	8 岁	7 岁	8 岁
一 (1) 班	二 (2) 班	一 (2) 班	二 (1) 班
爱好数学	爱好语文	爱好语文	爱好数学

第一种分法：_____、_____

第二种分法：_____、_____

六、解决生活中的问题。

1、



(1) 小明买一个  和一个  一共要多花多少钱？

$$\square \bigcirc \square = \square$$


(2) 小明购买一个  和一个  付出 20 元，应找回多少元？

$$\square \bigcirc \square = \square$$

(3) 一个  比一幅  贵多少元？

$$\square \bigcirc \square = \square$$

2、



他们三个一共有多少本小人书？

$$\square \bigcirc \square \bigcirc \square = \square$$

3、游泳的有 7 个小孩和 25 个大人。我们有 3 个救生员。

(1) 游泳池里的大人比小孩多多少人？

$$\square \bigcirc \square = \square$$

(2) 请你提出一个数学问题并解答。

试卷（二）参考答案：

一、口算：46, 55, 55, 53, 84, 61, 88, 72, 54, 88, 42, 73, 50

二、填空题。

1、35, 三十五, 34, 36.

2、2, 10,

3、10, 2, 4, 3

4、7, 8,

5、28, 19, 29, 11, 3, 10, 32,

6、7, 6, 4, 5, 12, 8

7、50, 22,

8、75, 76, 86, 57, 48, 24, 45。

【解析】第1题3个十就是十位上是3，5个一就是个位上是5。相邻的数就是比35少1和多1的数。第2题2个50是100，10个10是100，第3题要求学生认真掌握平面图形的特征。第4题7个十和8个一组成78。第5题根据规律填数。第6题知道1元=10角，1角=10分。第7题 $69-19=50$ ， $92-70=22$ ，第8题根据百位数表填。

三、填空。

【答案】7, 6, 50, 2, 33, 72,

【解析】根据减数=被减数-差，加数=和-另一个加数。

四、比较大小。

【答案】 $<$ 、 $=$ 、 $>$ 、 $=$ 、 $>$ 、 $<$ 、 $<$ 、 $<$

【解析】 计算出来比较。

五、分类。

【答案】、①④ ②③ ①② ③④

【解析】 可以根据性别和爱好有两种分法。还可以根据头发长短等来分类。

解决问题。

【答案】 1、 $16+30=46$ ， $20-14=6$ ， $16-8=8$ ，2、 $6+6+6=18$ ，3、 $25-7=18$ ，一共有多少人？ $3+7+25=35$

【分析】 认真读题理解题意就能正确的解答。

人教版一年级数学下册期末测试题（三）

班级：_____ 姓名：_____ 分数：_____

一、我会算。（共 8 分）

$16-7=$ $46+5=$ $50+24=$ $98-70=$ $45+(37-30)=$

$8+57=$ $90-9=$ $72-8=$ $36+30=$ $20+16-7=$

$20+70=$ $39+9=$ $88-8=$ $56-9=$ $64-(29-20)$

二、我会填。（共 24 分）

1. 在数位顺序表中，从右边起，第一位是（ ）位，第二位是（ ）位，第三位是（ ）位。

2. 59 是由（ ）个十和（ ）个一组成的。

3. 一个两位数，十位数字比 8 大，个位数字比 1 小，这个两位数是（ ）。

4. 10 个十是（ ），读作（ ）。100 里面有（ ）个一。

5. 62 十位上的数是（ ），表示（ ）个（ ），个位上的数是（ ），表示（ ）个（ ）。



6. 与 99 相邻的两个数是（ ）和（ ）。


7. 50 角=（ ）元 6 元 5 角=（ ）角 7 角+8 角=（ ）元（ ）角

8. 按顺序填数。

	35		45	
--	----	--	----	--

	99		97	
--	----	--	----	--

9. 一张  () 张 , 也可以  张 。

10.  从小到大的顺序进行排列。

58 100 15 52 74

() < () < () < () < ()

三、我会比大小。(共 8 分)

89 ○ 98

53 ○ 39+9

91+9 ○ 100

1元 ○ 100分

72-8 ○ 60

60+9 ○ 59+9

88-80 ○ 88-8

2元 ○ 19角

四、我会选。(共 4 分)

1.



我采了



我采的比你多一些。



可能采了 () 个松果。

A.34

B.20

C.60

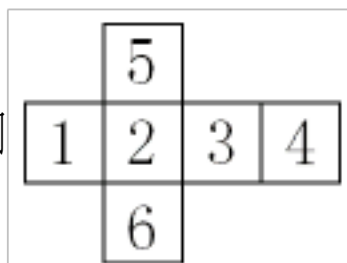
2. 1.50 元表示 ()。


A.1 元 50 角

B.15 角

C.1 元 5 角

3. 用



做成一个  , 数字“2”的对面数字是 ()。

A.4

B.5

C.1

以上内容仅为本文档的试下载部分，为可阅读页数的一半内容。如要下载或阅读全文，请访问：<https://d.book118.com/975040222011011034>