

# 宁夏银川市兴庆区 2024 科目一模拟考试 100 题【带 解析答案】

1、这个标志是何含义？



- A、前方路口不能右转
- B、前方路口不能直行
- C、前方是十字路口
- D、前方路口不能左转

正确答案：B

分析：T 字形路口表示前方路段只有左右方向岔路，不可直行。

2、如图所示，夜间驾驶机动车与同方向行驶的前车距离较近时，以下做法正确的是什么？



- A、使用远光灯，有利于观察路面情况
- B、禁止使用远光灯，避免灯光照射至前车后视镜造成前车驾驶人眩目

C、使用远光灯，有利于告知前方驾驶人后方有来车

D、禁止使用远光灯，避免灯光照射至前车后视镜造成自己眩目

正确答案：B

分析：夜间驾驶机动车与同方向行驶的前车距离较近时，禁止使用远光灯，避免灯光照射至前车后视镜造成前车驾驶人眩目。

3、驾驶小型汽车在高速公路行驶，超过规定时速 20% 但不到 50% 的，一次记 2 分。

A、正确

B、错误

正确答案：B

分析：《道路交通安全违法行为记分管理办法》规定， 机动车驾驶人有下列交通违法行为之一，一次记 6 分：（一）驾驶校车、公路客运汽车、旅游客运汽车载人超过核定人数未达到百分之二十，或者驾驶 7 座以上载客汽车载人超过核定人数百分之二十以上未达到百分之五十，或者驾驶其他载客汽车载人超过核定人数百分之五十以上未达到百分之百的；（二）驾驶校车、中型以上载客载货汽车、危险物品运输车辆在高速公路、城市快速路上行驶超过规定时速未达到百分之二十，或者在高速公路、城市快速路以外的道路上行驶超过规定时速百分之二十以上未达到百分之五十的；（三）驾驶校车、中型以上载客载货汽车、危险物品运输车辆以外的机动车在高速公路、城市快速路上行驶超过规定时速百分之二十以上未达到百分之五十，或者在高速公路、城市快速路以外的道路上行驶超过规定时速百分之五十以上的；（四）驾驶载货汽车载物超过最大允许总质量百分之五十以上的；（五）驾驶机动车载运爆炸物品、易燃易爆化学物品以及剧毒、放射性等危险物品，未按指定的时间、路线、速度行驶或者未悬挂警示标志并采取必要的安全措施的；（六）驾驶机动车运载超限的不可解体的物品，未按指定的时间、路线、速度行驶或者未悬挂警示标志的；（七）驾驶机动车运输危险化学品，未经批准进入危险化学品运输车辆限制通行的区域的；（八）驾驶机动车不按交通信号灯指示通行的；（九）机动车驾驶证被暂扣或者扣留期间驾驶机动车的；（十）造成致人轻微伤或者财产损失的交通事故后逃逸，尚不构成犯罪的；（十一）驾驶机动车在高速公路或者城市快速路上违法占用应急车道行驶的。

4、机动车驾驶人有以下哪种违法行为的，暂扣六个月机动车驾驶证？

A、醉酒后驾驶机动车的

B、伪造、变造机动车驾驶证的

C、饮酒后驾驶机动车的

D、使用伪造、变造机动车驾驶证的

正确答案：C

分析：饮酒驾驶机动车辆，罚款 1000 元—2000 元、记 12 分并暂扣驾照 6 个月；饮酒驾驶营运机动车，罚款 5000 元，记 12 分，处以 15 日以下拘留，并且 5 年内不得重新获得驾照。醉酒驾驶机动车辆，吊销驾照，5 年内不得重新获取驾照，经过判决后处以拘役，并处罚金；醉酒驾驶营运机动车辆，吊销驾照，10 年内不得重新获取驾照，终生不得驾驶营运车辆，经过判决后处以拘役，并处罚金。

5、学习机动车驾驶，应当先学习道路交通安全法律、法规和相关知识，考试合格后，再学习机动车驾驶技能。

A、正确

B、错误

正确答案：A

分析：《道路交通安全法实施条例》规定：学习机动车驾驶，应当先学习道路交通安全法律、法规和相关知识，考试合格后，再学习机动车驾驶技能。

6、驾驶人持有 A2 驾照的，可以直接驾驶轻型牵引挂车。

A、正确

B、错误

正确答案：A

分析：重型牵引挂车 A2 准驾车型：中型客车 B1、大型货车 B2、小型汽车 C1、小型自动挡汽车 C2、低速载货汽车 C3、三轮汽车 C4、轻型牵引挂车 C6、轮式专用机械车 M。所以 A2 和 C6 驾驶证的，可以驾驶轻型牵引挂车。

7、行车中当驾驶人意识到车辆爆胎时，下列错误的做法是？

A、紧急制动

B、缓慢减速


C、轻踏制动踏板

D、控制方向

正确答案：A

分析：爆胎和意识到爆胎时，首先要做的就是控制住方向，然后缓慢减速，平稳停车。

8、这个标志的含义是提醒前方两侧行车道或路面变窄。



A、正确

B、错误

正确答案：B

分析：警告标志窄桥。用以警告车辆驾驶人注意前方桥面宽度变窄，应谨慎驾驶。设在桥面净宽较两端路面宽度变窄，且桥的净宽小于6m的桥梁以前适当位置。

9、申请人患有癫痫病的，可以申领机动车驾驶证，但是驾驶时必须有人陪同。

A、正确

B、错误

正确答案：B

分析：申请人患有癫痫病的，不可以申领机动车驾驶证。

10、交通事故的损失是由非机动车驾驶人、行人故意碰撞机动车造成的，机动车一方也要承担赔偿责任。

A、正确

B、错误

正确答案：B

分析：交通事故的损失是由非机动车驾驶人、行人故意造成的，机动车一方不承担责任。

11、驾驶机动车遇到沙尘、冰雹、雨、雾、结冰等气候条件时应降低行驶速度。

A、正确

B、错误

正确答案：A

分析：沙尘、冰雹、雨、雾、结冰等气候条件非常不利于开车，因为视线受到干扰、地湿路滑等原因很容易造成事故，为了安全应该降低行驶速度。

12、组织申请人在机动车驾驶人考试过程中作弊，情节严重构成犯罪的，会受到什么处罚？

A、处三年以上七年以下有期徒刑

B、处七年以上有期徒刑，并处罚金

C、处三年以下有期徒刑，并处罚金

D、处管制，并处罚金

正确答案：A

分析：《中华人民共和国刑法》规定：在法律规定的国家考试中，组织作弊的，处三年以下有期徒刑或者拘役，并处或者单处罚金；情节严重的，处三年以上七年以下有期徒刑，并处罚金。为他人实施前款犯罪提供作弊器材或者其他帮助的，依照前款的规定处罚。为实施考试作弊行为，向他人非法出售或者提供第一款规定的考试的试题、答案的，依照第一款的规定处罚。代替他人或者让他人代替自己参加第一款规定的考试的，处拘役或者管制，并处或者单处罚金。

13、这个标志是何含义？



A、旅游区类别

B、旅游区距离

C、旅游区方向

D、旅游区符号

正确答案：B

分析：遇此类标志是指旅游区的距离还有多远（亲不要激动 安全第一 慢行

14、机动车仪表板上(如图所示)亮表示发动机可能机油量不足。



A、正确

B、错误

正确答案：A

分析：你们好好想想机油压力过低.就是机油不足啊 .他不足才导致压力过低啊

15、在铁路道口遇到两个红灯交替闪烁时要停车等待。



A、正确

B、错误

正确答案：A

分析：两个红灯交替闪烁时表示火车要经过了，赶紧停车等待吧。

16、遇到图中所示的情景，怎么做是正确的？



- A、借左侧车道超越校车
- B、鸣喇叭催促校车离开
- C、变换远近光灯催促校车离开
- D、停在校车后面等待

正确答案：D

分析：校车在道路上停靠时，与校车同一车道的后方及相邻机动车道上的车辆就得停车等待，其他车道上的机动车也应减速通过。此题同向只有一条车道，所以只能停车等待，不得逆向超车。

17、改变车身颜色、更换发动机、车身或车架，未在规定时间内办理变更登记的，由公安机关交通管理部门处警告或者 200 元以下罚款。

- A、正确
- B、错误

正确答案：A

分析：《机动车登记规定》规定，有下列情形之一的，由公安机关交通管理部门处警告或者二百元以下罚款：（一）重型、中型载货汽车、专项作业车、挂车及大型客车的车身或者车厢后部未按照规定喷涂放大的牌号或者放大的牌号不清晰的；（二）机动车喷涂、粘贴标识或者车身广告，影响安全驾驶的；（三）载货汽车、专项作业车及挂车未按照规定安装侧面及后下部防护装置、粘贴车身反光标识的；（四）机动车未按照规定期限进行安全技术检验的；（五）改变车身颜色、更换发动机、车身或者车架，未按照第十六条规定的时限办理变更登记的；（六）机动车所有权转让后，现机动车所有人未按照第二十五条规定的时限办理转让登记的；（七）机动车所有人办理变更登记、转让登记，未按照第十八条、第二十七条规定的时限到住所地车辆管理所申请机动车转入的；（八）机动车所有人未按照第二十三条规定申请变更备案的。

18、这个标志是何含义？



- A、禁止直行和向左转弯
- B、禁止直行和向左变道
- C、允许直行和向左变道
- D、禁止直行和向右转弯

正确答案：D

分析：禁止直行和向右转弯：表示前方路口禁止一切车辆直行和向右转弯。此标志设在禁止直行和向右转弯的路口前适当位置。

19、饮酒后驾驶机动车一次记几分？

- A、2分
- B、3分
- C、6分
- D、12分

正确答案：D

分析：酒驾，记12分，5年内不得再考取驾照 2013新规

20、作业区标志的作用是通告道路交通阻断、绕行等情况。


- A、正确
- B、错误

正确答案：A



分析：作业区标志的作用是通告道路交通阻断、绕行等情况。用于作业区的标志为警告、禁令、指示及指路标志，其中警告标志为橙底黑图形，指路标志为原有标志上增加橙色绕行箭头或者为橙底黑图形。

21、这个路段可以在非机动车道上临时停车。



A、正确

B、错误

正确答案：B

分析：这个是非机动车道，当然不能占道，不然后人家骑车的怎么过去。

22、这一组交通警察手势是什么信号？



A、直行信号

B、转弯信号

C、停止信号

D、靠边停车信号

正确答案：A

分析：右手方向和左手方向是在一条线上的，右手做动作朝左手的方向，加油 走你 直行~~

23、下列哪种违法行为的机动车驾驶人将被一次记9分？

- A、驾驶机动车不按照规定避让校车的
- B、驾驶机动车不按交通信号灯指示通行的
- C、驾驶故意污损号牌的机动车上道路行驶
- D、机动车驾驶证被暂扣期间驾驶机动车的

正确答案：C

分析：《道路交通安全违法行为记分管理办法》规定，机动车驾驶人有下列交通违法行为之一，一次记9分：（一）驾驶7座以上载客汽车载人超过核定人数百分之五十以上未达到百分之百的；（二）驾驶校车、中型以上载客载货汽车、危险物品运输车辆在高速公路、城市快速路以外的道路上行驶超过规定时速百分之五十以上的；（三）驾驶机动车在高速公路或者城市快速路上违法停车的；（四）驾驶未悬挂机动车号牌或者故意遮挡、污损机动车号牌的机动车上道路行驶的；（五）驾驶与准驾车型不符的机动车的；（六）未取得校车驾驶资格驾驶校车的；（七）连续驾驶中型以上载客汽车、危险物品运输车辆超过4小时未停车休息或者停车休息时间少于20分钟的。

24、机动车喷涂、粘贴标识或者车身广告，影响安全驾驶的，会被处以警告或者二百元以下罚款。

- A、正确
- B、错误

正确答案：A

分析：《机动车登记规定》规定，有下列情形之一的，由公安机关交通管理部门处警告或者二百元以下罚款：（一）重型、中型载货汽车、专项作业车、挂车及大型客车的车身或者车厢后部未按照规定喷涂放大的牌号或者放大的牌号不清晰的；（二）机动车喷涂、粘贴标识或者车身广告，影响安全驾驶的；（三）载货汽车、专项作业车及挂车未按照规定安装侧面及后下部防护装置、粘贴车身反光标识的；（四）机动车未按照规定期限进行安全技术检验的；（五）改变车身颜色、更换发动机、车身或者车架，未按照第十六条规定的时限办理变更登记的；（六）机动车所有权转让后，现机动车所有人未按照第二十五条规定的时限办理转让登记的；（七）机动车所有人办理变更登记、转让登记，未按照第十八条、第二十七条规定的时限到住所地车辆管理所申请机动车转入的；（八）机动车所有人未按照第二十三条规定申请变更备案的。

25、危险报警闪光灯可用于下列什么场合？

- A、在道路上跟车行驶时

- B、遇到道路拥堵时
- C、机动车发生故障停车时
- D、引领后车行驶时

正确答案：C

分析：安全带很明显，亲，开车一定要系安全带，而且不系安全带是要扣分的。

26、遇到图中这种情况，哪种驾驶行为是正确的？



- A、向左转弯通过路口
- B、在路口掉头行驶
- C、直行通过路口
- D、向右转弯通过路口

正确答案：D

分析：图中右转绿灯亮，表示可以右转弯。

27、遇到前方车辆停车排队或者缓慢行驶时，强行穿插，以下说法正确的是什么？

- A、允许，因为可以省油
- B、允许，因为可以快速的通过拥堵区
- C、禁止，因为这样扰乱车流，加重拥堵
- D、禁止，因为这样不利于省油

正确答案：C

分析：禁止强行穿插，会加重交通堵塞。

28、如图所示，当您超越右侧车辆时，应该尽快超越，减少并行时间。



A、正确

B、错误

正确答案：A

分析：中心是虚线，可以越线超车；前方很长一段距离无车，应迅速超过，减少超车时间。

29、机动车驾驶人在一个记分周期期限届满，累积记分虽未满12分，但有罚款逾期未缴纳的，该记分周期内尚未缴纳罚款的交通违法行为记分分值转入下一记分周期。

A、正确

B、错误

正确答案：A

分析：《道路交通安全违法行为记分管理办法》规定：机动车驾驶人在一个记分周期期限届满，累积记分未满12分的，该记分周期内的记分予以清除；累积记分虽未满12分，但有罚款逾期未缴纳的，该记分周期内尚未缴纳罚款的交通违法行为记分分值转入下一记分周期。

30、驾驶机动车在高速公路上发生车辆故障或事故时，应做到“车靠边、人撤离、即报警”，避免发生二次事故。

A、正确

B、错误

正确答案：A

分析：在高速公路上发生交通事故，应当遵守两大原则：一是确保人员安全；二是预防二次事故发生。一旦发生事故，一定要做到车靠边、人撤离、即报警，避免二次伤害。车靠边：一旦发生事故后人员切记不要在高速公路上逗留，车辆能移动的，应迅速将车辆移至右侧硬路肩或者就近出口驶离。人撤离：无论车辆能不能移动，司乘人员的人身安全是最要紧的，发生事故后，应迅速转移到右侧护栏外的安全地带。即报警：撤离后，请拨打高速公路报警电话 12122。

31、这个标志是何含义？



A、过水路面

B、漫水桥

C、渡口

D、船用码头

正确答案：C

分析：渡口：用以提醒车辆驾驶人谨慎驾驶。设在车辆渡口以前适当位置。

32、已通过部分科目考试后，居住地发生变更的，可以申请变更考试地，在现居住地预约其他科目考试。

A、正确

B、错误

正确答案：A

分析：《机动车驾驶证申领和使用规定》规定：辆管理所应当按照预约的考场和时间安排考试。申请人科目一考试合格后，可以预约科目二或者科目三道路驾驶技能考试。有条件的地方，申请人可以同时预约科目二、科目三道路驾驶技能考试，预约成功后可以连续进行考试。科目二、科目三道路驾驶技能考试均合格后，申请人可以当日参加科目三安全文明驾驶常识考试。 申请人申请大型客车、重型牵引挂车、城市公交车、中型客车、大型货车、轻型牵引挂车驾驶证，因当地尚未设立科目二考场的，可以选择省（自治区）内其他考场参加考试。

申请人申领小型汽车、小型自动挡汽车、低速载货汽车、三轮汽车、残疾人专用小型自动挡载客汽车、轻型牵引挂车驾驶证期间，已通过部分科目考试后，居住地发生变更的，可以申请变更考试地，在现居住地预约其他科目考试。申请变更考试地不得超过三次。车辆管理所应当使用全国统一的考试预约系统，采用互联网、电话、服务窗口等方式供申请人预约考试。

33、驾驶机动车驶入铁路道口前减速降挡，进入道口后应怎样做？

- A、不能变换挡位
- B、可以变换挡位
- C、可换为高档
- D、停车观察

正确答案：A

分析：变档时容易熄火，万一熄火，火车来了不把你撞飞

34、在道路上发生未造成人员伤亡且无争议的轻微交通事故如何处置？

- A、保护好现场再协商
- B、不要移动车辆
- C、疏导其他车辆绕行
- D、撤离现场自行协商

正确答案：D

分析：在道路上发生未造成人员伤亡且无争议的就赶紧闪开吧，别堵路了。

35、公安机关交通管理部门扣留车辆的，不得扣留车辆所载货物。

- A、正确
- B、错误

正确答案：A

分析：《道路交通安全违法行为处理程序规定》规定：交通警察应当在扣留车辆后二十四小时内，将被扣留车辆交所属公安机关交通管理部门。公安机关交通管理部门扣留车辆的，不得扣留车辆所载货物。对车辆所载货物应当通知当事人自行处理，当事人无法自行处理或者不自行处理的，应当登记并妥善保管，对容易腐烂、损毁、灭失或者其他不具备保管条件的

物品,经县级以上公安机关交通管理部门负责人批准,可以在拍照或者录像后变卖或者拍卖,变卖、拍卖所得按照有关规定处理。

36、机动车驾驶人在一个记分周期内三次以上累积记分满 12 分,在道路交通安全法律、法规和相关知识考试合格后,应当按照规定预约参加场地驾驶技能和道路驾驶技能考试。

A、正确

B、错误

正确答案: A

分析:《道路交通安全违法行为记分管理办法》规定:机动车驾驶人在一个记分周期内三次以上累积记分满 12 分或者累积记分满 36 分的,应当在道路交通安全法律、法规和相关知识考试合格后,按照《机动车驾驶证申领和使用规定》第四十三条和第四十四条的规定预约参加场地驾驶技能和道路驾驶技能考试。考试不合格的,十日后预约重新考试。

37、遇前方路段车道减少行驶缓慢,为了有序、安全,应依次交替通行。

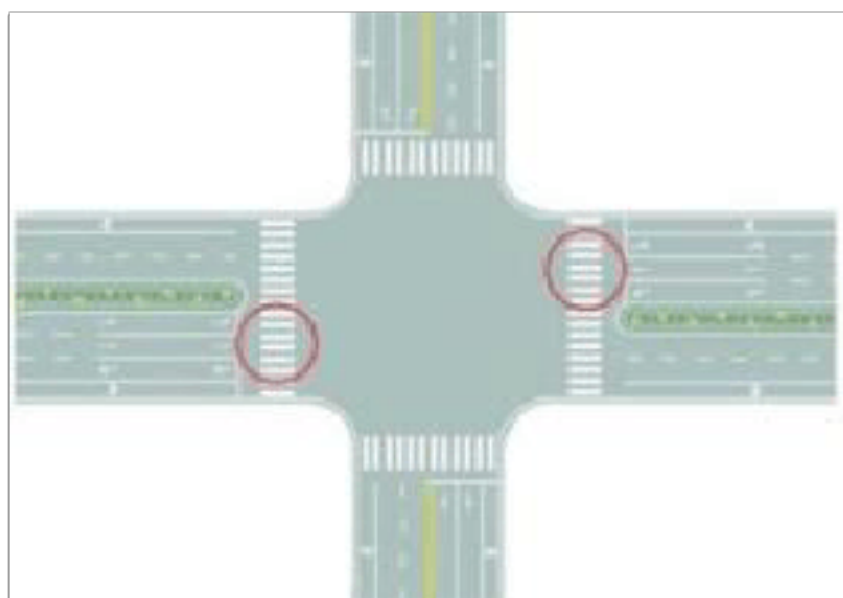
A、正确

B、错误

正确答案: A

分析:车道减少行驶缓慢,如果随便变道、加塞,会造成拥堵导致交通事故或更严重的行驶缓慢。为了保障安全,应该有序依次通行。

38、图中圈内的路面标记是什么标线?



A、路口示意线

B、停车让行线

C、减速让行线

D、人行横道线

正确答案：D

分析：人行横道 小孩子都知道的

39、驾驶汽车频繁变更车道易导致爆胎。

A、正确

B、错误

正确答案：B

分析：频繁变更车道会影响正常交通，属于驾驶陋习，容易导致道路拥堵和剐蹭、碰撞事故的发生，不会导致爆胎。

40、驾驶机动车在进出非机动车道时，最高速度不能超过多少？

A、30 公里/小时

B、40 公里/小时

C、50 公里/小时

D、60 公里/小时

正确答案：A

分析：凡是题目中没有说是在高速路上，而行驶有麻烦的都是选 30 公里，如果是高速路，题目中有“能见度小于 200 米”，答案就选 60 公里，同样的，看到“能见度小于 100 米”就选“50 米”，“能见度小于 50 米”就选“20公里”。

41、这属于哪一类标志？





A、警告标志

B、禁令标志

C、指示标志

D、指路标志

正确答案：C

分析：指示标志的颜色为蓝底、白图案；形状分为圆形、长方形和正方形。指路标志用以传递道路方向，地点，距离信息的标志。禁令标志的颜色，除个别标志外，为白底，红圈，红杠，黑图案。图案压杠。警告标志是警告车辆、行人注意危险地点的标志。警告标志的颜色为黄底、黑边、黑图案，形状为等边三角形，顶角朝上。

42、在高速公路上开车遇到图中所示的情况时，以下操作不正确的是什么？



A、应该打开雾灯、近光灯、示廓灯、前后位灯、危险报警灯光

B、能见度低，应该与同车道前车间距保持一定距离

C、减低车速，防止紧急情况下无法及时制动

D、继续维持高速行驶，防止后面车辆堵塞

正确答案：D

分析：在图中这种能见度低的情况下，保持高速行驶容易发生追尾事故。

43、机动车驾驶证被依法扣押、扣留或者暂扣期间，机动车驾驶人不得申请补发。

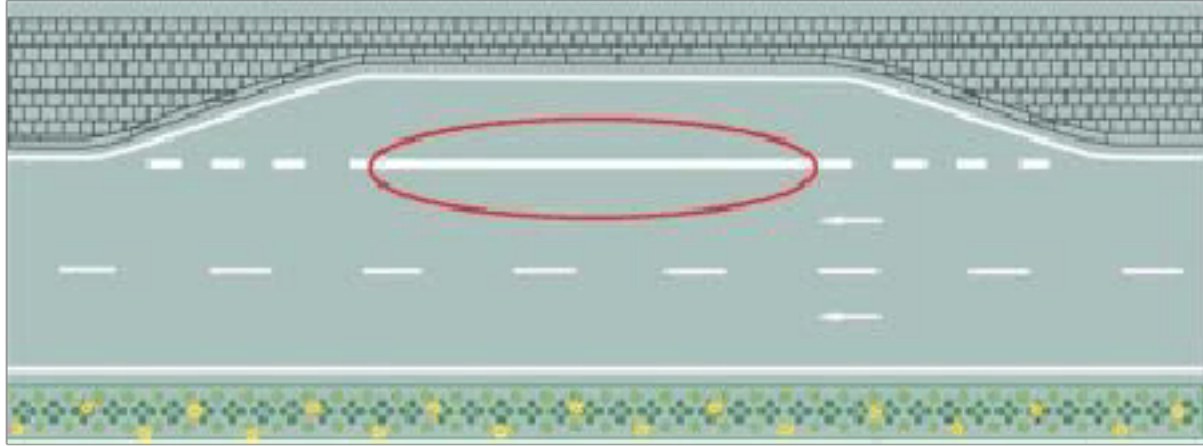
A、正确

B、错误

正确答案：A

分析：《机动车驾驶证申领和使用规定》规定：机动车驾驶证遗失的，机动车驾驶人应当向机动车驾驶证核发地或者核发地以外的车辆管理所申请补发。申请时应当确认申请信息，并提交机动车驾驶人的身份证明。符合规定的，车辆管理所应当在一日内补发机动车驾驶证。机动车驾驶人补领机动车驾驶证后，原机动车驾驶证作废，不得继续使用。机动车驾驶证被依法扣押、扣留或者暂扣期间，机动车驾驶人不得申请补发。

44、红色圆圈内标线含义是什么？



A、临时停靠站

B、港湾式停靠站

C、应急停车带

D、公交车停靠站

正确答案：B

分析：实线是港湾，虚线是公交车

45、驾驶人在超车时，前方车辆不减速、不让道，应怎样做？

A、连续鸣喇叭加速超越

B、加速继续超越

C、停止继续超车

D、紧跟其后，伺机再超

正确答案：C

分析：不让咱就别超了，安全第一。

46、机动车在发生碰撞时，安全带可以减轻驾乘人员伤害。

A、正确

B、错误

正确答案：A

分析：这个没问题，亲，不要以为安全带是装饰用的哦！

47、遇到这种情况时，中间车道不允许车辆通行。



A、正确

B、错误

正确答案：A

分析：中间车道是红灯故不允许车辆通行。

48、对驾驶拼装机动车上路行驶的驾驶人，会受到下列哪种处罚？

A、处15日以下拘留

B、依法追究刑事责任

C、处200元以上2000元以下罚款

D、吊销机动车行驶证

正确答案：C

分析：死记题：不管拼装车还是报废车，都是一样的。罚200-2000元，吊销驾照。

49、机动车驾驶人初次申请机动车驾驶证和增加准驾车型后的多长时间为实习期？

A、6个月

B、12 个月

C、3 个月

D、2 年

正确答案：B

分析：常识题

50、机动车停稳前不能开车门和上下人员。

A、正确

B、错误

正确答案：A

分析：安全第一。

51、已注册登记的机动车达到国家规定的强制报废标准的，应当向登记地车辆管理所申请注销登记。

A、正确

B、错误

正确答案：A

分析：《中华人民共和国道路交通安全法》第二章第十四条规定：应当报废的机动车必须及时办理注销登记。达到报废标准的机动车不得上道路行驶。报废的大型客、货车及其他营运车辆应当在公安机关交通管理部门的监督下解体。

52、驾驶 7 座以上载客汽车载人超过核定人数 40% 的，一次记 3 分。

A、正确

B、错误

正确答案：B

分析：《道路交通安全违法行为记分管理办法》规定，机动车驾驶人有下列交通违法行为之一，一次记 6 分：（一）驾驶校车、公路客运汽车、旅游客运汽车载人超过核定人数未达到百分之二十，或者驾驶 7 座以上载客汽车载人超过核定人数百分之二十以上未达到百分之五十，或者驾驶其他载客汽车载人超过核定人数百分之五十以上未达到百分之百的；（二）驾驶校车、中型以上载客载货汽车、危险物品运输车辆在高速公路、城市快速路上行驶超过规

以上内容仅为本文档的试下载部分，为可阅读页数的一半内容。如要下载或阅读全文，请访问：<https://d.book118.com/976043045002011010>