

上海市徐汇区七年级下学期地理解答题大全

解答题有答案含解析

1. 读非洲图完成下列问题。



(1) 填出地理事物名称：①_____（海）③_____（洋）E_____（沙漠）②_____（高原）

(2) 非洲有_____大陆之称，理由是因为_____非洲还有_____大陆之称，是因为_____

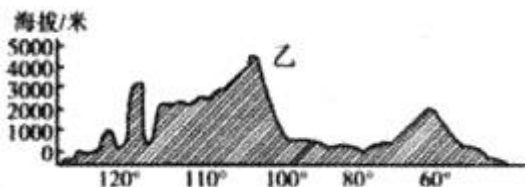
(3) 埃及是地跨_____洲和_____洲的国家，其农业生产主要分布在_____和_____。

请分析说明原因。

(4) 目前非洲的人口增长快，经济发展水平不高，生态环境破坏比较严重。请你说出解决这两个问题的两个措施。

(5) 图中D地地处“五海三洲之地”，但是争夺水资源现象却非常严重。请你简要说出该地水资源匮乏的原因。

2. 读图，完成下列各题。



(1) 两国地势起伏变化有共同之处，据图分析其共同之处_____。

(2) 著名的_____巨石成为澳大利亚西部高原上的一大奇观，发源于东部山地的澳大利亚最大的河流是_____。

(3) 两国充分利用不同的自然条件，澳大利亚大力发展养羊业，被称为“骑在羊背上”的国家；美国则实现了农业生产的区域_____化、机械化和商品化。

(4) “这里位置偏北，气候冷湿，适宜牧草生长。而且，这里是美国的制造业带，城市和人口分布密集，市场需求量大，因此畜牧业发达。”这段话描述了该国的（_____）

- A. D 棉花带 B. C 乳畜带 C. A 乳畜带 D. B 玉米带

(5) 从经济发展水平上看，两国都属于_____（发达或发展中）国家。澳大利亚矿产资源丰富，被称为“_____”的国家；20世纪90年代以来，美国的经济增长主要得益于_____产业的蓬勃发展。

(6) 甲国大部分地区地处热带和亚热带，以热带气候为主，气候分布呈_____状分布。

3. 图1为日本略图，图2为印度略图，读图完成下列问题。

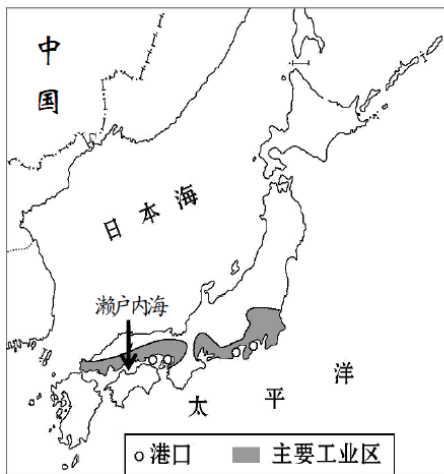


图 1

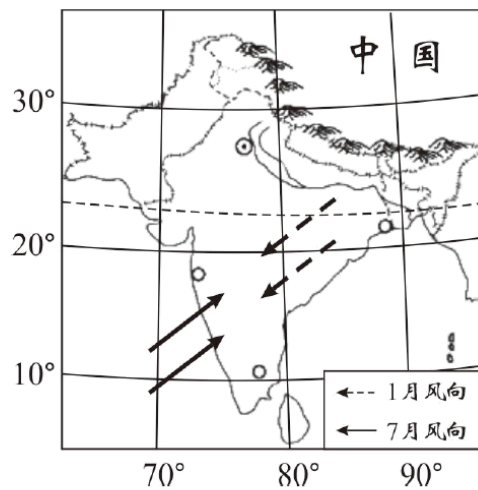


图 2

(1) 两国均与我国相邻，日本隔_____海与我国相望；印度与我国隔着_____山脉。

(2) 日本多火山、地震的原因是_____；印度水旱灾害频发的原因是_____。

(3) 日本工业主要分布在_____洋沿岸和_____海沿岸，便于发展外向型经济；印度每年承接全球服务外包市场近 1/2 的业务，被形象地称为“_____”。

(4) 日本主要面临的人口问题是_____；印度人口增长过快，造成的社会问题之一是_____。

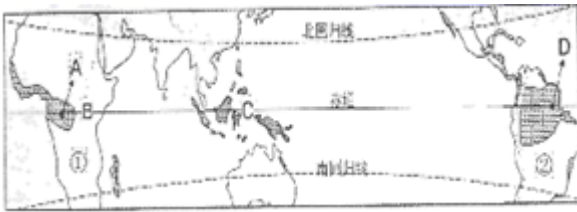
4. 读北半球某地多年月平均降水量表（单位：毫米），回答下列问题：

月份	1	2	3	4	5	6	7	8	9	10	11	12
降水	10	5	22	47	71	81	135	169	112	57	24	12

(1) 从表中所列数字分析，该地降水集中在_____月份，说明降水的季节分配是_____季降水多，_____季降水少。

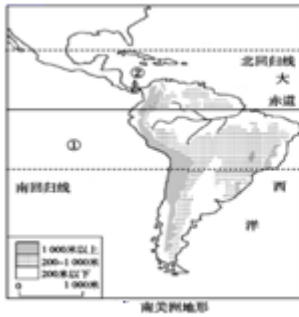
(2) 绘制一幅该地的降水柱状图，提示：横坐标为月份，纵坐标为月平均降水量。

5. 读世界某种气候分布图（图中阴影部分所示），完成下列要求。



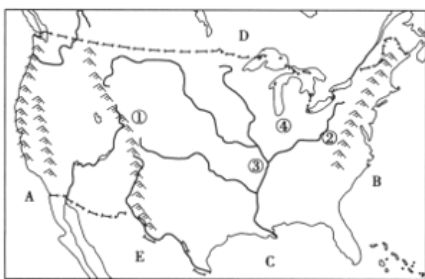
- (1) 图中所示应为_____气候，其分布规律是_____。
- (2) 世界上面积最大的盆地为 A 地所在的_____盆地，该盆地所在的气候类型和 B 地（东非高原）不相同，两地气候不同主要是由____（选填“地形”、“纬度”或“海陆”）因素引起的。
- (3) 用海洋运输的方式，从①大洲到②大洲，至少要经过_____个大洋。
- (4) D 地属于_____（国家名称），当 D 所在区域的植被人为大量破坏后，会导致_____。

6. “世界这么大，我想去美洲看看”，成为现代生活的时尚。某中学学生社团在暑期进行了环球网上模拟旅游。如图是他们搜集的资料。请结合所学地理知识，回答下列问题。

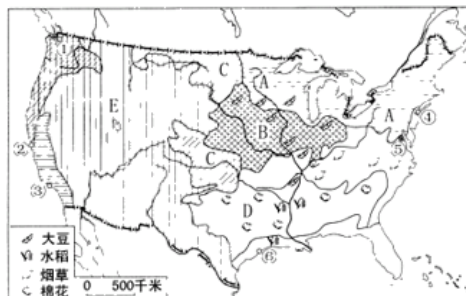


- (1) 读左图，①是_____洋，②是南、北美洲分界线_____运河。
- (2) 读左图中，有世界上面积最大的高原_____高原。其气候类型是_____气候。
- (3) 读右图，亚马孙河大致流向为自_____向_____流。注入_____洋。

7. 读美国地形图和农业带分布图，回答下列问题。



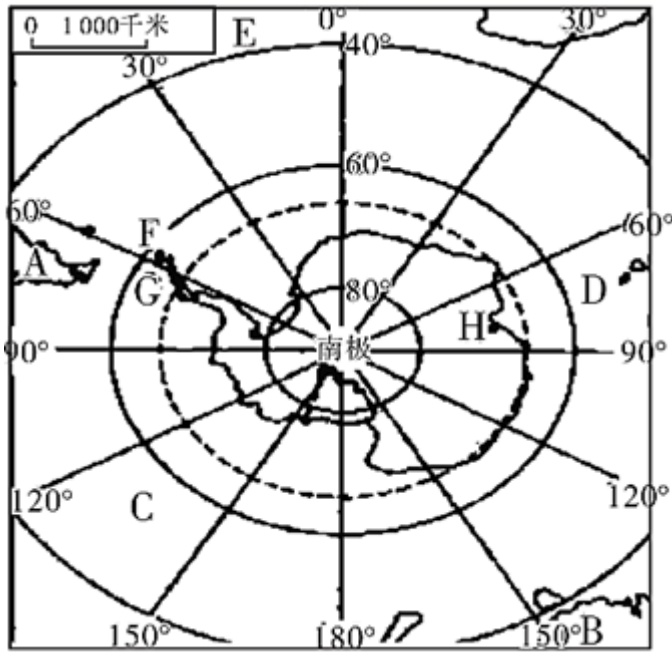
图甲



图乙

- (1) 图甲中①山脉名称_____，③河流名称_____。
- (2) 北部邻国 D _____（国家），东临海洋 B _____。
- (3) 美国的农业生产充分利用不同地区的自然条件，实现了地区生产的_____，形成了一些农业带，生产规模大。
- (4) 图乙 A 所示农业带是_____带，分布在_____地区。B 是_____带。

8. 读南极洲图，回答下列问题。



(1) 将图中字母代号所代表的地理事物名称，填在下面相应横线上：

A. _____洲； B. _____洲； D. _____洋。

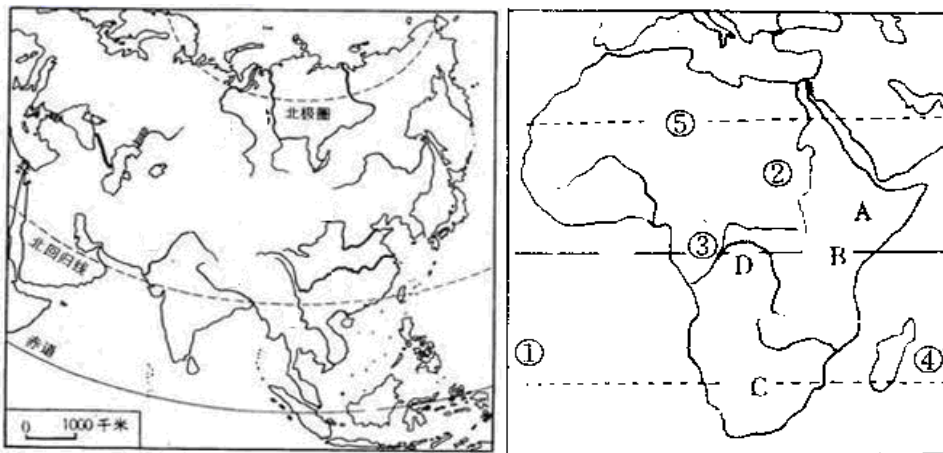
(2) 图中我国的南极考察站位于南极圈以南的是_____站。（填字母和名称）

(3) 南极洲特有的鸟类是_____。

(4) 关于南极洲的叙述，错误的是（_____）

- A. 南极洲是地球最南部的陆地
- B. 南极洲是被冰雪覆盖的高原
- C. 南极洲有丰富的矿产资源和海洋生物资源
- D. 1985年2月，中国第一个南极考察站——中山站落成

9. 读下面两幅图，回答下列问题。



(1) 受亚洲地形地势的影响，河流分布的特点是：_____

(2) 亚洲气候具有_____、_____和_____的特点。

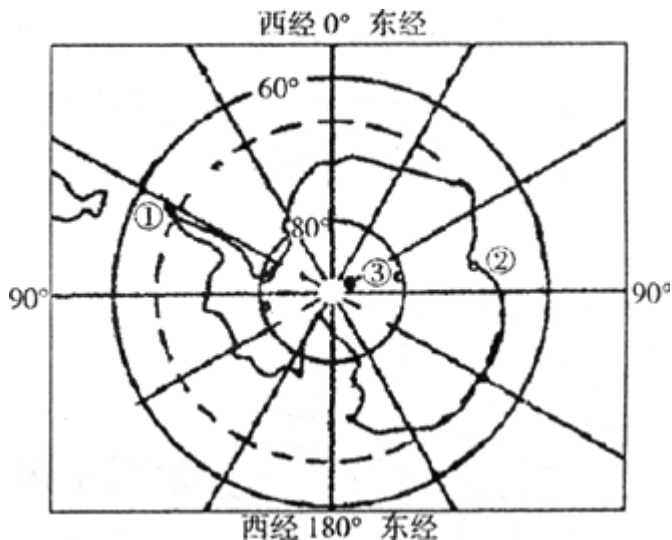
(3) ① _____洋；亚洲和非洲的分界线是_____运河。

(4) 非洲地形以_____为主。

(5) 关于非洲的叙述，正确的是 ()

- A. 位于西半球东部，地跨赤道南北
- B. 高大的山脉仅分布于大陆的东北和西南边缘
- C. 矿产资源种类多，但储量小
- D. 目前，非洲的人口自然增长率居世界各大洲之首

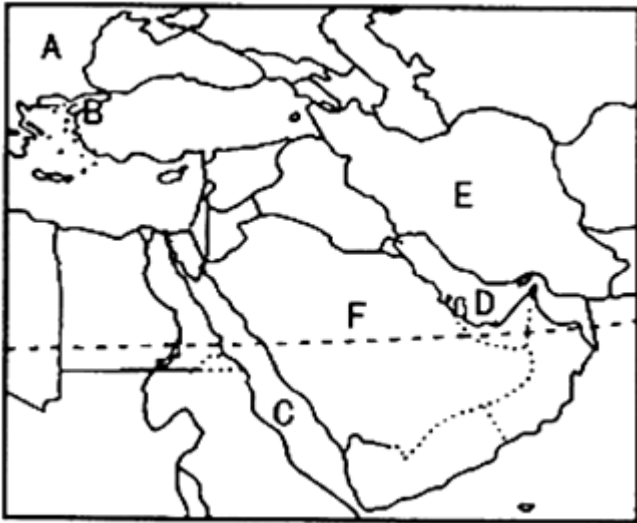
10. 读下面材料与“南极地区图”，完成下列问题。



材料：昆仑站于 2009 年 1 月 27 日胜利建成，高程 4087 米。这也是中国继长城站、中山站以来建立的第三个南极考察站。

- (1) 南极洲大部分位于____ (“低”或“中”或“高”) 纬度，地处五带中的____ 带。
- (2) 图中①②③代表我国三个科考站，其中____ 是昆仑站，没有极昼极夜现象的是____ 站。
- (3) 距离南极洲最近的大陆是____，所以有些考察队选择从此进入南极洲。
- (4) 当科考队员登上南极洲时，迎接他们的“南极小主人”(代表性动物) 是_____。
- (5) 到南极洲考察的最佳时间是 ()
 - A. 地中海气候温和多雨时
 - B. 印度盛行西南季风时
 - C. 我国学生过暑假生活时
 - D. 我们这里气温最高时
- (6) 南极洲的气候特点是____、多狂风、降水稀少。
- (7) 南极地区与北极地区相似的地方是 ()
 - A. 太阳光热资源丰富
 - B. 水力资源丰富
 - C. 都已经有人类定居
 - D. 淡水资源丰富
- (8) 南极洲上有丰富的煤炭资源与此此现象有关的是 ()
 - A. 气候变暖
 - B. 人类活动
 - C. 大陆漂移
 - D. 植被迁徙

11. 读“中东地区”图，完成下列问题。



- (1) 填出图中字母所代表的地理事物名称，A____（大洲），B____（海峡）， C____（海域）
- (2) D 是____，其沿岸地区丰富的矿产资源主要 运往东亚、____北美洲。
- (3) 国家 E 是____，中国与该国的能源矿产贸易可实现双赢。
- (4) 中东地区气候以____气候为主，____资源匮乏。
- (5) 图中 F 国家的居民主要是____，信仰____教。
- (6) 中东地区的三大主要宗教是____、____、____、它们共同的圣城是____。

12. 读下列材料，回答问题。

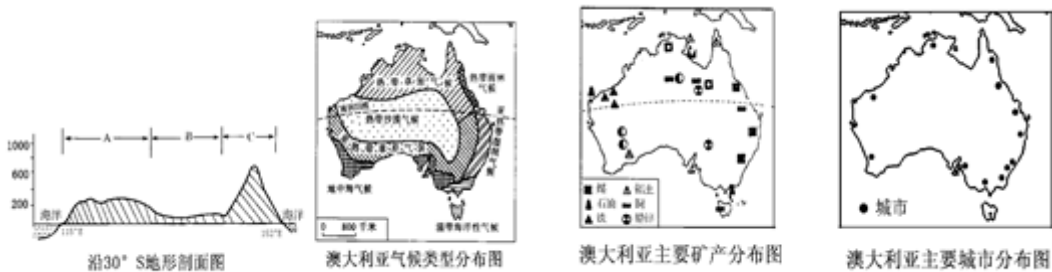
欧洲西部地区是指欧洲的西半部，北临北冰洋，西临大西洋，南临地中海，面积约 500 万平方千米，人口 5 亿多。包括英国、爱尔兰、荷兰、比利时、卢森堡、法国、西班牙、葡萄牙、波兰、冰岛、摩纳哥等。地形以平原为主，次为高原；山地面积较小，主要分布于英国西北和法国东南。欧洲西部地势低平，平原比例大，重要平原有波德平原、西欧平原；北部和南部山地分布广，北有斯堪的纳维亚山脉，南有阿尔卑斯山脉。勃朗峰 4810 米，是欧洲西部最高峰。

平原地形适宜发展畜牧业和种植业。由于温带海洋性气候温暖湿润，西欧适宜多汁牧草生长，因此乳畜业发达。大多数地方发展混合农业，种植小麦的同时发展乳畜业，形成互补。欧洲人饮食以小麦、乳肉产品为主，也是跟农业结构有关。欧洲西部人口稠密，国家众多，绝大部分是发达国家。欧洲联盟是当今世界一体化程度最高的区域政治、经济集团组织。其前身是欧洲共同体。现在有 27 个成员国。

- (1) 欧洲西部是世界上____国家最集中的地区。
- (2) 欧洲西部的国民经济支柱是____业。
- (3) 欧洲西部大多数国家使用的统一货币是____
- (4) 欧洲西部畜牧业发达，被称为“绿色金子”的是____
- (5) 下列国家与首都对应不正确的是（____）

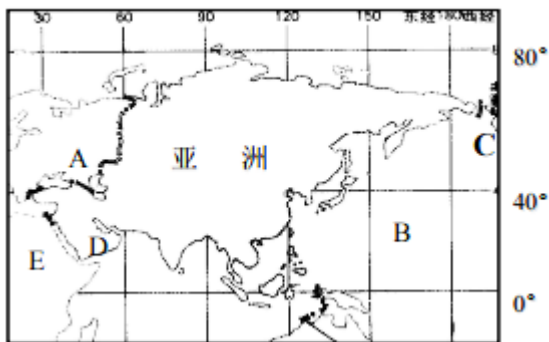
- A. 德国—柏林 B. 法国—马德里
C. 英国—伦敦 D. 意大利—罗马

13. 读澳大利亚图，回答下列问题：



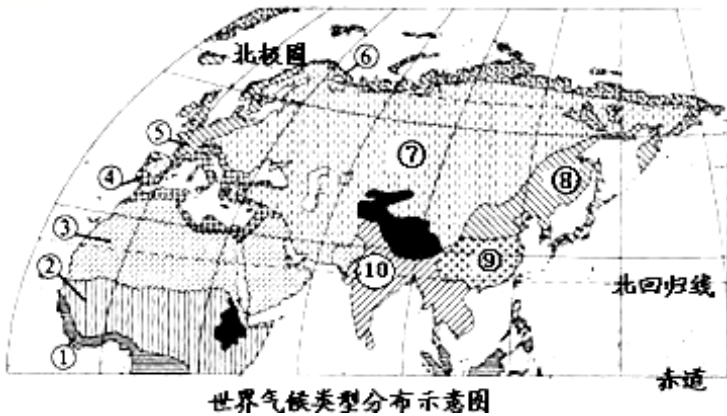
- (1) 根据图中信息可以判断澳大利亚大陆地形分布特征是_____。
- (2) 澳大利亚气候分布特点是_____。
- (3) 澳大利亚绵羊养殖数量和羊毛出口量均居世界首位，被誉为“_____”。
- (4) 从图上可看出澳大利亚占重要地位的两种矿产是_____，试描述这两种矿产的分布特点_____，试分析这样分布的好处_____。
- (5) 澳大利亚的人口与城市主要分布在_____，简要分析其原因：_____。
- (6) 国从澳大利亚进口的主要矿产是_____，采用的运输方式主要是_____。

14. 读图，回答下列问题。



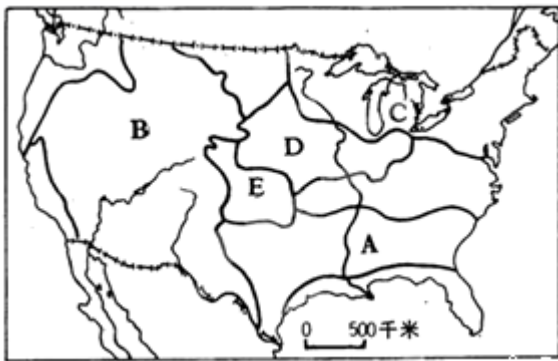
- (1) 写出下面地理事物的名称
 A. _____洲 B. _____洋 C. _____海峡 D. _____半岛
- (2) 亚洲与E洲的分界线是_____
- (3) 亚洲的河流大多数发源于中部山地、高原，呈放射状流向周边海洋，由此可以判断亚洲的地势特点是_____。
- (4) 下面哪一项不能说明亚洲是世界第一大洲_____
 A. 世界上跨纬度最广的大洲 B. 世界上跨经度最广的大洲
 C. 东西距离最长的大洲 D. 世界上面积最大的大洲
- (5) 下列叙述中，不属于亚洲气候特征的是_____
 A. 气候复杂多样 B. 季风气候显著
 C. 温带大陆性气候分布广 D. 气候带东西延伸并且呈明显的对称性

15. 读世界气候类型分布示意图，回答下列问题。



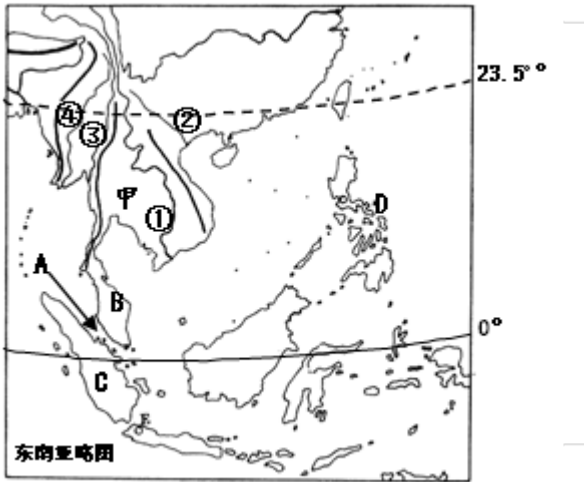
- (1) ⑥位于北极圈以北，它属于_____（热、温、寒）带的气候。
- (2) 写出气候类型名称：⑤_____、⑦_____、⑧_____、⑨_____。
- (3) 请写出图中属于热带气候类型的序号：_____。

16. 读美国农业带分布图，完成下列问题。



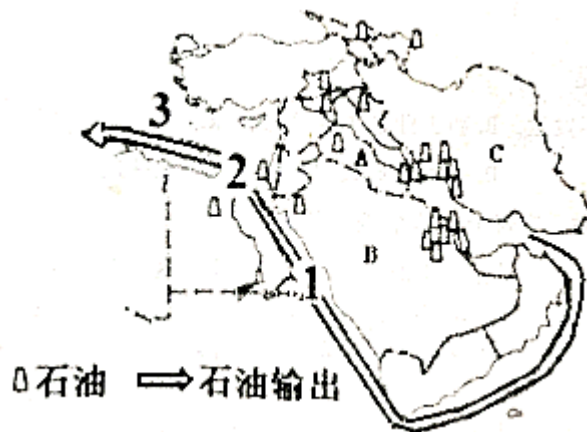
- (1) 写出图中字母代表的主要农业带名称：
 A _____ B _____ C _____ D _____ E _____。
- (2) 美国农业实现了地区生产_____。其好处是_____；_____。
- (3) 归纳 C 农业带形成的主要因素：_____；_____。
- (4) 美国农业的发展得益于有充足的灌溉水源，灌溉水源主要来源于_____和_____。
- (5) 美国的首都是_____。

17. 读东南亚略图，完成下列各题。



- (1) 河流①、②、③、④中，流经国家最多的河流是_____。
- (2) 半岛：甲是_____半岛。岛屿：C是_____岛。
- (3) B半岛和C岛屿之间的海峡A是_____海峡，它是_____洋和_____洋之间的海上交通要道。
- (4) D国是世界上最大的_____生产国。

18. 读中东地区图，回答问题



- (1) 中东处在联系_____洲、欧洲和非洲，沟通大西洋和_____洋的交通枢纽地位。
- (2) 写出图中字母所代表的产油国 A_____、B_____、C_____。
- (3) 中东石油资源主要分布在_____湾及其沿岸地区。
- (4) 图中运往欧洲西部的石油外运航线经过的依次是 1_____海、2_____运河和 3_____海。

19. (6分) 读 98 年日本进口主要工业原料所占百分比表和日本主要工业带分布图，回答：

名称	石油	天然气	煤炭	棉花	铜矿石	木材	铁矿石
百分比	99.7	96.5	95.2	100	99.8	52	100



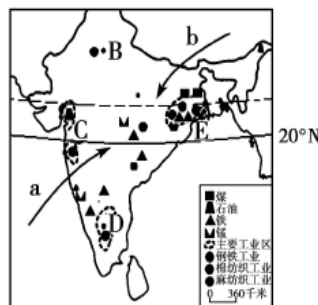
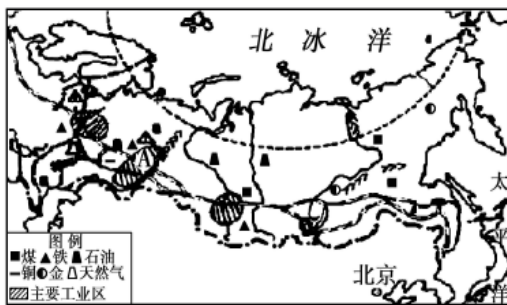
(1) 日本 100% 的棉花需要进口，原因是什么？

(2) 日本森林覆盖率高达 67%，除了富士山顶之外，几乎所有的山麓都被森林覆盖。尽管如此，却是世界上最大的木材进口国之一。试说明原因。

(3) 图中反映日本工业分布有什么特点？这样分布的原因是_____。

(4) 为了解决经济发展中面临的诸多问题，日本采取了扩大海外投资，建立海外生产与销售基地的发展策略。日本在海外投资建厂的做法会给日本带来什么好处？

20. (6 分) 读俄罗斯与印度简图，回答下列问题。



(1) A 是俄罗斯著名的_____工业区；城市 D 为印度软件外包业务的发源地_____。

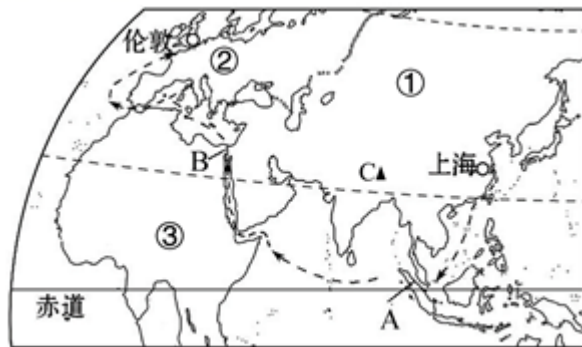
(2) 俄罗斯温带大陆性气候分布广，该气候的特征是_____；印度是典型的热带季风气候分布区，一年之中有旱季和雨季之分，每年 6—9 月盛行_____季风(填箭头代号 a 或 b 及风向名称)，降水丰沛，为雨季。

(3) 印度因软件外包业务发达，被称为“_____”；结合所学知识，分析俄罗斯被称为“世界加油站”的原因？

(4) 河流是俄罗斯重要的地形分界线，①为_____河，其西侧地形区是_____；印度是主要的粮食生产国，分布在恒河上游和德干高原西北部的粮食作物是_____。

(5) 俄罗斯和印度在工业分布上的相同点是_____。

21. (6 分) 暑假时，上海中学生小明随家人搭乘轮船去伦敦看英超足球比赛。轮船航线如下图所示，读图完成问题。



- (1) 轮船从上海出发，依次经东海、台湾海峡、南海、A_____海峡、印度洋、红海，B_____运河、地中海、大西洋到达伦敦。
- (2) 暑假期间，上海正常情况下降水量属于_____（“较多”、“较少”、“一般”）的季节。
- (3) 途经 B 运河时，发现有大量的油轮同行，这些油轮中所装石油主要来自中东地区，该地区的石油主要分布在_____湾及其沿岸地区，请用斜线在图中标出该海湾的位置。
- (4) 世界最高峰 C 是_____。
- (5) ①②③三个大洲中，发达国家数量最多、分布最集中的是_____。（填代号）

22. (8 分) 结合俄罗斯地图和美国本土地图，完成下列问题。



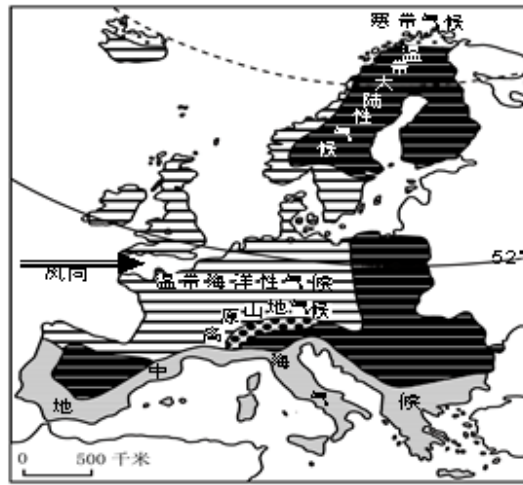
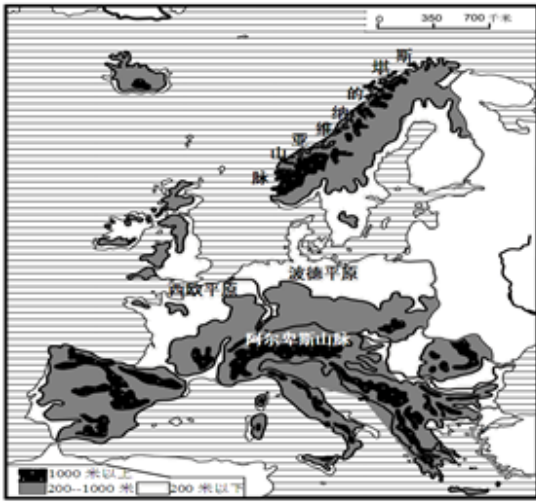
俄罗斯地图



美国本土地图

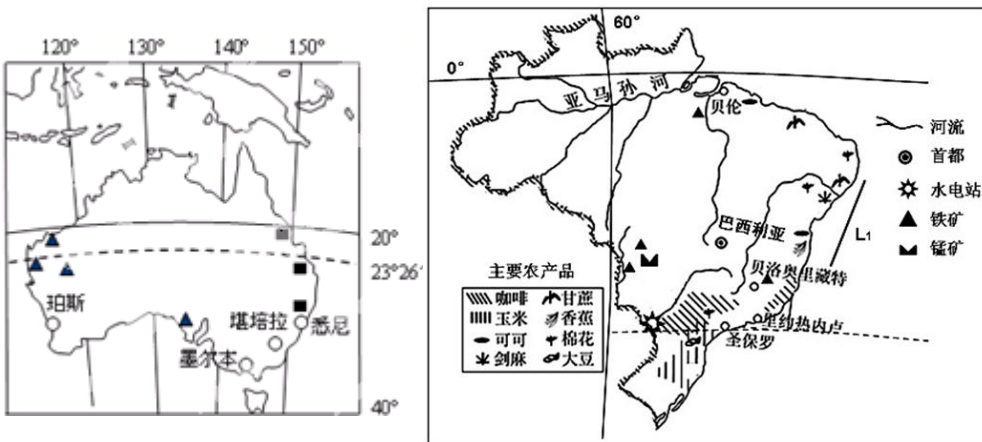
- (1) 俄罗斯地跨①_____洲和欧洲，其山脉②_____为①大洲和欧洲的分界线，但历来被公认为欧洲国家。
- (2) 摩尔曼斯克是_____洋沿岸的重要港口，每年冬季有一段时间会出现_____（填“极昼”或“极夜”）现象。
- (3) 美国北面邻国 A 是_____；两国之间有世界最大的淡水湖是_____。
- (4) 目前，美国经济增长主要得益于高新技术产业的发展，位于城市 D_____东南的硅谷，为美国高新技术产业中心；由俄罗斯的海参崴向东乘飞机到达 D 城，必须飞越的大洋 E 是_____。

23. (8 分) 读图，完成以下小题。



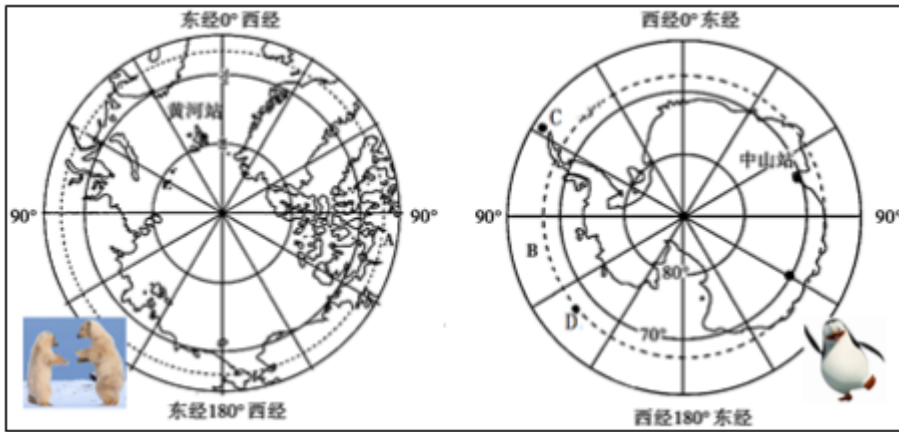
- (1) 图示区域位于_____洲西部，从经济发展水平看，多为_____国家；
- (2) 由左图，该区域地形以_____为主，呈东北——西南走向的山脉是_____；
- (3) 由右图可知，_____（重要纬线）穿过本区北部，在夏至日该线以北可在峡湾中观赏午夜太阳是由于此时出现了_____（极昼/极夜）现象；
- (4) 该区域海岸线曲折，深受来自_____洋的西风影响，_____气候最为典型，多云雾阴雨天气，适合优质牧草生长，有利于发展_____业；该区域地中海沿岸容易发生旱灾的是_____季。

24. (10分) 读澳大利亚、巴西两国略图，完成问题。



- (1) 图中甲、乙两国都被_____线（重要纬线）穿过，两国的人口和城市都集中分布于_____部，这里的气候温暖湿润，适宜人类居住；
- (2) 甲国的矿产品主要销往_____（大洲）国家；
- (3) 甲、乙两国中，从经济发展水平看属于发达国家的是_____；
- (4) 乙国中 A 平原分布着世界上面积最大的_____（植被）；甲国天然草场广阔，是世界上饲养_____数量最多的国家之一，素有“骑在羊背上的国家”之称。

25. (10分) 读极地地区图完成下列问题。



- (1) 判断下列字母所表示的大洲，大洋名称:A 为_____洲，B 为_____洋。
- (2) C 为_____ (科学考察站)，我国在北极地区建立的科学考察站是_____。
- (3) 根据图中哪些信息可以区分北极地区和南极地区？
- (4) 我国科学考察队去南极考察一般选择在 1~2 月抵达南极洲，简要分析原因。

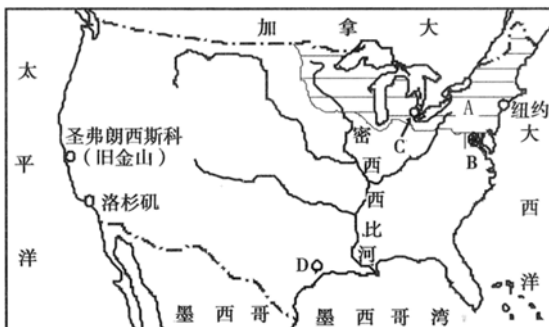
26. (12 分) 美国的农业

20 世纪 40 年代后，美国农业已实现了机械化，战后朝着现代化、专业化和高科技化的方向发展。美国是农业高度发达的国家，农业现代化水平居世界前列。

美国的农业从生产到销售的各个环节，都由机械作业。美国的劳动生产率居世界领先地位，从事农业的人口不到 3%，一个劳动力可以养活 76 个人，比现在世界上一个劳动力平均供养 5 个人高出 10 多倍。目前美国拥有拖拉机 438 万台，收割机 120 万台，农用卡车 318 万辆及农用飞机 1 万架，实现了全盘机械化。美国每年施放的化肥达 5 千多万吨，平均每亩达 25 千克，均为复合、高效化肥。美国也是世界上消费农药最多的国家，每年达 60 万吨。实现良种化是美国农业高产的重要原因。美国还根据各地自然条件 and 市场需要，实现了地区生产专门化，如玉米带、棉花带、乳畜带等。农业专门化便于充分利用各地区的自然条件和自然资源优势，大规模使用农业机械，并广泛应用现代科学技术，提高农业生产水平。

- (1) 美国从事农业生产的人口很少，为什么农产品产量很高？
- (2) 我国应从美国农业生产中借鉴些什么？

27. (12 分) 读下列图文材料，回答问题。



以上内容仅为本文档的试下载部分，为可阅读页数的一半内容。如要下载或阅读全文，请访问：<https://d.book118.com/976125232150010130>