


一年级下册数学解决问题 100 道

一. 解答题(共 100 题, 共 533 分)

1. 小丁丁有 8 本故事书, 5 本科技书, 一共有多少本书?
2. 一共有 12 人去游玩, 到了 9 人, 还有几人没到?



列式: $\square \bigcirc \square = \square$ (人)

3. 小兔哥哥拔了 14 个萝卜, 小兔妹妹比小兔哥哥少拔了 8 个。
 - (1) 小兔妹妹拔了多少个萝卜?
 - (2) 一共拔了多少个萝卜?
4. 操场上跳绳的有 15 人, 踢足球的有 7 人, 打篮球的有 9 人。
 - (1) 打篮球和踢足球的一共有多少人?
 - (2) 跳绳的女生有 6 人, 男生有多少人?
5. 幼儿园大班有小朋友 30 人, 小班的人数 12 人。要给他们每人分 1 个苹果, 够不够?



6.  要给下面每个小朋友送一份礼物, 还差几份礼物?



$$\square \bigcirc \square = \square \text{ (份)}$$

7. 小红一分钟做了 11 道题，小丽一分钟做了 8 道题，小红比小丽多做几道？

8. 蝴蝶和鸽子一共有多少只？



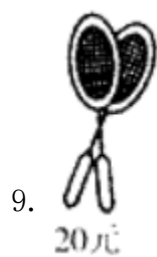
22 只



9 只

$$\square \bigcirc \square = \square \text{ (只)}$$



答：蝴蝶和鸽子一共有（ ）只。




(1) 买一副羽毛球拍和一副乒乓球拍，需要多少钱？

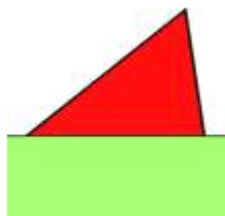
(2) 付给售货员 100 元，应找回多少元？

(3) 你还能提出什么问题?

10. 苏苏和晓晓去摘苹果, 苏苏摘了 13 个, 如果她给晓晓 4 个, 两人的苹果就一样多了, 你知道晓晓摘了多少个苹果吗?
11. 一共有 12 个西瓜, 卖掉一些后还剩 5 个, 已经卖掉了多少个?
12. 动物园里有大猴 8 只, 有小猴 18 只, 小猴比大猴多多少只?
13. 小敏有 1 元 7 角, 买一袋小金鱼要 2 元, 小敏的钱够吗? 还缺多少?
14. 美术小组有 16 人, 音乐小组有 7 人, 音乐小组和美术小组一共有多少人?
15. 树上原来有 25 只小鸟, 先往东边飞走 8 只, 后又往西边飞走 15 只, 一共飞走了多少只?
16. 作业一共要写 16 页, 小明写了 7 页, 请问他还需要写多少页?
17. 李阿姨拿了 14 个 , 分给小朋友 8 个, 阿姨还剩多少个  ?



18. 商店进来  玩具 13 只, 卖出 8 只, 现在还有多少只没卖?
19. 我要洗 58 件衣服, 其中有 30 件上衣, 已经洗了 8 件, 还有多少衣服没有洗?
20. 下图的图形被遮住了下半部分, 猜猜这是一个什么图形?



21. 妈妈买来 11 个苹果, 吃了一些后, 还剩 5 个, 吃了多少个?
22. 操场上有 15 人踢球, 跳绳的比踢球的多 8 人。跳绳的人有多少人。



15 人

? 人



23. 小朋友做纸花, 小亚和小巧各做了 20 朵, 小丁丁做了 15 朵, 他们一共做了几朵纸花?
24. 有 20 名运动员和 6 名教练, 一箱矿泉水共有 24, 每人 1 瓶, 够吗?

25. 逛超市。



3元5角



1元2角






5元



3元

(1) 买一瓶  和一根  一共需要多少钱？

(2) 一盒  比一瓶  便宜多少钱？


(3) 买一个 ，付给售货员 10 元，应找回多少钱？

(4) 你还能提出什么数学问题？

26. 小明有 18 枝彩色笔，小刚借走了 9 支，小明还有几支？

27. 萝卜有 12 筐，土豆比萝卜少 3 筐。土豆有多少筐？

28. 一把椅子配一张桌子，现有 17 把椅子，还缺几张桌子？



$$\square \bigcirc \square = \square \text{ (张)}$$

29. 停车场停了 50 辆自行车，又推来了 9 辆，一共有多少辆？

30. 青青练习毛笔字，已经写了 36 个，还剩下 6 个没写，她一共要写多少个毛笔字？

$$\square \bigcirc \square = \square \text{ (个)}$$

答：她一共要写（ ）个毛笔字。



31.

80 元

43 元

9 元

(1) 书比录音机便宜多少元？

答：书比录音机便宜（ ）元。

(2) 小明买遥控车找回 7 元钱，小明付了多少钱？





答：小明付了（ ）元钱。

32. 小小商店。

衬衣 56 元 帽子 12 元 裤子 67 元 鞋 20 元

(1) 爸爸给小明买了一顶帽子和一双鞋，一共用了多少钱？

(2) 爸爸买一件衬衣，付出 50 元，还差多少钱？


33.  25 个，  10 个，  比  多几个？

34. 明明有 32 颗弹珠，他拿出 5 颗送给了小胖。他还剩下几颗弹珠？



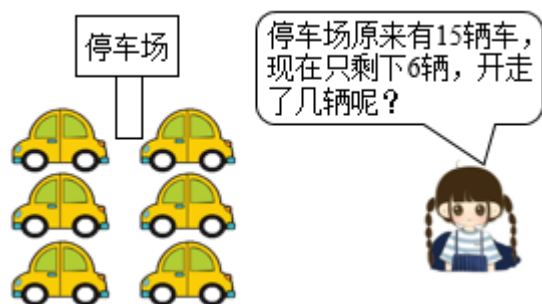
35. 饲养员养了 25 只白兔，又养 8 只黑兔，共养兔多少只？
 36. 小红有 12 个玩具，给了小明 4 个，小红自己还剩下多少个？
 37. 4 个大人带 13 个小朋友去公园玩，小男孩儿有 7 人，小女孩儿有几人？
 38. 看图列算式。

15 只小鸭去游泳，又来了 8 只，游走了 14 只，河里还有几只？



$$\square \bigcirc \square \bigcirc \square = \square \text{ (只)}$$

39. 解答题。



$$\square \bigcirc \square = \square \text{ (辆)}$$

答：开走了（ ）辆。

40. 妈妈买了 14 个苹果，小明吃了 5 个，请问还剩下几个？
 41. 小明家有 16 只鸡和 8 只鸭，公鸡有 9 只，母鸡有多少只？
 42. 买一本书要 5 元 5 角，一瓶酱油要 4 元 5 角，买这两样一共要多少元钱？

43. 小猴摘桃。



送走一筐后，小猴子还剩多少个桃？

_____ = _____ (个)

44. 13 个小朋友排成一队做操，排在明明前面的有 4 人，排在明明后面的有几人？


45. 学校举行运动会，赛跑的学生有 17 人，跳高的同学有 6 人，赛跑和跳高的学生一共有多少人？

46. 妈妈买了一箱苹果，她付给售货员 1 张 50 元和 1 张 20 元，找回了 3 元 4 角，买苹果花了多少钱？

47. 兰兰有 23 本连环画，借给同学一些后，还剩 8 本。借给同学多少本？

48. 3 路公共汽车上有 42 人，停靠一个站后下去 10 人，又上来 8 人。公共汽车上现在有多少人？

49. 一个玩具飞机标价 15 元 4 角。小强的口袋里有 1 个 10 元的，2 个 2 元的，3 个 5 角的钱，小强能买到这架飞机吗？

50. 停车场有 20 辆 ，开走了 5 辆，还剩多少辆？

51.



(1) 唱歌的和拉琴的一共有多少人？

$\square \bigcirc \square = \square$ (人)

(2) 打鼓的有几人?

$$\square \bigcirc \square = \square \text{ (人)}$$

(3) 你还能提出什么数学问题? 并解答。

52. 花花带了 56 元钱买了一个 ，用去 20 元，应找回多少元?

53. 15 本作业本分给小东和小华，小东分得 8 本，小华分得多少本?

54. 小林和小云投飞标，小林投中 25 次，小云投中 20 次。

(1) 小林比小云多投中多少次?

(2) 两人一共投中多少次?


55. 盘子里原有 20 块蛋糕，吃了 7 块，送给别人 8 块，还剩下几块?

56. 正方形的边长都相等吗? 长方形的边长又是什么关系?

57. 一副乒乓球拍 32 元，王老师买一副这样的球拍，可以怎样付钱?



58. 解决生活中的问题。



一盒笔多少钱?

59. 小明和小红共拾废塑料瓶 85 个，小红拾了 30 个。小明拾了多少个？
60. 小青要练习写 16 个毛笔字，还剩下 7 个字没有写，他已经写了几个字？
61. 一辆 34 个座位的大巴车，在车站上车了 30 人，还有多少个空座位？
62. 池塘里有 15 只鸭子，有 9 只是白鸭子。游走了 8 只，池塘里还有多少只鸭子？

$$\square \bigcirc \square = \square \text{ (只)}$$

答：池塘里还有（ ）只鸭子。

63. 逛超市。



①5 元



②10 元



③22 元



④20 元

(1) 买①和④玩具一共需要多少元？

(2) 你还能提出其他什么数学问题，并列式解答。

64. 小兰做红花和黄花一共 15 朵，红花有 9 朵，黄花有几朵？
65. 妈妈带了 15 元钱，买了  用了 7 元，剩下的正好买了一辆



你能算出



花多少钱吗？

66. 小兰、明明、佳佳看一本相同的书。

以上内容仅为本文档的试下载部分，为可阅读页数的一半内容。如要下载或阅读全文，请访问：

<https://d.book118.com/976135042222010132>