

花生十三·授课



2013~2022 年国考·判断推理—图推部分考情分析 .....	1
☆考点一：背景图类 .....	2
☆考点二：对称类 .....	4
☆考点三：分割图类 .....	5
☆考点四：圆提示 .....	6
☆考点五：笔画数提示 .....	7
☆考点六：位置关系 .....	8
☆考点七：定性分析与定量分析 .....	10
☆考点八：元素标记 .....	12
☆考点九：立体展开图 .....	12

☆考点十：立体截面图/透视图/立体拼合 .....	13
<b>2013~2022 年国考·判断推理一类比部分考情分析 .....</b>	<b>15</b>
☆考点一：单一逻辑关系 .....	15
☆考点二：复合逻辑关系 .....	18
☆考点三：语义和语法关系 .....	19
☆考点四：本质思维和常规思维 .....	20

2013~2022 年国考·判断推理—逻辑部分考情分析 .....	22
☆考点一：归因类 .....	23
☆考点二：一般质疑类 .....	26
☆考点三：支持类 .....	27
☆考点四：前提假设类 .....	28
☆考点五：解释说明类 .....	29
☆考点六：推出类 .....	29
☆考点七：分析类 .....	31
☆考点八：一拖五 .....	32

# 2013~2022 年国考 · 判断推理—图推部分考情分析

---

---

## // 十大高频考点 //

---

---

### ☞ 考点一：背景图类 (9 道题)

——数量 (1 道题)、移动 (1 道题)、部分数 (2 道题)、笔画数 (1 道题)、对称 (3 道题)、叠加 (1 道题)

### ☞ 考点二：对称类 (11 道题)

——对称性质 (2 道题)、对称轴数量 (1 道题)、对称轴方向 (4 道题)、对称轴过点过线 (3 道题)、对称轴位置关系 (1 道题)

### ☞ 考点三：分割图类 (6 道题)

——相似图形 (3 道题)、分割线条数/性质 (3 道题)

### ☞ 考点四：圆提示 (6 道题)

——圆上点 (5 道题)、圆内点 (1 道题)

### ☞ 考点五：笔画数提示 (8 道题)

### ☞ 考点六：位置关系 (16 道题)

——移动 (6 道题)、叠加 (8 道题)、连接方式 (1 道题)、方向 (1 道题)

### ☞ 考点七：定性分析与定量分析 (14 道题)

——整体部分 (1 道题)、封闭开放 (1 道题)、曲直 (2 道题)

——曲线数量 (2 道题)、面数量 (5 道题)、直角数量 (2 道题)、元素数量 (1 道题)

☞ 考点八：元素标记（5 道题）

☞ 考点九：立体展开图（12 道题）

☞ 考点十：立体截面图/透视图/拼合（23 道题）

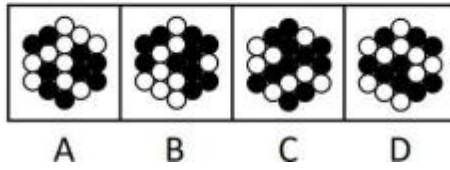
——立体截面图（9道题）、立体透视图（3 道题）、立体拼合（11 道题）

☆考点一：背景图类

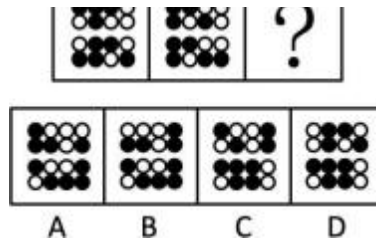
团 涉及考点：

数量、移动、部分数、笔画数、对称、叠加

1. (2022 年 64%) 从所给的四个选项中，选择最合适的一个填入问号处，使之呈现一定的规律性：

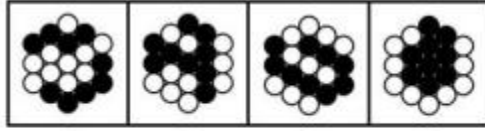


2. (2022 年 61%) 从所给的四个选项中，选择最合适的一个填入问号处，使之呈现一定的规律性：



3. (2022 年 75%) 从所给的四个选项中，选择最合适的一个填入问号处，使之呈现一定的规律性：





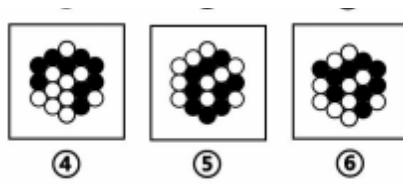
A

B

C

D

4. (2021 年 66%) 把下面的六个图形分为两类，使每一类图形都有各自的共同特征或规律，分类正确的一项是：



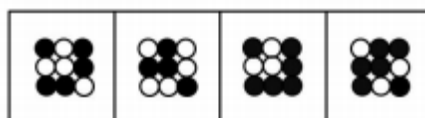
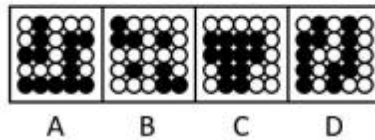
A. ①③④ , ②⑤⑥

B. ①③⑤ , ②④⑥

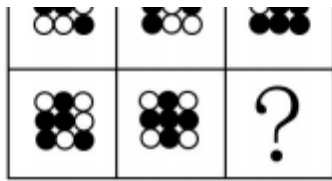
C. ①②⑥ , ③④⑤

D. ①④⑥ , ②③⑤

5. (2021年 56%) 从所给的四个选项中，选择最合适的一个填入问号处，使之呈现一定的规律性：



6. (2020 年 78%) 从所给的四个选项中，选择最合适的一个填入问号处，使之呈现一定的规律性：

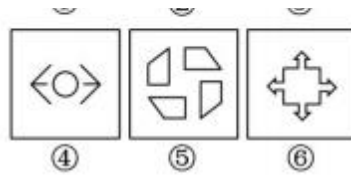


☆考点二：对称类

团 涉及考点：

对称性质、对称轴数量、对称轴方向、对称轴过点过线、对称轴位置关系

7. (2014 年 86%) 把下面的六个图形分为两类，使每一类图形都有各自的共同特征或规律，分类正确的一项是：



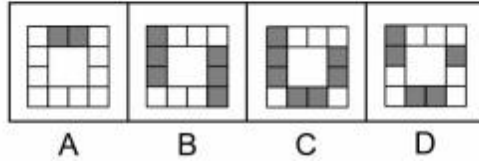
- A. ①③④ ， ②⑤⑥  
 B. ①③⑤ ， ②④⑥  
 C. ①②⑥ ， ③④⑤  
 D. ①④⑥ ， ②③⑤

8. (2015 年 64%) 把下面的六个图形分为两类，使每一类图形都有各自的共同特征或规律，分类正确的一项是：

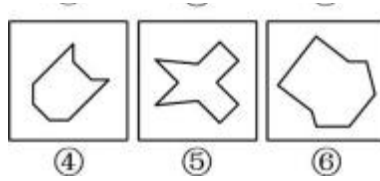


- A. ①⑤⑥ ， ②③④  
 B. ①③⑤ ， ②④⑥  
 C. ①②③ ， ④⑤⑥  
 D. ①②⑤ ， ③④⑥

9. (2021年 68%) 从所给的四个选项中，选择最合适的一个填入问号处，使之呈现一定的规律性。



10. (2022 年 78%) 把下面的六个图形分为两类，使每一类图形都有各自的共同特征或规律，分类正确的一项是：



- A. ①②⑤ , ③④⑥
- B. ①③④ , ②⑤⑥
- C. ①⑤⑥ , ②③④
- D. ①②④ , ③⑤⑥

11. (2018 年43%) 从所给的四个选项中，选出最合适的一个填入问号处，使之呈现一定的规律性：

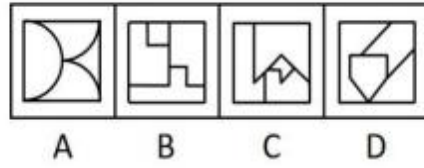


☆考点三：分割图类

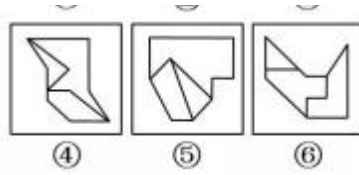
团 涉及考点：

相似图形、分割线条数/性质

12. (2022 年 79%) 从所给的四个选项中，选择最合适的一个填入问号处，使之呈现一定的规律性：



13. (2020 年 54%) 把下面的六个图形分为两类，使每一类图形都有各自的共同特征或规律，分类正确的一项是：



A. ①④⑥ , ②③⑤

B. ①③⑤ , ②④⑥

C. ①②⑥ , ③④⑤

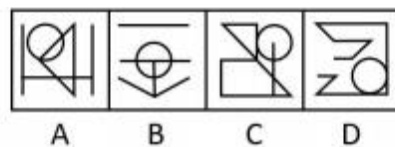
D. ①③④ , ②⑤⑥

☆考点四：圆提示

团 涉及考点：

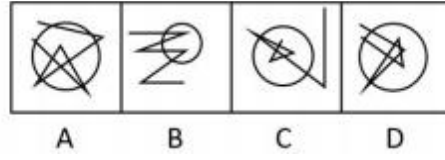
圆内点、线、面；圆上点；圆内外关系

14. (2021 年 90%) 从所给的四个选项中，选择最合适的一个填入问号处，使之呈现一定的规律性：





15. (2018 年 59%) 从所给的四个选项中，选出最合适的一个填入问号处，使之呈现一定的规律性：



16. (2016 年 83%) 把下面的六个图形分为两类，使每一类图形都有各自的共同特征或规律，分类正确的一项是：

一项是：



A. ①②④ , ③⑤⑥

B. ①②⑤ , ③④⑥

C. ①③④ , ②⑤⑥

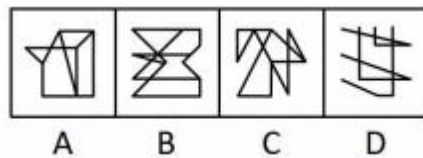
D. ①③⑥ , ②④⑤

☆考点五：笔画数提示

团 涉及考点：

快速识别多端点、T、分离、特殊字符（日、田、☆）

17. (2020 年 70%) 从所给的四个选项中，选择最合适的一个填入问号处，使之呈现一定的规律性：



18. (2016 年 69%) 把下面的六个图形分为两类, 使每一类图形都有各自的共同特征或规律, 分类正确的

一项是:



A. ①④⑥ , ②③⑤

B. ①③⑤ , ②④⑥

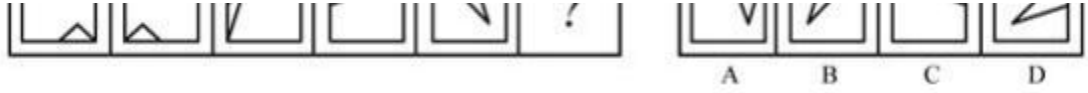
C. ①②⑤ , ③④⑥

D. ①②④ , ③⑤⑥

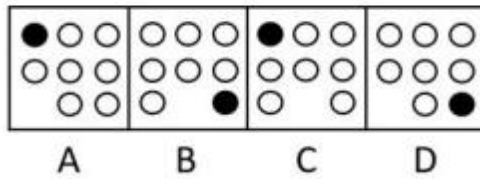
☆考点六：位置关系

团 涉及考点：移动、叠加、连接方式、方向


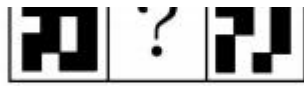
19. (2019 年 70%) 从所给的四个选项中，选择最合适的一个填入问号处，使之呈现一定的规律性：



20. (2017 年89%) 从所给的四个选项中，选出最合适的一个填入问号处，使之呈现一定的规律性：



21. (2022 年87%) 从所给的四个选项中，选择最合适的一个填入问号处，使之呈现一定的规律性：



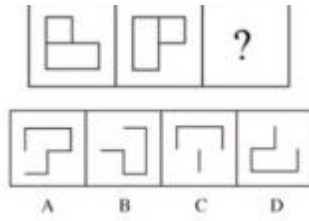
A

B

C

D

22. (2019 年45%) 从所给的四个选项中，选择最合适的一个填入问号处，使之呈现一定的规律性：



23. (2018 年 83%) 把下面的六个图形分为两类，使每一类图形都有各自的共同特征或规律，分类正确的一项是：



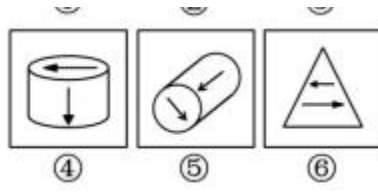
A. ①②⑥ ， ③④⑤

B. ①③④ ， ②⑤⑥

C. ①④⑤ ， ②③⑥

D. ①④⑥ ， ②③⑤

24. (2014 年 95%) 把下面的六个图形分为两类，使每一类图形都有各自的共同特征或规律，分类正确的一项是：



A. ①③⑤ , ②④⑥

C. ①④⑤ , ②③⑥

B. ①②⑤ , ③④⑥

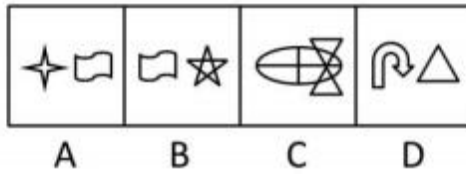
D. ①③④ , ②⑤⑥

☆考点七：定性分析与定量分析

团 涉及考点：

定性分析——整体部分、封闭开放、曲直；定量分析—— 曲线、面、角（直角）、元素

25. (2014 年91%) 从所给的四个选项中，选择最合适的一个填入问号处，使之呈现一定的规律性：



26. (2015 年 88%) 把下面的六个图形分为两类，使每一类图形都有各自的共同特征或规律，分类正确的

一项是：



A. ①②⑥ ， ③④⑤

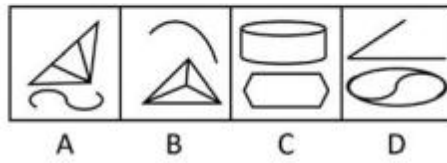
B. ①④⑤ ， ②③⑥

C. ①②⑤ ， ③④⑥

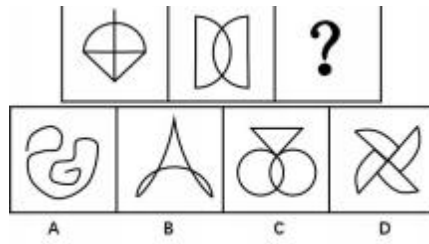
D. ①②③ ， ④⑤⑥



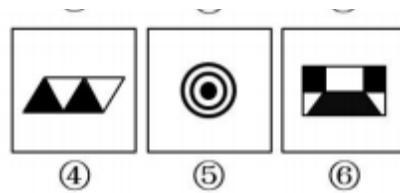
27. (2017 年 73%) 从所给的四个选项中，选出最合适的一个填入问号处，使之呈现一定的规律性：



28. (2017 年65%) 从所给的四个选项中，选出最合适的一个填入问号处，使之呈现一定的规律性：



29. (2020 年 63%) 把下面的六个图形分为两类，使每一类图形都有各自的共同特征或规律，分类正确的一项是：



- A. ①②③ ， ④⑤⑥
- C. ①③⑤ ， ②④⑥

- B. ①③④ ， ②⑤⑥
- D. ①②⑤ ， ③④⑥

30. (2022 年 56%) 从所给的四个选项中，选择最合适的一个填入问号处，使之呈现一定的规律性：



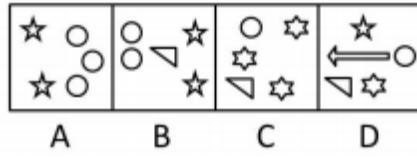
A

B

C

D

31. (2016 年68%) 从所给四个选项中，选择最合适的一个填入问号处，使之呈现一定规律性：



☆考点八：元素标记

32. (2017 年 77%) 把下面的六个图形分为两类，使每一类图形都有各自的共同特征或规律，分类正确的一项是：

一项是：



A. ①④⑥ ， ②③⑤

B. ①②③ ， ④⑤⑥

C. ①⑤⑥ ， ②③④

D. ①③⑤ ， ②④⑥

☆考点九：立体展开图

33. (2022 年42%) 下列纸盒的外表面展开图中, 哪项折叠成的纸盒和其他三个不一样:



A



B

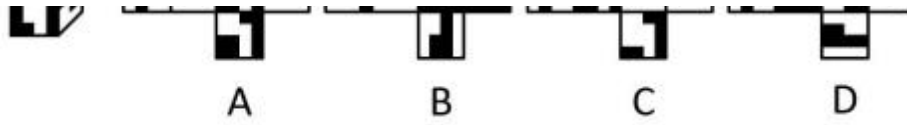


C



D

34. (2021 年 57%) 左图给定的是正方体纸盒，右边哪项可能是其正确的外表面展开图：



35. (2020 年 60%) 下图为给定的多面体及其外表面展开图，问字母 A. B. C. D 和数字 1、2、3、4 代表的棱的对应关系为：



- A. 1-C, 2-A, 3-B, 4-D
- C. 1-A, 2-C, 3-D, 4-B

- B. 1-A, 2-C, 3-B, 4-D
- D. 1-C, 2-A, 3-D, 4-B

☆考点十：立体截面图/透视图/立体拼合

36. (2022 年 73%) 左图是给定的空心立体图形，将其从任一面剖开，以下哪项可能是该立体图形的截面：

以上内容仅为本文档的试下载部分，为可阅读页数的一半内容。如要下载或阅读全文，请访问：<https://d.book118.com/987025043126010010>