

2010-2023 历年河北省存瑞中学高一第二次 月考地理试卷（带解析）

第 1 卷

一. 参考题库(共 25 题)

1.2001 年 3 月 28 日，国家第五次人口普查统计公布的结果表明：我国总人口

12.95 亿，十万人中，文化程度与 90 年代相比，变化情况如下表所示。阅读表中数据,回答小题。

A

大学程度

+154%

B

高中

+39%

C

初中

+45%

D

小学

-4%

E

大于 65 岁人口

+1.3%

【小题 1】A~D 栏反映我国基本国策的哪个方面（ ）

A. 人口数量得到有效控制

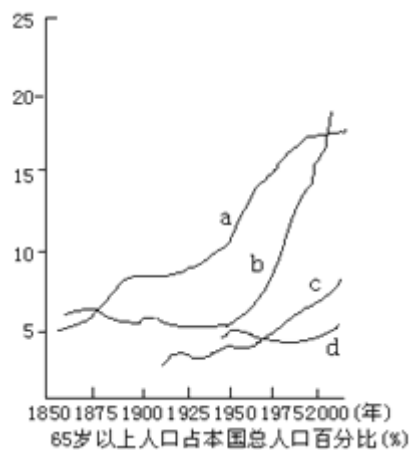
B. 人口素质逐步提高

- C. 小学失业率上升
- D. 文盲增多

【小题2】对E栏的说明，错误的是（ ）

- A. 老龄化问题逐渐明显，社会问题逐渐严重
- B. 老年人口增加很快
- C. 人口寿命延长，这是控制人口、实行计划生育和医疗卫生事业发展的结果
- D. 农村生产力低下是老龄化问题严重的地区

2.读“4个国家人口老龄化趋势图”，回答小题。



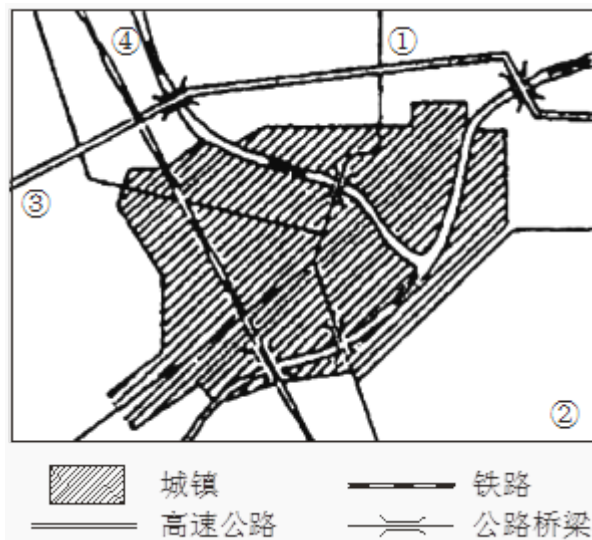
【小题1】与图中 a、b、c、d 四曲线排序相对应的一组国家是（ ）

- A. 瑞典、墨西哥、日本、中国
- B. 瑞典、日本、中国、墨西哥
- C. 中国、墨西哥、日本、瑞典
- D. 日本、瑞典、墨西哥、中国

【小题2】有关以上四国人口老龄化趋势的叙述，正确的是（ ）

- A. 瑞典是北欧国家，二战后人口年龄结构呈年轻型
- B. 日本是工业发达国家，从第二次科技革命开始人口年龄结构一直呈老年型
- C. 中国 20 世纪 70 年代控制人口数量增长，人口老龄化有所抬升
- D. 墨西哥属于北美洲，二战后人口老龄化加剧

3.下图是“我国某城市及某郊区土地利用图”。该城市位于 116°E ，6月22日的正午太阳高度为 $75^{\circ}26'$ 。据此回答小题。



【小题1】该城市计划在①②③④处空白地上新建一些工厂，从经济效益、环境效益和社会效益方面考虑，其中布局合理的是

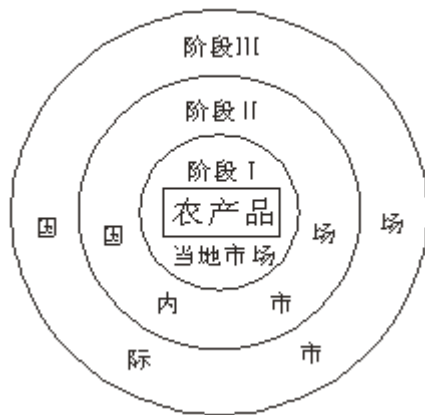
- A. ①处建机修厂
- B. ②处建水泥厂
- C. ③处建电视机厂
- D. ④处建化工厂

【小题2】从产业结构方面分析，该城市的郊区，农业产业结构发展方向合理的是

- ①利用当地气候优势条件，大力种植热带经济作物并发展相关加工工业
- ②实现农、林、牧、渔各业均衡发展
- ③在城市近郊重点发展蔬菜、乳肉禽蛋生产基地，在远郊地区发展粮棉基地
- ④在稳定农业的基础上，积极发展以当地农产品为原料的加工工业

- A. ①③
- B. ③④
- C. ①④
- D. ②③

4.下图表示农产品市场开拓的一般模式。参考下图回答小题。



【小题 1】处于阶段Ⅲ农业的显著特征是

- A. 大农场生产
- B. 生产专业化
- C. 集中于温带草原地区
- D. 主要分布在地广人稀地区

【小题 2】有助于促进我国农产品市场开拓的最重要措施是

- A. 进行农业区划
- B. 加强水利建设
- C. 建立商品农业生产基地
- D. 退耕还林还草

【小题 3】在市场开拓过程中，与提高农产品市场竞争力没有直接关系的措施是

- A. 加大技术投入
- B. 加强市场营销
- C. 改善交通条件
- D. 大量使用农药

5.工业区位受原料产地的制约越来越小，主要是因为

- A. 产品重量和体积增加
- B. 运输条件和生产工艺的改进
- C. 产品质量和价格提高
- D. 劳动力价格和产品需要下降

6.我国近年来“温室无土栽培生产”得到推广的重要因素是

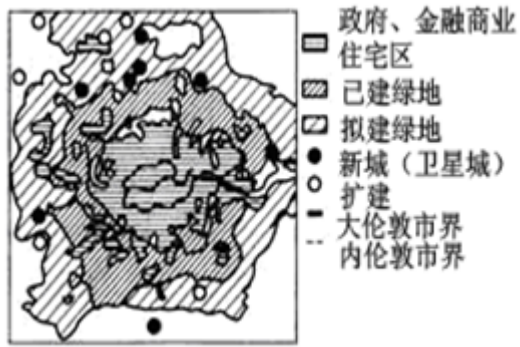
- A. 农业气候条件好
- B. 热量和水份的需要
- C. 城市和工业发展的需要
- D. 市场经济和农业技术发展

7.青藏高原上的冬小麦穗大粒重、产量高的主要原因有

- ①白天太阳辐射强，日照时间长，有利于植物进行光合作用
- ②气温偏低，水分蒸发少，很少有自然灾害发生
- ③夜间近地面气温迅速下降，农作物呼吸减弱，消耗的营养物质少
- ④开发晚，土壤养分丰富

- A. ①②
- B. ③④
- C. ①③
- D. ②④

8.读伦敦的城市规划和布局示意图,回答小题：



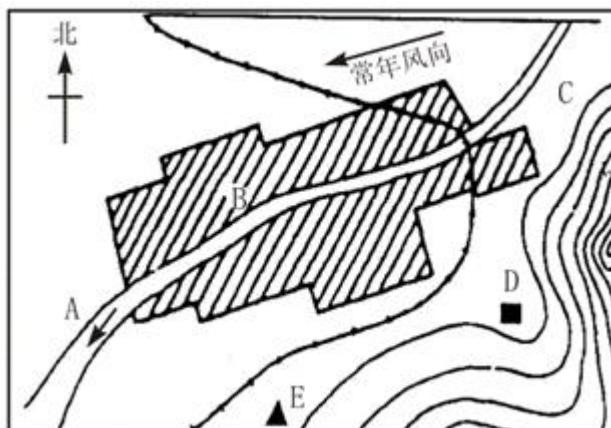
【小题 1】伦敦城市地域结构模式属于 ()

- A. 同心圆模式
- B. 扇形模式
- C. 多核心模式
- D. 块状模式

【小题 2】伦敦曾经出现了严重的环境污染,为改善城市环境,采取的主要措施是 ()

- A. 分散和减少大城市功能
- B. 在城市周围建设新城和卫星城
- C. 把政治职能为主的首都和经济完全分离
- D. 选择新址,建新首都

9.读图回答下列问题。(12分)



(1)如果在该城市配置自来水厂、化工厂、钢铁厂、水力发电厂、服装厂，应分别配置在 A、B、C、D、E 中的哪一点比较合适，并简要说明理由。

①自来水厂应在_____，理由_____。

②化工厂应在_____，理由_____。

③钢铁厂应在_____，理由_____。

④服装厂应在_____，理由_____。

⑤火电厂应在_____，理由_____。

(2)如果在城外绿化造林，应如何规划？

10.运费构成中对工业区位选择影响最小的是

- A. 原材料重量轻，产品价值低
- B. 原材料重量大，产品价值高
- C. 原材料重量大，产品价值低
- D. 原材料重量轻，产品价值高

11.为了减少运费，最需要接近市场的是

- A. 制糖厂
- B. 造船厂
- C. 瓶装饮料厂
- D. 高级时装厂

12.我国加入 WTO 以后，粮棉生产受到的冲击最大，花卉、园艺业有较大优势。

据此回答小题

【小题 1】我国粮棉受到冲击的原因是

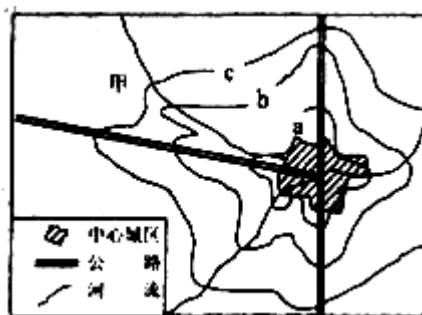
- A. 没有国际市场的销售经验

- B. 生产效率低，产品价格高于国际平均价格
- C. 产区交通不便，距离市场远
- D. 国民崇尚洋货的消费心理影响

【小题 2】我国花卉、园艺业的优势主要在于

- ①市场广阔 ②科技水平高 ③劳动力成本低 ④土地价格低
- A. ①②
 - B. ②③
 - C. ③④
 - D. ①④

13.经济因素是市场经济条件下影响城市功能分区的主要原因。读某城市地租分布等值线图，判断小题。



【小题 1】据考证：该城市早期商业活动主要集中在沿河地区。据此可推知该城的地域形态是（ ）

- A. 集中式
- B. 组团式
- C. 分散式或块状
- D. 条带式或放射状

【小题 2】图中，等值线 a、b、c 的付租能力关系是（ ）

- A. $a > b > c$
- B. $a < b < c$

C. $a = b > c$

D. $a > b = c$

【小题3】造成图中局部地区地租分布等值线由中心向外凸出的主要因素是（
）

A. 地形条件

B. 交通条件

C. 人口分布状况

D. 早期商业活动

【小题4】近年来甲地出现了高级住宅群，主要原因是该地（
）

A. 位于城市外缘，环境质量好

B. 远离中心城区，地价便宜

C. 地势开阔，便于建立工业区

D. 位于河流附近，取水方便

14. 伊利、蒙牛等品牌的乳制品能大量在南方一些大城市销售，下列原因正确的是

①现代交通工具的发展

②冷藏设备的广泛运用

③城市生活水平高，市场消费量大

④国家政策鼓励向南方销售

A. ①②③

B. ①④②

C. ②③④

D. ①③④

15. 上海市郊近些年来塑料大棚菜田发展迅速的原因是

A. 平原地形为主

B. 雨热同季的气候

- C. 城市市场需求量大
- D. 农业技术的推广

16. 读下图，回答问题。（10分）

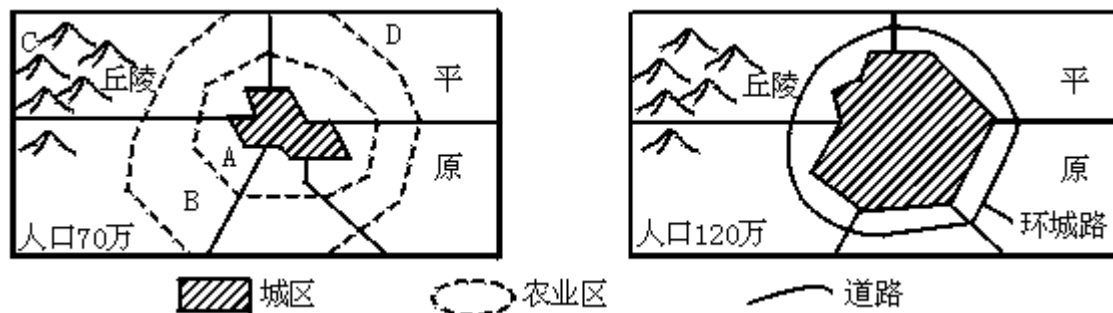


图 1

图 2

(1) 图 1 为某城市郊区农业区位图，计划布局以下农业区：

① 粮食产区 ② 花卉蔬菜园艺区 ③ 乳肉家禽畜牧业区 ④ 果树林区合理的布局是(填代号)

A 为 _____， B 为 _____， C 为 _____， D 为 _____。

布局②的理由是 _____。

(2) 该城市发展到图 2 时，据图信息分析，城市的发展对农业生产的压力及对策。

压力： _____；

对策： _____；

17. 下列何种气候类型最适宜于水稻生产

- A. 季风气候区
- B. 温带大陆性气候区
- C. 地中海气候区
- D. 温带海洋性气候区

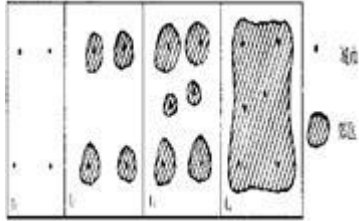
18. 某外商欲在长江三角洲地区建立集成电路生产厂，选择厂址时优先考虑的因素有

- ① 临近原料地
- ② 靠近市场

③有高素质科技人员 ④临近机场和高速公路

- A. ①②③
- B. ②④
- C. ③④
- D. ①③④

19. 下图表示一个地理事物由 t1 至 t4 的发展过程，读图完成下列要求：(10 分)



(1) 在这个过程中城市的变化特征是①____，②____，③_____。

(2) 在这个过程中城市人口比重的变化趋势是_____。

(3) 此过程被称之为_____。

(4) 该过程可能给社会生产和生活带来的不良影响有____，____，____，
____，_____。

20. 世界上最大的商品谷物生产国是

- A. 中国
- B. 美国
- C. 法国
- D. 俄罗斯

21. 有关农业区位及其影响因素的叙述，正确的是

- A. 交通运输因素对农业区位选择的影响最为突出
- B. 自然因素是农业区位选择必须考虑的因素
- C. 上海郊区的乳畜业区位选择的主导因素是政府政策
- D. 宁夏平原的水稻种植业区位选择的主导因素是市场

22. 读澳大利亚某区域示意图。

以上内容仅为本文档的试下载部分，为可阅读页数的一半内容。

如要下载或阅读全文，请访问：

<https://d.book118.com/988100106120007001>