



四海教育  
SIHAI EDUCATION

——◆ 2023·国家公务员笔试 ◆——

# 判断推理

行测高频考点梳理 | 讲义

花生十三·授课



<b>2013~2022 年国考·判断推理一图推部分考情分析</b> .....	<b>1</b>
☆考点一：背景图类 .....	2
☆考点二：对称类 .....	4
☆考点三：分割图类 .....	5
☆考点四：圆提示 .....	6
☆考点五：笔画数提示 .....	7
☆考点六：位置关系 .....	8
☆考点七：定性分析与定量分析 .....	10
☆考点八：元素标记 .....	12
☆考点九：立体展开图 .....	12
☆考点十：立体截面图/透视图/立体拼合 .....	13
<b>2013~2022 年国考·判断推理一类比部分考情分析</b> .....	<b>15</b>
☆考点一：单一逻辑关系 .....	15
☆考点二：复合逻辑关系 .....	18
☆考点三：语义和语法关系 .....	19
☆考点四：本质思维和常规思维 .....	20

2013~2022 年国考·判断推理—逻辑部分考情分析 .....	22
☆考点一：归因类 .....	23
☆考点二：一般质疑类 .....	26
☆考点三：支持类 .....	27
☆考点四：前提假设类 .....	28
☆考点五：解释说明类 .....	29
☆考点六：推出类 .....	29
☆考点七：分析类 .....	31
☆考点八：一拖五 .....	32

# 2013~2022 年国考·判断推理—图推部分考情分析

## ==// 十大高频考点 //==

### ☞ 考点一：背景图类（9 道题）

——数量（1 道题）、移动（1 道题）、部分数（2 道题）、笔画数（1 道题）、对称（3 道题）、叠加（1 道题）

### ☞ 考点二：对称类（11 道题）

——对称性质（2 道题）、对称轴数量（1 道题）、对称轴方向（4 道题）、对称轴过点过线（3 道题）、对称轴位置关系（1 道题）

### ☞ 考点三：分割图类（6 道题）

——相似图形（3 道题）、分割线条数/性质（3 道题）

### ☞ 考点四：圆提示（6 道题）

——圆上点（5 道题）、圆内点（1 道题）

### ☞ 考点五：笔画数提示（8 道题）

### ☞ 考点六：位置关系（16 道题）

——移动（6 道题）、叠加（8 道题）、连接方式（1 道题）、方向（1 道题）

### ☞ 考点七：定性分析与定量分析（14 道题）

——整体部分（1 道题）、封闭开放（1 道题）、曲直（2 道题）

——曲线数量（2 道题）、面数量（5 道题）、直角数量（2 道题）、元素数量（1 道题）

### ☞ 考点八：元素标记（5 道题）

### ☞ 考点九：立体展开图（12 道题）

### ☞ 考点十：立体截面图/透视图/拼合（23 道题）

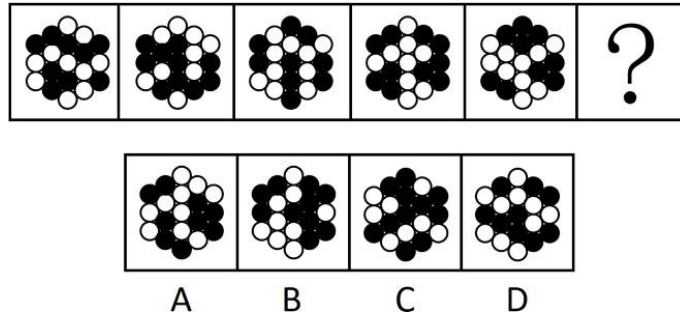
——立体截面图（9 道题）、立体透视图（3 道题）、立体拼合（11 道题）

☆考点一：背景图类


☑ 涉及考点：

数量、移动、部分数、笔画数、对称、叠加

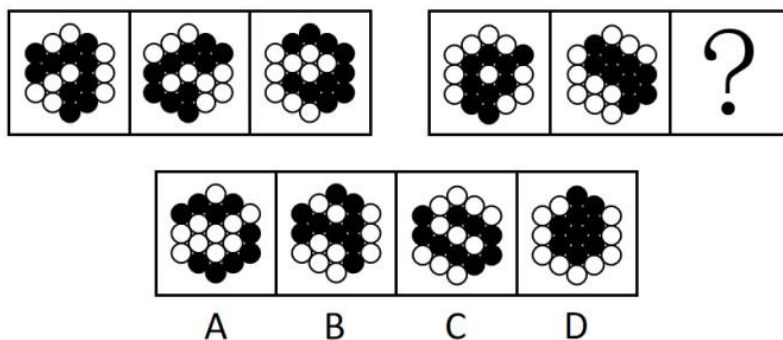
1. (2022年 64%) 从所给的四个选项中，选择最合适的一个填入问号处，使之呈现一定的规律性：



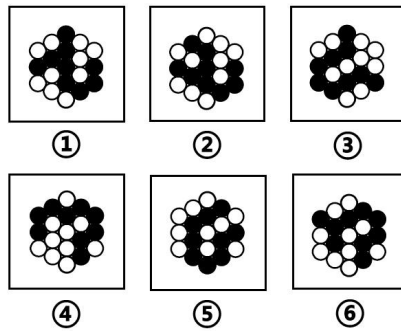
2. (2022年 61%) 从所给的四个选项中，选择最合适的一个填入问号处，使之呈现一定的规律性：



3. (2022年 75%) 从所给的四个选项中，选择最合适的一个填入问号处，使之呈现一定的规律性：

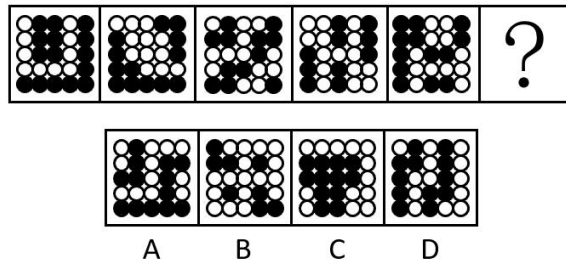


4. (2021年 66%) 把下面的六个图形分为两类，使每一类图形都有各自的共同特征或规律，分类正确的一项是：

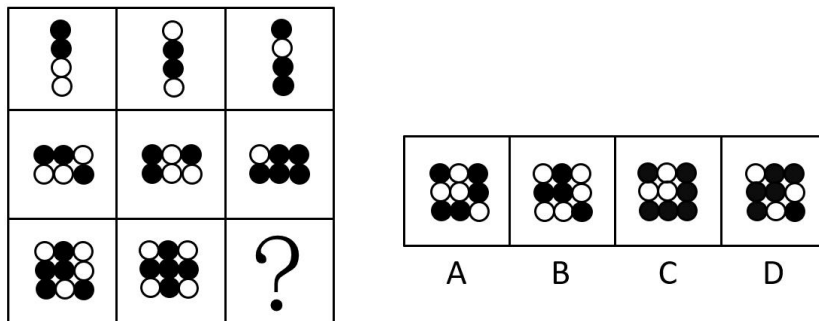


- A. ①③④, ②⑤⑥  
 B. ①③⑤, ②④⑥  
 C. ①②⑥, ③④⑤  
 D. ①④⑥, ②③⑤

5. (2021年 56%) 从所给的四个选项中，选择最合适的一个填入问号处，使之呈现一定的规律性：



6. (2020年 78%) 从所给的四个选项中，选择最合适的一个填入问号处，使之呈现一定的规律性：




☆考点二：对称类

☑ 涉及考点：

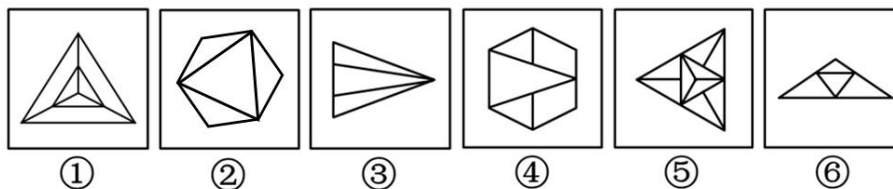
对称性质、对称轴数量、对称轴方向、对称轴过点过线、对称轴位置关系

7. (2014年 86%) 把下面的六个图形分为两类，使每一类图形都有各自的共同特征或规律，分类正确的一项是：



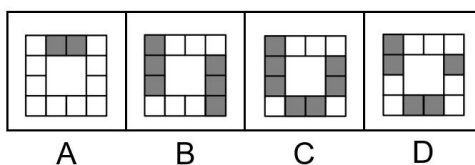
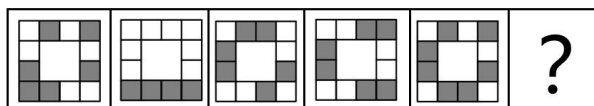
- A. ①③④, ②⑤⑥
- B. ①③⑤, ②④⑥
- C. ①②⑥, ③④⑤
- D. ①④⑥, ②③⑤

8. (2015年 64%) 把下面的六个图形分为两类，使每一类图形都有各自的共同特征或规律，分类正确的一项是：



- A. ①⑤⑥, ②③④
- B. ①③⑤, ②④⑥
- C. ①②③, ④⑤⑥
- D. ①②⑤, ③④⑥

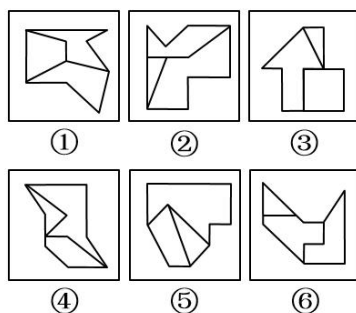
9. (2021年 68%) 从所给的四个选项中，选择最合适的一个填入问号处，使之呈现一定的规律性。







13. (2020年 54%) 把下面的六个图形分为两类，使每一类图形都有各自的共同特征或规律，分类正确的一项是：



A. ①④⑥, ②③⑤

B. ①③⑤, ②④⑥

C. ①②⑥, ③④⑤

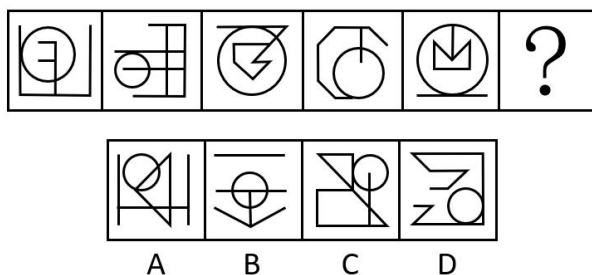
D. ①③④, ②⑤⑥

☆考点四：圆提示

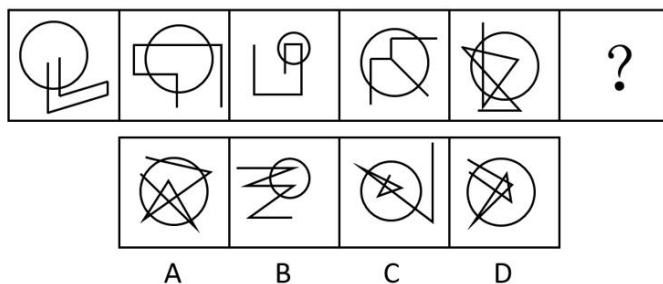
☑ 涉及考点：

圆内点、线、面；圆上点；圆内外关系

14. (2021年 90%) 从所给的四个选项中，选择最合适的一个填入问号处，使之呈现一定的规律性：



15. (2018年 59%) 从所给的四个选项中，选出最合适的一个填入问号处，使之呈现一定的规律性：

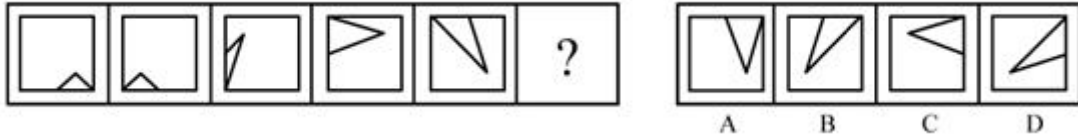




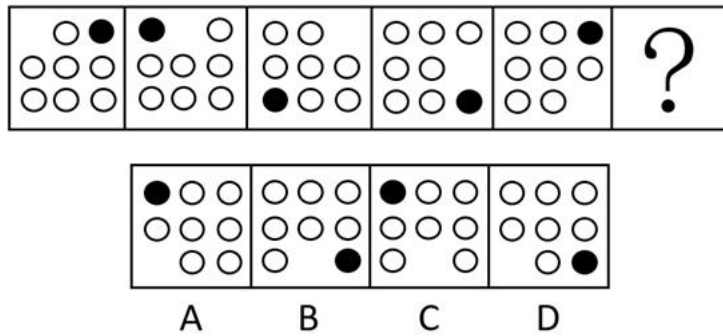
☆考点六：位置关系

☑ 涉及考点：移动、叠加、连接方式、方向


19. (2019年 70%) 从所给的四个选项中，选择最合适的一个填入问号处，使之呈现一定的规律性：




20. (2017年 89%) 从所给的四个选项中，选出最合适的一个填入问号处，使之呈现一定的规律性：



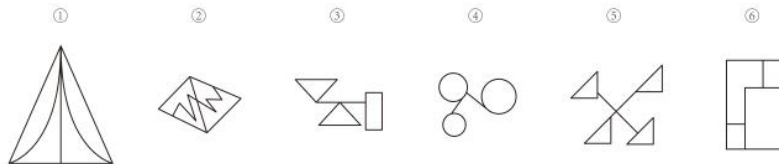
21. (2022年 87%) 从所给的四个选项中，选择最合适的一个填入问号处，使之呈现一定的规律性：



22. (2019年 45%) 从所给的四个选项中，选择最合适的一个填入问号处，使之呈现一定的规律性：

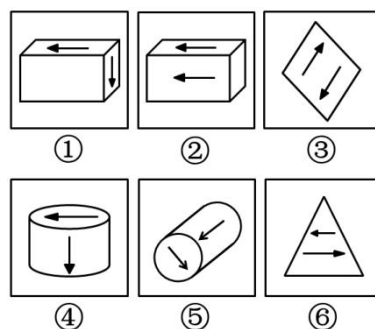


23. (2018年 83%) 把下面的六个图形分为两类，使每一类图形都有各自的共同特征或规律，分类正确的一项是：



- A. ①②⑥, ③④⑤
- B. ①③④, ②⑤⑥
- C. ①④⑤, ②③⑥
- D. ①④⑥, ②③⑤

24. (2014年 95%) 把下面的六个图形分为两类，使每一类图形都有各自的共同特征或规律，分类正确的一项是：



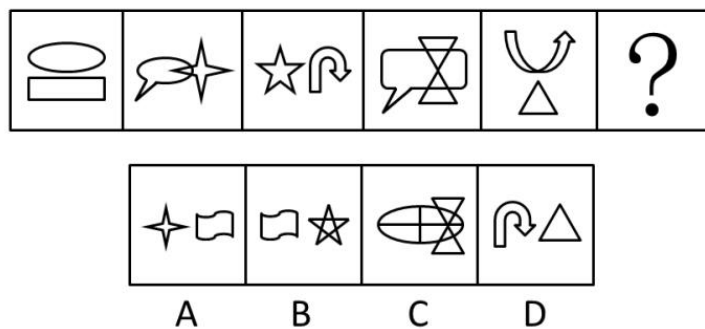
- A. ①③⑤, ②④⑥
- B. ①②⑤, ③④⑥
- C. ①④⑤, ②③⑥
- D. ①③④, ②⑤⑥

☆考点七：定性分析与定量分析

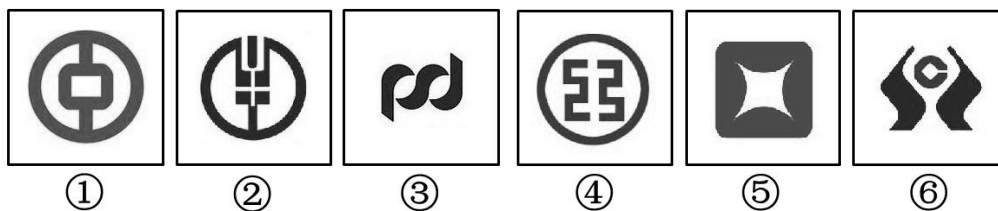
☑ 涉及考点：

定性分析——整体部分、封闭开放、曲直；定量分析——曲线、面、角（直角）、元素

25. (2014年 91%) 从所给的四个选项中，选择最合适的一个填入问号处，使之呈现一定的规律性：

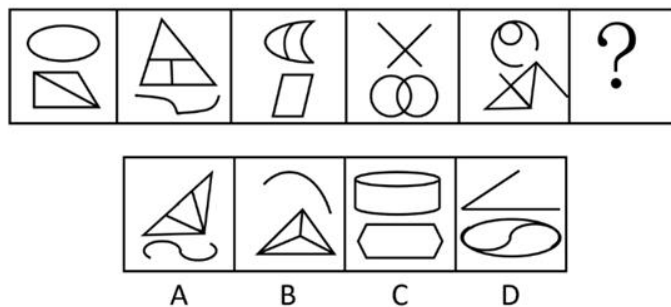


26. (2015年 88%) 把下面的六个图形分为两类，使每一类图形都有各自的共同特征或规律，分类正确的一项是：




- A. ①②⑥, ③④⑤
- B. ①④⑤, ②③⑥
- C. ①②⑤, ③④⑥
- D. ①②③, ④⑤⑥


27. (2017年 73%) 从所给的四个选项中，选出最合适的一个填入问号处，使之呈现一定的规律性：



28. (2017年 65%) 从所给的四个选项中，选出最合适的一个填入问号处，使之呈现一定的规律性：

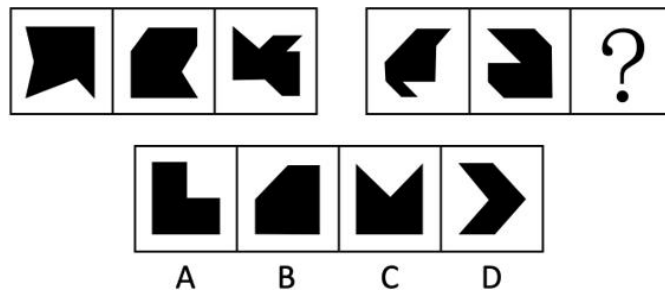


29. (2020年 63%) 把下面的六个图形分为两类，使每一类图形都有各自的共同特征或规律，分类正确的一项是：

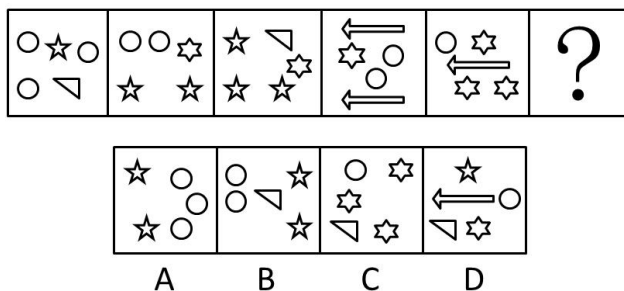


- A. ①②③, ④⑤⑥  
 B. ①③④, ②⑤⑥  
 C. ①③⑤, ②④⑥  
 D. ①②⑤, ③④⑥

30. (2022年 56%) 从所给的四个选项中，选择最合适的一个填入问号处，使之呈现一定的规律性：

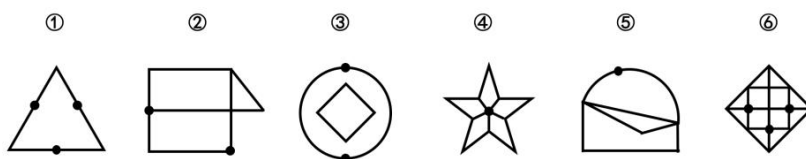


31. (2016年 68%) 从所给四个选项中，选择最合适的一个填入问号处，使之呈现一定规律性：



☆考点八：元素标记

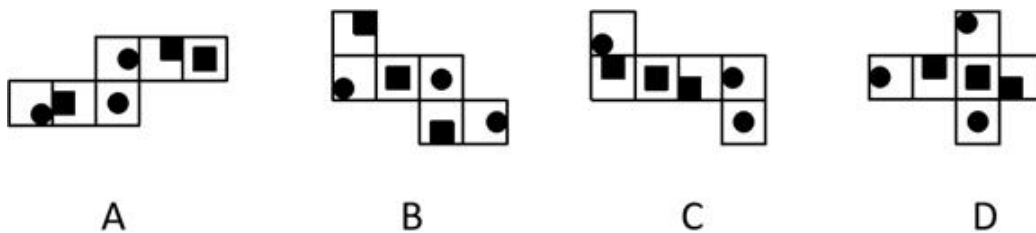
32. (2017年 77%) 把下面的六个图形分为两类，使每一类图形都有各自的共同特征或规律，分类正确的一项是：



- A. ①④⑥, ②③⑤
- B. ①②③, ④⑤⑥
- C. ①⑤⑥, ②③④
- D. ①③⑤, ②④⑥

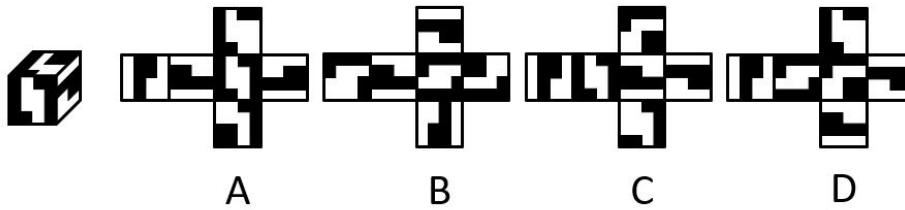
☆考点九：立体展开图

33. (2022年 42%) 下列纸盒的外表面展开图中，哪项折叠成的纸盒和其他三个不一样：

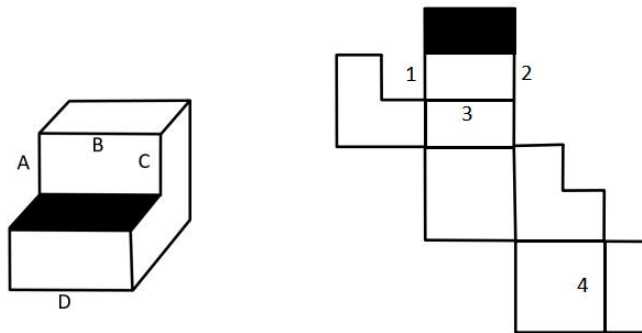




34. (2021年 57%) 左图给定的是正方体纸盒，右边哪项可能是其正确的外表面展开图：



35. (2020年 60%) 下图为给定的多面体及其外表面展开图，问字母 A. B. C. D 和数字 1、2、3、4 代表的棱的对应关系为：



A. 1-C, 2-A, 3-B, 4-D

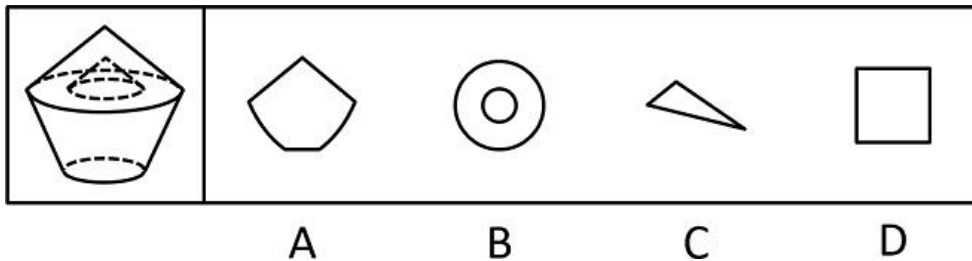
B. 1-A, 2-C, 3-B, 4-D

C. 1-A, 2-C, 3-D, 4-B

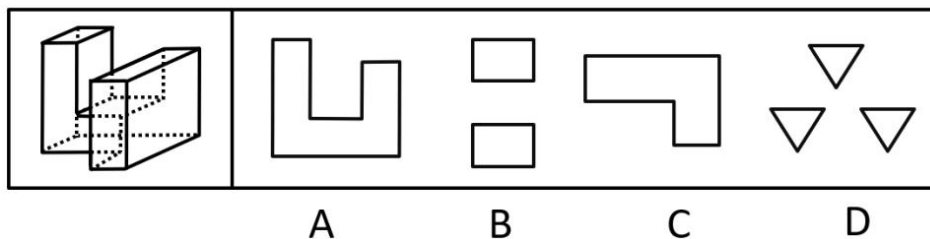
D. 1-C, 2-A, 3-D, 4-B

☆考点十：立体截面图/透视图/立体拼合

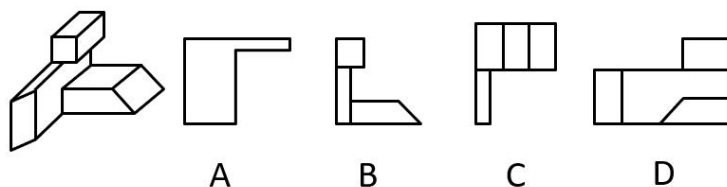
36. (2022年 73%) 左图是给定的空心立体图形，将其从任一面剖开，以下哪项可能是该立体图形的截面：



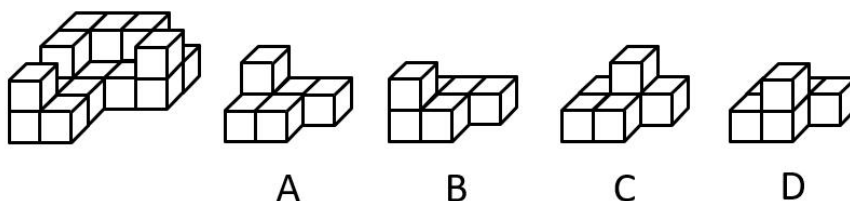
37. (2020年 62%) 左图是给定的多面体，将其从任一面剖开，下面哪一项不可能是该多面体的截面？



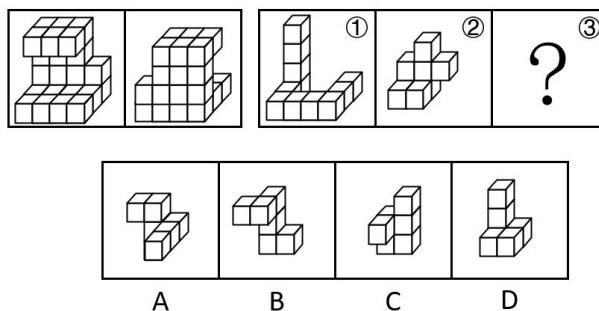
38. (2021年 78%) 左图为给定的多面体，从任一角度观看，右边哪项可能是该多面体的视图：



39. (2021年 55%) 左图给定的是由 18 个相同大小的正方体组合成的多面体，这个多面体可以切割为 3 个完全相同的小多面体，问切成的小多面体是：



40. (2021年 53%) 左图给定的是由相同正方体堆叠成的多面体的正视图和后视图。该多面体可以由①、②和③三个多面体组合而成，问以下哪一项能填入问号处？



## 2013~2022 年国考·判断推理一类比部分考情分析

### ====// 四大高频考点 //====

#### ☞考点一：单一逻辑关系（46 道题）

——全同关系（2 道题）、并列关系（4 道题）、包含关系（12 道题）、交叉关系（5 道题）、原因目的对应（11 道题）、原材料对应（4 道题）、功能对应（2 道题）、时间顺序对应（6 道题）

#### ☞考点二：复合逻辑关系（12 道题）

——常见形式为辨析三个词之间的关系，最常见的关系为包含关系、交叉关系和并列关系

#### ☞考点三：语义和语法关系（22 道题）

——语义主要考察成语的近义和反义、词语比喻义、古诗句象征义；对于语法考察较少

#### ☞考点四：本质思维和常规思维（27 道题）

——本质思维和常规思维主要侧重于对常识、常见事物之间联系的考察

### ☆考点一：单一逻辑关系

#### 一、全同关系

##### 1.（2019 年 87%）分母：除数

- |            |            |
|------------|------------|
| A. 内角：外角   | B. 加减法：乘法  |
| C. 横坐标：纵坐标 | D. 百分比：百分率 |

#### 二、并列关系

##### 2.（2022 年 48%）呼吸系统：生殖系统

- |              |              |
|--------------|--------------|
| A. 生产计划：年度计划 | B. 观赏花卉：药用花卉 |
| C. 水面舰艇：巡洋舰艇 | D. 简牍公文：纸质公文 |

以上内容仅为本文档的试下载部分，为可阅读页数的一半内容。如要下载或阅读全文，请访问：<https://d.book118.com/995034113234012012>